

**III Международная олимпиада
по окружающему миру
«Моя планета. Природа и её обитатели»
(для учащихся 1 классов)**

**Мир конкурсов
ЛИДЕР**
www.mir-konkursov.ru

Задания

Ответ должен быть представлен строго в виде **ОДНОГО СЛОВА**, **БУКВЫ** или **ЧИСЛА** (согласно условию задания) без кавычек, точек, орфографических ошибок. Некоторые вопросы содержат подсказку – буквы ответа. Букву «ё» можно писать как «ё» или как «е». Неверно записанные ответы не учитываются.

Задание №1

Птичий дворик

Вспоминай, как называются большие группы, которые образуют птицы перед отлётом в тёплые края?

1. Стая
2. Стадо
3. Рой

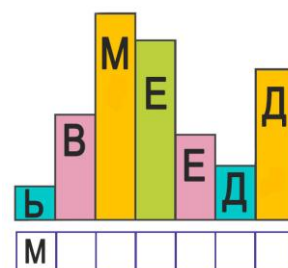
В ответе укажи только номер выбранного варианта (1 или 2 или 3)

Задание №2

Прочитай название животного по буквам (от самой высокой книги до самой низкой). Впиши эти буквы в клеточки и ты узнаешь, кто спрятался в лесу.

М _ _ _ _ _

В ответе запиши получившееся слово



Задание №3

Живая и неживая природа совместно образуют наш мир как единое целое. Живая природа – это всё, что имеет возможность расти, дышать, питаться и развиваться.

Определи, какую картинку можно отнести к живой природе.



В ответе напиши только номер выбранного варианта (1 или 2 или 3 или 4)

Задание №4

Невозможно представить урок географии без этого предмета. Это сильно уменьшенная копия нашей планеты, по которой очень легко и удобно изучать нашу родную Землю. В ответе запиши название этого загадочного предмета.


_ _ _ _ _

В ответе запиши только одно слово



Задание №5

Найди на картинке животное, обитающее в суровых северных широтах.



В ответе напиши только номер выбранного варианта (1 или 2 или 3 или 4)

Задание №6

Животный гастроном

Запасливых зверьков много и все они усердно трудятся всё лето и осень, чтобы пережить зиму.

А какое из этих животных не делает запасов на зиму?

1. Заяц
2. Белка
3. Мышь

В ответе напиши только номер выбранного варианта (1 или 2 или 3)

Задание №7

Цитрусовые растения богаты витаминами и с радостью приходят на помощь для укрепления организма.

Самый известный цитрус – лимон. Под каким номером на картинке изображён его ближайший родственник?



В ответе укажи только номер выбранного варианта (1 или 2 или 3)

Задание №8

Этот цветок, похожий на маленькое золотое солнышко, растет повсюду — в огородах и садах, вблизи домов и по обочинам дорог, на лугах и в полях. Носит желтый сарафанчик. А отцветая, надевает белую пушистую шапочку, которая разлетается маленькими парашютиками, стоит лишь подуть на неё.

О каком необычном растении идёт речь?

1. Ромашка
2. Одуванчик
3. Хризантема



В ответе укажи только номер выбранного варианта (1 или 2 или 3)

Задание №9

Остров Страноведения

Проверь себя и закончи загадку:

Край снегов, морозов, вьюг
Называют словом...

1. Юг
2. Запад
3. Север
4. Восток

В ответе укажи только номер выбранного варианта (1 или 2 или 3 или 4)

Задание №10

МЫ В ЛЕСУ ГРИБЫ НАШЛИ. ТОЛЬКО ВСЕ ЛИ В СУП ПОШЛИ?

Какой из этих грибов не стоит нести домой?



В ответе укажи только номер выбранного варианта (1 или 2 или 3)

Задание №11

НЕ ПРИСЛОНЯТЬСЯ

Какое животное «спрятано» в этой надписи?

— — — — —

В ответе запиши название животного

Задание №12

Этот цветок растет на бескрайних полях в лесостепной зоне нашей Родины. Его называют «цветком солнца» или солнечным цветком, а из его семян изготавливают полезное масло.

1. Ромашка
2. Подсолнух
3. Одуванчик

В ответе укажи только номер выбранного варианта (1 или 2 или 3)

Задание №13

Они – самые высокие растения на земле. Бывают лиственными, хвойными, пальмовыми... Думаю, сейчас ты быстро вспомнишь, о чём идёт речь!

— е — — — — я

В ответе запиши только одно слово

Задание №14

Узнай птичку по описанию!


Птица хороша, наш красавец – выглядит настоящим франтом: красногрудая птичка с черной шапочкой на голове. Спинку украшает буровато-серый пиджачок. На груди и брюшке развеваются, как жар, красный фартук и красная рубашка.

1. Дятел
2. Снегирь
3. Воробей

В ответе напиши только номер выбранного варианта (1 или 2 или 3)

Задание №15

Лето любит баловать нас вкусными плодами различных ягод, фруктов и овощей. Внимательно рассмотри картинку и определи, к какой группе растений относятся изображённые на ней предметы. Выбери лишний и запиши его номер в ответе.



В ответе укажи только номер выбранного варианта (1 или 2 или 3 или 4)

Уважаемые ребята, родители и координаторы!

Мы будем очень благодарны Вам за оставленный отзыв о конкурсе.

Нам очень важно знать ваше мнение о конкурсных заданиях. Что нового вы узнали, участвуя в конкурсе? Какие задания показались лёгкими? А какие самыми сложными? Что вам не понравилось? Хотели бы вы ещё участвовать в подобных конкурсах?

Ждём все Ваши предложения, пожелания и замечания на наши электронные адреса:

mir-konkursov2008@yandex.ru и mir-konkursov2018@yandex.ru