

**II Международный межпредметный турнир
для учащихся начальной школы
«Юный Эрудит»
(для учащихся 2 классов)**


Задания

Ответ должен быть представлен строго в виде **ОДНОГО СЛОВА**, **БУКВЫ** или **ЧИСЛА** (согласно условию задания) без кавычек, точек, орфографических ошибок. Некоторые вопросы содержат подсказку – буквы ответа. Неверно записанные ответы не учитываются.

Задание №1

Занимательная логика

Выбери зелёный предмет, но не овощ.




В ответе укажи только номер выбранного варианта (1 или 2 или 3 или 4 или 5)

Задание №2

Волшебные фигуры

В каких фигурах находится хомяк на картинке справа?

- 1)
- 2)
- 3)



В ответе укажи только номер выбранного варианта (1 или 2 или 3)

Задание №3

Грамматическая математика

Ребята любят играть в грамматическую математику и «собирать» слова. Попробуй и ты! Какое слово у тебя получилось?

ТИГР – Т + УШИ – И + КАТОК – ТОК

В ответе запиши получившееся слово

Задание №4

Весёлые ребусы

Разгадай ребус и узнаешь имя сказочного персонажа!


В ответе запиши получившееся слово

Задание №5

Зимняя арифметика

Посмотрите на картинку. На ней изображены снежные комки, которые скатали Петя и Вася для постройки снеговиков. На каждого снеговика понадобится 3 комка. Сколько снеговиков сделают ребята из этих комков?

В ответе запиши число снеговиков




Задание №6

Найди закономерность

Догадайся, что должно стоять вместо вопросительного знака на картинке справа.



1. Творог 2. Молоко 3. Яйца 4. Мёд



В ответе укажи только номер выбранного варианта (1 или 2 или 3 или 4)

Задание №7

Путешествие в Спортландию

Как известно, спорт любит сильных!

Назови спортивный снаряд для отработки ударов у боксеров. Также существует сочный, сладкий фрукт с одноименным названием.

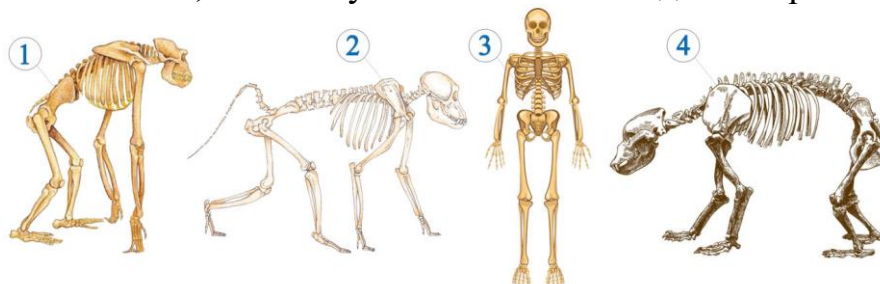
В ответе запиши получившееся слово

Задание №8

Увлекательная анатомия

Скелет – это «доспехи», внутри которых спрятаны органы нашего организма. Наши внутренние органы очень ранимы, и скелет защищает их от повреждений.

А как бы выглядел наш скелет, если бы убежал от нас? Найди на картинке скелет человека.



В ответе укажи только номер выбранного варианта (1 или 2 или 3 или 4)

Задание №9

Знарок русского языка

В каждой связке шаров есть лишний шарик. Найди каждый из них. Из найденных лишних шариков составь слово.



В ответе запиши получившееся слово

Задание №10

В мире животных

А это – представитель самых многочисленных обитателей побережья Антарктиды. Он бывает и антарктическим, и королевским, и золотоволосым, и императорским...

О какой такой птичке идет речь?

— и —

В ответе запиши название птицы



Задание №11

Эти удивительные птицы

Посмотри на картинку и выбери птицу, которая ухает.



В ответе укажи только номер выбранного варианта (1 или 2 или 3 или 4)

Задание №12

Путешествие по России

Эта русская деревянная игрушка в виде расписной куклы – один из самых известных и любимых всеми российских сувениров. Внутри нее находятся подобные ей куклы меньшего размера. Число вложенных кукол обычно от трёх и более. Как называется эта игрушка?



— а — — — — —

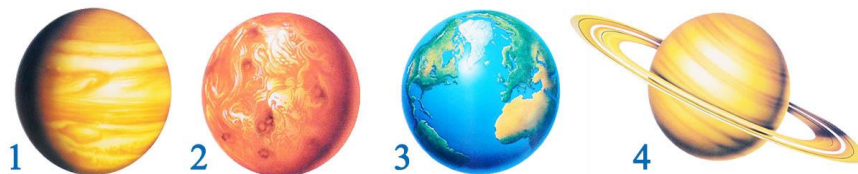
В ответе запиши название игрушки

Задание №13

Я открываю космос

Земля – это наша планета, пятая по величине в Солнечной системе. На поверхности нашей планеты больше воды, чем суши.

Посмотри на нашу планету глазами космонавта из космоса! Какое изображение ты увидишь?



В ответе укажи только номер выбранного варианта (1 или 2 или 3 или 4)

Задание №14

Игры со словами

Прочитай слово **ЛЕЙ**, а затем произнеси его звуки в обратном порядке. Какое новое слово при этом получилось? Найди его на картинке.



В ответе укажи только номер выбранного варианта (1 или 2 или 3)

Задание №15

Математика вокруг нас

Маша и Даша ехали к бабушке на поезде, в котором 12 вагонов. Маша села в шестой вагон от начала поезда, а Даша – в шестой от конца поезда. В одном ли вагоне ехали девочки?

1. Да
2. Нет

В ответе укажи только номер выбранного варианта (1 или 2)

Задание №16

В мире профессий

Повар, но только на корабле, называется по-особому. Вот подсказка: это слово из трёх букв читается одинаково слева направо и справа налево. Назови эту профессию!



— — —
В ответе запиши название профессии

Задание №17

Загадки окружающего мира

Выбери строчку, в которой перечислены **ТОЛЬКО** хвойные растения.

1. Лиственница, дуб, клен, ива
2. Ель, сосна, кедр, лиственница
3. Сосна, кедр, тополь, берёза

В ответе укажи только номер выбранного варианта (1 или 2 или 3)

Уважаемые ребята, родители и координаторы!

Мы будем очень благодарны Вам за оставленный отзыв о конкурсе.

Нам очень важно знать ваше мнение о конкурсных заданиях. Что нового вы узнали, участвуя в конкурсе? Какие задания показались лёгкими? А какие самыми сложными? Что вам не понравилось? Хотели бы вы ещё участвовать в подобных конкурсах?

Ждём все Ваши предложения, пожелания и замечания на наши электронные адреса:

mir-konkursov2008@yandex.ru и mir-konkursov2018@yandex.ru