

**Задания**

Ответ должен быть представлен строго в виде **ОДНОГО СЛОВА, БУКВЫ** или **ЧИСЛА** (согласно условию задания) без кавычек, точек, орфографических ошибок. Некоторые вопросы содержат подсказку – буквы ответа. Букву «ё» можно писать как «ё» или как «е». Неверно записанные ответы не учитываются.


**Задание №1**

Ёжик нарезал все свои яблоки на части и стал угощать друзей. Трём маленьким бельчатам досталось по четвертинке яблока, двум зайчатам по половинке. Большой медвежонок съел целое яблоко. Последнюю четвертинку яблока Ёжик съел сам. Сколько целых яблок было у Ёжика?

*В ответе запиши только одно число*

**Задание №2**

К нам в гости пришли солнышки и принесли с собой буквы. Если расположить все эти солнышки в порядке возрастания – получится солнечное слово. Правильно собери его и запиши в ответ.



-----  
*В ответе запиши получившееся слово*

**Задание №3**

Машенька очень любит есть ягоды. Самая её любимая ягодка не красного цвета, и в её названии нет буквы «О». Найди любимую ягодку Машеньки на картинке.



*В ответе укажи только номер выбранного варианта (1 или 2 или 3 или 4)*

**Задание №4**

На день рождения Мишутки пришли медвежата из соседнего леса. Разгадай шифр и прочитай, какой подарок они ему приготовили.



	△	◇	☆	▽	□
■	п	д	к	м	ь
■	т	и	в	е	а
■	у	ю	о	л	ш
■	с	ц	б	г	р



*В ответе запиши получившееся слово*

**Задание №5**

В лукошке у Бабы-яги лежат мухоморы и поганки. Половина грибов в лукошке – мухоморы, остальные 5 – поганки. Сколько грибов лежит в лукошке у Бабы-яги?

*В ответе запиши количество грибов*

**Задание №6**

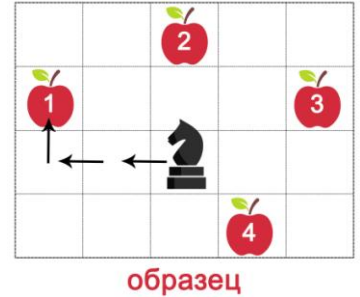
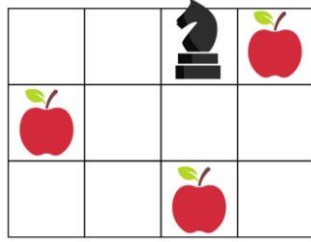
У мышат и цыплят 10 лапок и 3 головы. Сколько мышат и цыплят в нашей сказке?

*В ответе запиши только одно число*

### Задание №7

Молодильные яблочки рассыпались по поляне, и коню нужно собрать их все, пока они не испортились. За один ход конь двигается на две клетки прямо и одну вбок в любом направлении.

Какое наименьшее количество ходов нужно сделать коню, чтобы собрать все яблочки?



В ответе запиши только одно число

### Задание №8


«По щучьему велению, по моему хотению, пила, сама бревно пили, а топор – дрова коли», – сказал Емеля, и в тот же миг пила стала пилить бревно, а топор колоть чурбаки.

Сколько распилов должна сделать пила, чтобы распилить бревно на 6 частей?

В ответе запиши только одно число

### Задание №9

Белоснежка захотела сплести венок из цветочков. Поможешь? А то она запуталась, какой цветок нужно поставить на место вопросительного знака?



В ответе укажи только номер выбранного варианта (1 или 2 или 3)

### Задание №10

У Курочки Рябы сегодня день рождения, ей 2 года! Какой тортик она съест на празднике, если она не любит ягоды?



В ответе укажи только номер выбранного варианта (1 или 2 или 3 или 4 или 5)

### Задание №11


Тебе предстоит помочь Золушке навести порядок во дворце. Найди закономерность. Какая картинка будет следующей в ряду?



В ответе укажи только номер выбранного варианта (1 или 2 или 3)

### Задание №12

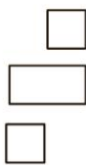
Посмотри внимательно на эту фигуру.



Из каких частей она состоит?



1



2



3



4

*В ответе укажи только номер выбранного варианта (1 или 2 или 3 или 4)*

### Задание №13

Баба-яга посещает своих друзей и у каждого гостит один день. Определи, у кого она будет гостить послезавтра?





↑ **сегодня**

*В ответе укажи только номер выбранного варианта (1 или 2 или 3 или 4 или 5 или 6)*

### Задание №14

Решите sudoku на картинке справа. Какую картинку надо вставить вместо знака вопроса, чтобы в каждой строке и в каждом столбце изображения не повторялись?



*В ответе укажи только номер выбранного варианта (1 или 2 или 3)*

### Задание №15

Лена, Антон, Ваня и Света отмечают свои дни рождения в один день. Каждому из них подарили праздничный торт с его возрастом. Известно, что Лена на год младше Антона, но на год старше Светы. Ване меньше всего лет. Какой торт подарили Свете?



*В ответе запиши номер торта Светы*

---

#### Оценка ответов на вопросы конкурса:

- за каждый правильный ответ на задания с 1 по 5 – 6 баллов
- за каждый правильный ответ на задания с 6 по 15 – 7 баллов