

II Всероссийская олимпиада по логике

«Я открываю Мир логики»

(для дошкольников)

Задания

Ответ должен быть представлен строго в виде **ОДНОГО ЧИСЛА** или **СЛОВА** (согласно условию задания) без кавычек, точек и других дополнительных символов. Неверно записанные ответы не учитываются.

Задание №1

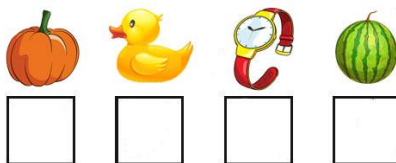
У Маши один целый апельсин и две половинки апельсина. Сколько всего апельсинов у Маши?

В ответе запиши число апельсинов



Задание №2


Расшифруй слово: для этого впиши в ячейки первые буквы названий предметов.



В ответе запиши получившееся слово

Задание №3

Какую картинку Гриша наклеил третьей на свою аппликацию?



В ответе укажи только номер картинки

Задание №4

Ребята, есть ли на картинке овощ из загадки: «Сто одежек и все без застёжек»?



1. Да
2. Нет

В ответе укажи только номер выбранного варианта (1 или 2)

Задание №5


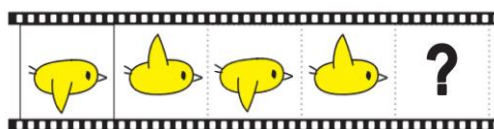
Ребята слепили 8 снежных комков, чтобы собрать снеговиков. Получится ли у них слепить трёх снеговиков, если для одного снеговика нужно 3 комка?

1. Да
2. Нет

В ответе укажи только номер выбранного варианта (1 или 2)

Задание №6

Продолжи ряд.



Какая картинка окажется на месте вопросительного знака?

В ответе укажи только номер выбранного варианта (1 или 2)

Задание №7

Что может вырасти на дереве и на лбу?


1. ветка
2. гриб
3. шишка
4. цветок

В ответе укажи только номер выбранного варианта (1 или 2 или 3 или 4)

Задание №8

Маша разрезала ленту в трёх местах. Сколько маленьких кусочков ленты у нее получилось?

В ответе запиши число кусочков



Задание №9

Маша разделила шоколадку на 4 равных кусочка. Половину она оставила себе, а 2 кусочка отдала Даше. Кому досталось больше шоколадки?


1. Маше
2. Даше
3. Одинаково

В ответе укажи только номер выбранного варианта (1 или 2 или 3)

Задание №10


Найди на картинке лишний предмет.

В ответе укажи только номер выбранного варианта (1 или 2 или 3 или 4)



Задание №11

Какую картинку надо вставить вместо знака вопроса, чтобы в каждой строке и в каждом столбце изображения не повторялись?



В ответе укажите только номер выбранного варианта (1 или 2 или 3)

Задание №12


У этого клоуна нет в руках воздушных шариков и шляпа, не такая, как у других. Выбери этого клоуна.



В ответе укажи только номер выбранного варианта (1 или 2 или 3 или 4)

Задание №13

Мама попросила Машу после прогулки полить вот этот цветочек на картинке справа. Но когда Маша вернулась домой с прогулки, было уже темно. Видны только силуэты цветов. Подскажи Маше, какой цветок ей нужно полить?



В ответе укажи только номер выбранного варианта (1 или 2 или 3 или 4)