

II Международная олимпиада по логике «Путешествие в Мир логики» (для дошкольников)

Мир конкурсов
ЛИДЕР
www.mir-konkursov.ru

Задания

Ответ должен быть представлен строго в виде **ОДНОГО ЧИСЛА** или **СЛОВА** (согласно условию задания) без кавычек, точек и других дополнительных символов. Неверно записанные ответы не учитываются.

Задание №1

У Маши целый апельсин и две половинки апельсина. Сколько всего апельсинов у Маши?



В ответе запиши число апельсинов

Задание №2

Дедушка, бабушка и внучка ждали поезд 3 часа. Сколько часов ждал поезд каждый из них?

В ответе запиши время ожидания поезда

Задание №3

Маша разрезала ленту в трёх местах. Сколько маленьких кусочков ленты у нее получилось?



В ответе запиши число кусочков

Задание №4


В семье зайчат появилось потомство из 6 ушек. Сколько же маленьких зайчат появилось на свет?

Запишите число зайчат в ответе

Задание №5

К четырём бабочкам залетела божья коровка. Сколько бабочек стало?

В ответе запиши число бабочек



Задание №6

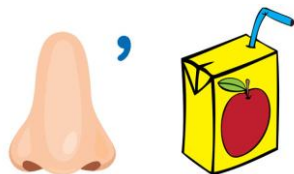
Какая по счёту окажется роза, если считать цветы слева.



В ответе запиши номер розы, если считать цветы слева

Задание №7

Разгадай ребус!



Выбери картинку-отгадку!




В ответе укажи только номер выбранного варианта (1 или 2 или 3 или 4)

Задание №8

Два одинаковых ведра заполнено плодами. Первое ведро заполнено грушами, а второе ведро заполнено клубникой. В каком ведре поместилось больше плодов?

В ответе запиши только номер ведра (1 или 2)



Задание №9

В тарелке лежат яблоки. Если Матвей и две его сестрёнки возьмут по 2 яблока, то ещё останется 1 яблоко. Сколько яблок лежит в тарелке?

В ответе запиши число яблок в тарелке

Задание №10

На ветке сидели 4 воробья, 2 сороки, 3 белки, муха и гусеница. Три птички улетели. Сколько птиц осталось на ветке?

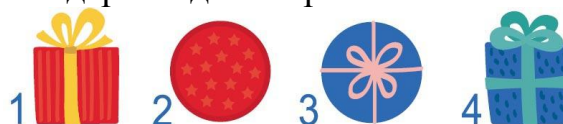
В ответе запиши число оставшихся птиц

Задание №11

Бабушка купила Марине подарок. Коробка с подарком обладает тремя свойствами:

- 1) она красная;
- 2) она не круглая;
- 3) у нее есть бантик.

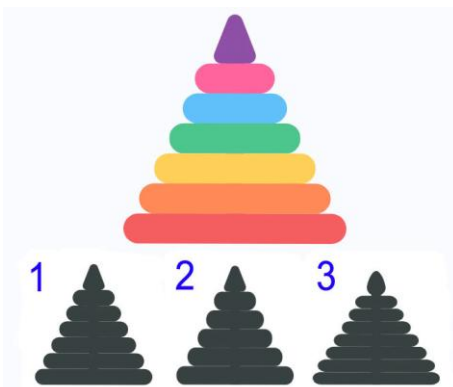
Найди на картинке коробку с подарком для Марины.



В ответе запиши номер коробки (1 или 2 или 3 или 4)

Задание №12

Найди верную тень пирамидки.



В ответе укажи только номер выбранного варианта (1 или 2 или 3)

Оценка ответов на вопросы олимпиады:

- за каждый правильный ответ на задания с 1 по 8 – 8 баллов
- за каждый правильный ответ на задания с 9 по 12 – 9 баллов

Уважаемые ребята, родители и координаторы!

Мы будем очень благодарны Вам за оставленный отзыв о конкурсе.

Нам очень важно знать ваше мнение о конкурсных заданиях. Что нового вы узнали, участвуя в конкурсе? Какие задания показались лёгкими? А какие самыми сложными? Что вам не понравилось? Хотели бы вы ещё участвовать в подобных конкурсах?

Ждём все Ваши предложения, пожелания и замечания на наши электронные адреса:

mir-konkursov2008@yandex.ru и mir-konkursov2018@yandex.ru