

### III Международная олимпиада по математике

«Взлёт»

(для учащихся 2 классов)

Мир конкурсов  
ЛИДЕР  
www.mir-konkursov.ru

#### Задания

Ответ должен быть представлен строго в виде **ОДНОГО ЧИСЛА, БУКВЫ** или **СЛОВА** (согласно условию задания) без кавычек, точек, орфографических ошибок. Неверно записанные ответы не учитываются.

#### Задание №1

5 хомячков съедают пачку корма за 4 дня. Сколько хомячков съедят такую пачку корма за 2 дня?

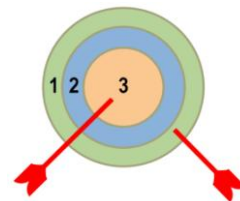
*В ответе запиши полученный результат*

#### Задание №2

Победу в игре приносят 6 очков. Гриша уже метнул два дротика, смотрите на рисунке справа.

Сколько очков ещё надо набрать Грише для победы?

*В ответе запишите полученное число*



#### Задание №3

У Матвея друзей больше, чем концов у трёх шнурков, но меньше, чем ног у двух слонов. Сколько друзей у Матвея?

*В ответе запиши полученный результат*

#### Задание №4

У Светы было 6 конфет, а у Гриши – 14 конфет. Гриша подарил Свете несколько конфет, и у них конфет стало поровну. Сколько конфет подарил Гриша?

*В ответе запиши число конфет, подаренных Гришей*



#### Задание №5

Маша и Даша ехали к бабушке на поезде, в котором 10 вагонов. Маша села в пятый вагон от начала поезда, а Даша – в пятый от конца поезда. В одном ли вагоне ехали девочки?

1. Да
2. Нет


*В ответе укажи только номер выбранного варианта (1 или 2)*

#### Задание №6

Ребята, посмотрите на картинку справа. Какие фигуры расположены между фигурами зеленого цвета?



*В ответе укажи только номер выбранного варианта (1 или 2 или 3 или 4)*



#### Задание №7

Вчера Гриша предложил Матвею: «Пойдём в кино послезавтра!» Сегодня четверг. В какой день недели мальчики собрались пойти в кино?

1. среда
2. четверг
3. пятница
4. суббота
5. воскресенье

*В ответе укажи только номер выбранного варианта (1 или 2 или 3 или 4 или 5)*

### Задание №8

Какие электронные часы показывают такое же время как часы со стрелками на картинке справа?



*В ответе укажи только номер выбранного варианта (1 или 2 или 3 или 4)*

### Задание №9


У бабушки 5 внучек. Перед школой она заплетает каждой из них косички: одну или две. Сегодня она заплела всего 8 косичек. Сколько внучек пошли в школу с двумя косичками?

*В ответе запиши число внучек с двумя косичками*

### Задание №10

Посмотри на картинку. Весы находятся в равновесии. Что весит меньше – одно яблоко или один апельсин?

1. Яблоко
2. Апельсин
3. Одинаково



*В ответе укажите только номер выбранного варианта (1 или 2 или 3)*

### Задание №11

На тарелке лежат яблоки и сливы. Яблоко и слив вместе на 4 больше, чем только слив. И на 3 больше, чем только яблок. Сколько яблок и слив вместе лежит на тарелке?

*В ответе запиши число яблок и слив вместе*

### Задание №12

Четыре слова зашифровали. Одинаковые буквы записали одинаковыми цифрами. Запиши цифровую шифровку для слова КУКЛА.

*В ответе запиши шифровку для слова КУКЛА*

БАЛ	→	123
ЛАК	→	325
БУК	→	145
КУКЛА	→	?

### Задание №13

Маша решила за два дня 14 задач. Если бы в первый день она решила на одну задачу больше, а во второй день на одну задачу меньше, то каждый день она решала бы одинаковое количество задач. Сколько задач Маша решила в первый день?

*В ответе запиши число задач в первый день*

### Задание №14

Вика, Коля, Вова и Кира пошли в лес. У кого имя начинается на «К» – те с корзинкой, а у кого на «В» – те с ведром. Мальчики собирали грибы, а девочки ягоды. Как звали того, кто принёс ведро грибов?

1. Вика
2. Коля
3. Вова
4. Кира



*В ответе укажи только номер выбранного варианта (1 или 2 или 3 или 4)*

---

#### Оценка ответов на вопросы конкурса:

- за каждый правильный ответ на задания с 1 по 12 – 7 баллов
- за каждый правильный ответ на задания с 13 по 14 – 8 баллов