

Международная олимпиада
по математике «Лидер-2024»
(для дошкольников)

Мир конкурсов
ЛИДЕР
www.mir-konkursov.ru


Задания

Ответ должен быть представлен строго в виде **ОДНОГО ЧИСЛА** или **СЛОВА** (согласно условию задания) без кавычек, точек и других дополнительных символов. Неверно записанные ответы не учитываются.

Задание №1

Посмотрите на картинку. Сколько зайчат смотрят на медвежонка?

В ответе запиши число зайчат, смотрящих на медвежонка



Задание №2

У Маши 3 пары варежек. Сколько варежек у Маши на правую руку?

В ответе запиши число варежек на правую руку

Задание №3


В тарелке лежали 10 мандаринов. Бабушка разрешила внукам взять по 1 мандарину. После этого в тарелке осталось 7 мандаринов. Сколько внуков у бабушки?

В ответе запиши число внуков у бабушки

Задание №4

Сколько кругов надо дорисовать, чтобы их стало столько же, сколько треугольников на картинке?

Запиши в ответе число кругов, которые нужно дорисовать



Задание №5

Белочка собрала 2 красных и 4 жёлтых яблока. Ей нужно разложить яблоки в корзиночки. Сколько корзиночек ей понадобится, если в одну корзиночку помещается 3 яблочка?

В ответе запиши число корзиночек

Задание №6

Каким набором игрушек нарядили ёлку?



В ответе укажи только номер выбранного варианта (1 или 2 или 3)



Задание №7

Петя и Вася прыгали по мокрому песку на одной ножке и при каждом прыжке оставляли на песке следы. Петя прыгал на левой ноге, а Вася – на правой.

Кто из мальчиков сделал больше прыжков?

1. Петя
2. Вася
3. Одинаково

В ответе укажи только номер выбранного варианта (1 или 2 или 3)



Задание №8

На пальме сидели 2 попугая, 3 обезьянки и 2 орла. Сколько всего у них крыльев?

В ответе запиши общее число крыльев

Задание №9

В коробке лежат ёлочные шары двух цветов. Половина из них – красные, остальные 3 – жёлтые. Сколько шаров лежит в коробке?

В ответе запиши полученное число

Задание №10

Какой карандаш не зелёный, не самый длинный и не самый короткий?



В ответе укажи только номер карандаша (1 или 2 или 3 или 4)

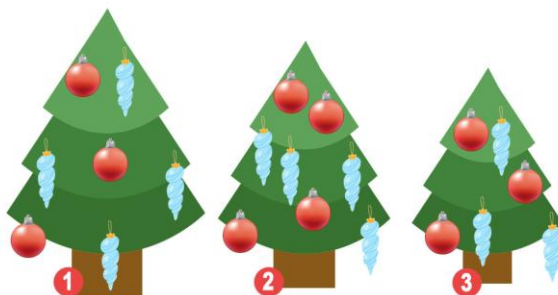
Задание №11

Даша умеет выговаривать все буквы, кроме «М» и «Ш». Сколько всего чисел от 1 до 10 включительно сможет правильно произнести Даша?

В ответе запиши количество чисел, которые сможет правильно произнести Даша

Задание №12

На картинке три ёлки. Найди ёлку Марины, если известно, что на ней 4 красных шарика и 4 голубых сосульки.



В ответе укажи номер ёлки Марины (1 или 2 или 3)

Оценка ответов на вопросы конкурса:

- за каждый правильный ответ на задания с 1 по 8 – 8 баллов

- за каждый правильный ответ на задания с 9 по 12 – 9 баллов

Уважаемые ребята, родители и координаторы!

Мы будем очень благодарны Вам за оставленный отзыв о конкурсе.

Нам очень важно знать ваше мнение о конкурсных заданиях. Что нового вы узнали, участвуя в конкурсе? Какие задания показались лёгкими? А какие самыми сложными? Что вам не понравилось? Хотели бы вы ещё участвовать в подобных конкурсах?

Ждём все Ваши предложения, пожелания и замечания на наши электронные адреса:

mir-konkursov2008@yandex.ru и mir-konkursov2018@yandex.ru