

V Международная олимпиада по математике

«Лидер» (для учащихся 2 классов)



Задания

Ответ должен быть представлен строго в виде **ОДНОГО ЧИСЛА** или **СЛОВА** (согласно условию задания) без кавычек, точек и других дополнительных символов. Неверно записанные ответы не учитываются.

Задание №1


Ребята, вспоминайте названия всех месяцев в году. Сколько месяцев в году **не** заканчиваются на «Ь»?

Запиши это число в ответе

Задание №2

Вася сложил из мишуры равносторонний треугольник со стороной 20 см. Чему равна длина всей мишуры?

В ответе запиши длину мишуры в сантиметрах



Задание №3

Маша загадала число. Если из количества букв в русском алфавите вычесть число ушей у шести зайцев, то получится загаданное число.

Какое число загадала Маша?

Задание №4

Вася начал лепить снеговика ровно в полдень, а закончил в 16.00. Сколько часов Вася лепил снеговика?

В ответе запиши полученный результат



Задание №5

У Маши 8 открыток с ёжиками и 12 открыток с котиками. 10 открыток Маша подарила Вике. Есть ли среди них открытки с котиками?


1. Да
2. Нет

В ответе укажи только номер выбранного варианта (1 или 2)

Задание №6

Посмотрите на картинку. На ней изображены снежные комки, которые скатали Петя и Вася для постройки снеговиков. На каждого снеговика понадобится 3 комка. Сколько снеговиков сделают ребята из этих комков?

В ответе запиши число снеговиков



Задание №7

Маша и Даша наряжали ёлочку. Вместе они повесили на ёлочку 20 игрушек. Маша повесила на 4 игрушки больше, чем Даша. Сколько игрушек повесила Маша на ёлочку?

В ответе запиши число игрушек, которые повесила Маша

Задание №8

«Сколько учеников в вашем классе?», – спросила бабушка у Маши. Маша ответила: «Если от наибольшего чётного двузначного числа отнять число, записанное двумя восьмёрками, и к полученному числу прибавить наименьшее двузначное число, то получится число учеников нашего класса».

В ответе запиши число учеников

Задание №9

Маша и Даша пришли в школу в одно и то же время. Маша шла медленнее. Кто из девочек вышел раньше из дома?

1. Маша

2. Даша

В ответе укажи только номер выбранного варианта (1 или 2)

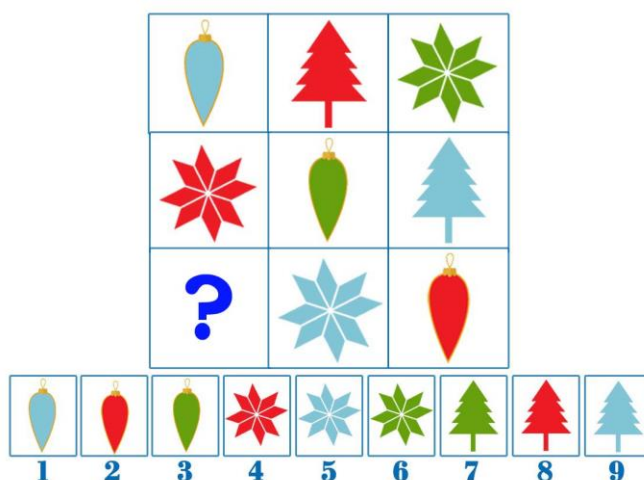
Задание №10

Сосчитайте, сколько нулей во всех числах от 1 до 100 включительно.

В ответе запишите только количество нулей

Задание №11

Определите, по какому правилу меняются предметы в таблице. Какой предмет должен находиться в клеточке со знаком «?».




В ответе укажите только номер предмета от 1 до 9

Задание №12

Вася загадал плод и дал три подсказки:

- название заканчивается **не** на «ох»;
- цвет плода **не** жёлтый;
- в нём съедобны **не** листья.

Какой плод загадал Вася?



В ответе укажи только номер выбранного варианта (1 или 2 или 3 или 4)

Задание №13


У Бабы Яги есть три коробки с новогодними шарами. Все надписи на коробках перепутаны. Какую коробку должна взять Баба Яга, чтобы украсить свою избушку желтыми шарами. Запиши номер коробки в ответе.



В ответе укажи только номер выбранного варианта (1 или 2 или 3)

Задание №14

Числа заменили картинками. Одинаковым числам соответствуют одинаковые картинки. Решите примеры. Какое из трёх чисел: 0, 2 или 4 спряталось за мухомором?



В ответе запиши, чему равен мухомор

Уважаемые ребята, родители и координаторы!

Мы будем очень благодарны Вам за оставленный отзыв о конкурсе.

Нам очень важно знать ваше мнение о конкурсных заданиях. Что нового вы узнали, участвуя в конкурсе? Какие задания показались лёгкими? А какие самыми сложными? Что вам не понравилось? Хотели бы вы ещё участвовать в подобных конкурсах?

Ждём все Ваши предложения, пожелания и замечания на наши электронные адреса:

mir-konkursov2008@yandex.ru и mir-konkursov2018@yandex.ru