

У Международная олимпиада по математике

«Лидер» (для учащихся 1 классов)



Задания

Ответ должен быть представлен строго в виде **ОДНОГО ЧИСЛА** или **СЛОВА** (согласно условию задания) без кавычек, точек и других дополнительных символов. Неверно записанные ответы не учитываются.

Задание №1

У Маши в коробке 10 ёлочных игрушек. Она повесила на ёлку все игрушки, кроме трёх. Сколько игрушек Маша повесила на ёлку?

В ответе запиши число игрушек

Задание №2

Вася сделал в диктанте по русскому языку 3 ошибки, а Петя, который у него всё списал, – 6 ошибок.

Сколько своих собственных ошибок сделал в диктанте Петя?

Задание №3

Рита загадала число. Если из количества месяцев в году вычесть число ушей у двух зайцев, то получится загаданное число.

Какое число загадала Рита?

Задание №4

Вася начал лепить снеговика ровно в полдень, а закончил в 15.00. Сколько часов Вася лепил снеговика?

В ответе запиши полученный результат



Задание №5

У Маши 8 открыток с ёжиками и 12 открыток с котиками. 10 открыток Маша подарила Рите. Есть ли среди них открытки с котиками?


1. Да
2. Нет

В ответе укажи только номер выбранного варианта (1 или 2)

Задание №6

Посмотрите на картинку. На ней изображены снежные комки, которые скатали Петя и Вася для постройки снеговиков. На каждого снеговика понадобится 3 комка. Сколько снеговиков сделают ребята из этих комков?

В ответе запиши число снеговиков



Задание №7

Три подружки наряжали ёлочку. Маша повесила на ёлочку 3 игрушки. Даша повесила на 2 игрушки больше, чем Маша, а Рита повесила на 2 игрушки больше, чем Даша. Сколько всего игрушек девочки повесили на ёлочку.

В ответе запиши полученное число

Задание №8

На картинке гирлянда Матвея. Он украшает флажки на гирлянде так: на первом флажке он рисует звездочку, а на двух следующих – снежинки, потом все повторяется. Сколько получится снежинок, когда он украсит всю гирлянду?



В ответе запиши число снежинок

Задание №9

Маша и Даша пришли в школу в одно и то же время. Маша шла медленнее. Кто из девочек вышел раньше из дома?

1. Маша
2. Даша

В ответе укажи только номер выбранного варианта (1 или 2)


Задание №10

Какую новогоднюю картинку надо вставить вместо знака вопроса, чтобы в каждой строке и в каждом столбце изображения не повторялись?




В ответе укажите только номер выбранного варианта (1 или 2 или 3)

Задание №11



Что надо положить на пустую чашу весов, чтобы их уравновесить?



В ответе укажи только номер выбранного варианта (1 или 2 или 3 или 4)

Задание №12

На белой и синей тарелке лежат по 3 груши, а на жёлтой и синей тарелке лежат по 6 слив. Какая из тарелок является синей?

1. тарелка 1
2. тарелка 2
3. тарелка 3

В ответе укажи только номер выбранного варианта (1 или 2 или 3)



тарелка 1



тарелка 2



тарелка 3

Задание №13

В Васином подъезде 20 квартир. Сосчитай, сколько раз в номерах квартир встречается цифра «1»?

В ответе запиши полученное число