

Задания

Ответ должен быть представлен строго в виде **ОДНОГО СЛОВА**, **БУКВЫ** или **ЧИСЛА** (согласно условию задания) без кавычек, точек, орфографических ошибок. Некоторые вопросы содержат подсказку – буквы ответа. Неверно записанные ответы не учитываются.

Задание №1

Математическая разминка

Сумма цифр **чётного** трёхзначного числа равна 3. Все цифры этого числа различны.

В ответе запиши полученное число

Задание №2

Занимательная логика

Какое **наименьшее** количество рамок на рисунке справа нужно разрезать, чтобы все их расцепить?

- 1
- 2
- 3



В ответе укажи только номер выбранного варианта (1 или 2 или 3)

Задание №3

В мире животных

Эта родственница верблюдов живет в высокогорьях Южной Америки. Если животное разозлить, то оно может плюнуть в обидчика полупереваренной травой. Ценят животное за прекрасную мягкую шерсть.




В ответе запиши название животного

Задание №4

Загадки окружающего мира

Как только кое-где сходит снег, сразу же появляются первые весенние растения – белые, желтые, голубые. Найди на картинке цветок, который первым появляется на проталинах.



В ответе укажи только номер выбранного варианта (1 или 2 или 3 или 4)

Задание №5

Считаем треугольники

Сколько всего треугольников на картинке?

В ответе запиши общее число треугольников



Задание №6

Грамматическая математика

Ребята любят играть в грамматическую математику и «собирать» слова. Попробуй и ты! Какое школьное слово у тебя получилось?

ЗАКОЛКА – КОЛ + ДАЧА + БАН – КАБАН

В ответе запиши получившееся слово

Задание №7

Географические ребусы

Таня зашифровала слово. Отгадай это слово.

Выбери, к какой группе относится отгаданное слово.

- 1) Страна 3) Река
2) Город 4) Животное

*В ответе укажи только номер выбранного варианта
(1 или 2 или 3 или 4)*



Задание №8

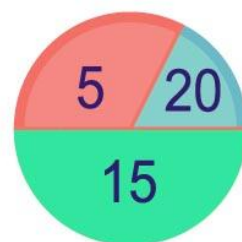
Весёлая математика

Гриша бросил 2 раза дротик в мишень, изображенную на рисунке справа.

И оба раза попал. Сколько очков он НЕ мог набрать?

1. 10
2. 15
3. 25
4. 30
5. 35

*В ответе запиши только номер выбранного варианта (1 или 2 или 3
или 4 или 5)*



Задание №9

В мире профессий

Его смело можно назвать звёздным бухгалтером. Человек этой профессии всё время пересчитывает звёзды на небе, чтобы удостовериться, что все они на своих местах.

— — — — 0 — — — —

В ответе запиши название профессии



Задание №10

Азбука безопасности

*Вот поле чудес, закопай здесь свои денежки,
наутро вырастет дерево
с золотыми червонцами*

Мошенники обманывают людей, обещая лёгкие и быстрые деньги. Какой сказочный персонаж таким образом был обведён вокруг носа и обворован?

— — — — —

В ответе запиши имя сказочного персонажа

Задание №11

Удивительная планета

Невероятно, но они могут иметь форму арки, крыла, купола, пирамиды, стола. Однако, несмотря на всю невероятную красоту, моряки их побаиваются. О каком природном явлении наш вопрос?

— й — — — — —

В ответе запиши название природного явления



Задание №12

Игры со словами

Какое из следующих слов нельзя превратить в зверя или птицу, заменив в нём одну букву? Запиши это слово в ответе. Пример «превращения»: сода – сова.

роза, полк, корона, липа, март, корж

В ответе запиши получившееся слово

Задание №13

Сказочный сундучок

Клубок ниток – известный атрибут сказок. С его помощью можно найти нужный путь. Чудесный клубочек указывает путнику дорогу, по которой не собьёшься с пути. Какой современный предмет стал потомком волшебного клубка?



В ответе укажи только номер выбранного варианта (1 или 2 или 3 или 4)

Задание №14

Я открываю космос

Догадайся, названия какой планеты не хватает в нашем списке?

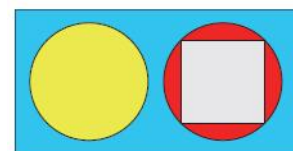
Меркурий, Венера, Марс, Юпитер, Сатурн, Земля, Нептун

В ответе запиши название планеты

Задание №15

Вид сбоку

Вася сделал постройку из четырёх фигур. На рисунке справа показан вид сверху этой постройки. Как будет выглядеть эта постройка, если смотреть на нее сбоку?



В ответе укажи только номер выбранного варианта (1 или 2 или 3 или 4 или 5)

Задание №16

Зналок фразеологизмов

Название этого животного достаточно распространено в русских фразеологизмах.

Прочитай фразы и определи участника всех этих устойчивых выражений.

Как ... наплакал
Тянуть ... за хвост
Купить ... в мешке
Суп с ...



В ответе укажи только номер выбранного варианта (1 или 2 или 3 или 4)

Задание №17

Занимательная математика

Вася посчитал пример в столбик. Но на бумагу пролились чернила и испачкали несколько цифр. Какова будет сумма четырёх цифр, спрятанных под чернильными пятнами?

$$\begin{array}{r} + \\ \text{пятна} \\ \text{пятна} \\ \text{пятна} \\ \hline 63 \\ \hline 572 \end{array}$$

В ответе запиши сумму четырёх цифр под пятнами

Оценка ответов на вопросы олимпиады:

- за каждый правильный ответ на задания с 1 по 2 – 5 баллов
- за каждый правильный ответ на задания с 3 по 17 – 6 баллов