

# Всероссийская межпредметная олимпиада

## «Энциклопедия Знаний» (для учащихся 1-2 классов)

Мир конкурсов  
ЛИДЕР  
www.mir-konkursov.ru

### Задания

Ответ должен быть представлен строго в виде **ОДНОГО СЛОВА**, **БУКВЫ** или **ЧИСЛА** (согласно условию задания) без кавычек, точек, орфографических ошибок. Некоторые вопросы содержат подсказку – буквы ответа. Неверно записанные ответы не учитываются.

#### Задание №1

##### Математическая разминка

Кролик каждый день съедает по одному кочану капусты. Сколько кочанов капусты Кролик съест за 2 недели?

*В ответе запиши число кочанов капусты*

#### Задание №2

##### Весёлые ребусы

Это единственная звезда, которую никогда не видно на ночном небе! Разгадав ребус, узнаешь её название.

С \_ \_ \_ \_ \_

*В ответе напиши получившееся слово*



#### Задание №3

##### В мире животных

Какие звери просыпаются после зимней спячки?

*В ответе укажи только номер выбранного варианта (1 или 2 или 3 или 4)*

- |   |              |   |              |
|---|--------------|---|--------------|
| 1 | Лиса и белка | 3 | Медведь и ёж |
| 2 | Заяц и волк  | 4 | Волк и лиса  |

#### Задание №4

##### Занимательная логика

На рисунке 3 треугольные рамки, скрепленные друг с другом. Какую рамку нужно разрезать, чтобы расцепить все рамки?

1. жёлтую
2. синюю
3. красную

*В ответе укажи только номер выбранного варианта (1 или 2 или 3)*



#### Задание №5

##### Загадки окружающего мира

Как только кое-где сходит снег, сразу же появляются первые весенние растения – белые, желтые, голубые. Найди на картинке цветок, который первым появляется на проталинах.

*В ответе укажи только номер выбранного варианта (1 или 2 или 3 или 4)*



#### Задание №6

##### Весёлая математика

Какая по счёту окажется роза, если считать цветы справа.

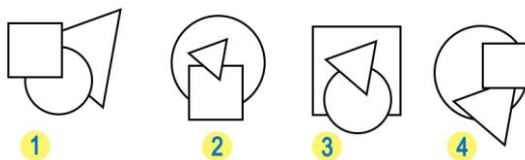


*В ответе запиши номер розы, если считать цветы справа*

## Задание №7

### Вошебные фигуры

Таня наклеила на лист бумаги сначала круг, потом квадрат, а потом – треугольник. Что у неё получилось?



В ответе укажи только номер выбранного варианта (1 или 2 или 3 или 4)

## Задание №8

### Грамматическая математика

Ребята любят играть в грамматическую математику и «собирать» слова. Попробуй и ты! Какое слово у тебя получилось?

**ВЕСЛО+ВОЛНА–ЛО–ВОЛ=**

— е — — —

В ответе запиши получившееся слово

## Задание №9

### В мире профессий

Повар, но только на корабле, называется по-особому. Вот подсказка: это слово из трёх букв читается одинаково слева направо и справа налево. Назови эту профессию!



— — —

В ответе запиши название профессии

## Задание №10

### Обитатели подводного царства

У людей по 2 ноги. А у этого морского обитателя их аж целых 8! Сколько же мест можно обойти, имея 8 ног! Найди изображение этой морской многоножки.



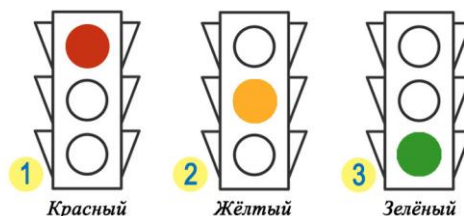
В ответе укажи только номер выбранного варианта (1 или 2 или 3 или 4)

## Задание №11

### Азбука безопасности

На какой сигнал светофора проезд запрещён?

В ответе укажи только номер выбранного варианта (1 или 2 или 3)



## Задание №12

### Русские народные сказки

Как ты думаешь, кто мог отправить такую телеграмму.

— — —

В ответе запиши название персонажа



### Задание №13

#### Игры с буквами и словами

Вычеркни из таблицы повторяющиеся буквы. Из оставшихся букв собери словарное слово.

О	К	Ь	Л
С	У	И	Р
Ь	Ц	К	Ь
А	Р	О	С

-----  
В ответе запиши получившееся слово

### Задание №14

#### Я открываю космос

12 апреля 1961 года состоялось событие мирового значения: впервые в мире в космос был отправлен корабль с человеком на борту. Первым космонавтом стал..

1. Юрий Гагарин
2. Алексей Леонов
3. Герман Титов

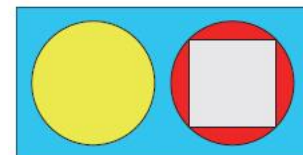
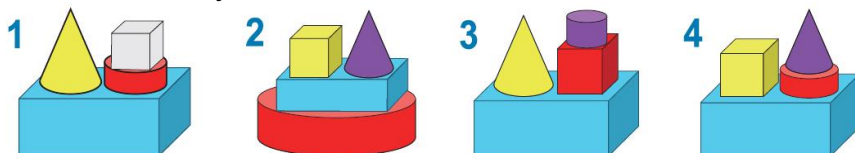
В ответе укажи только номер выбранного варианта (1 или 2 или 3)



### Задание №15

#### Вид сбоку

Вася сделал постройку из четырёх фигур. На рисунке справа показан вид сверху этой постройки. Как будет выглядеть эта постройка, если смотреть на нее сбоку?



В ответе укажи только номер выбранного варианта (1 или 2 или 3 или 4)

---

#### Оценка ответов на вопросы олимпиады:

- за каждый правильный ответ на задания с 1 по 5 – 6 баллов
- за каждый правильный ответ на задания с 6 по 15 – 7 баллов

Уважаемые ребята, родители и координаторы!

Мы будем очень благодарны Вам за оставленный отзыв о конкурсе.

Нам очень важно знать ваше мнение о конкурсных заданиях. Что нового вы узнали, участвуя в конкурсе? Какие задания показались лёгкими? А какие самыми сложными? Что вам не понравилось? Хотели бы вы ещё участвовать в подобных конкурсах?

Ждём все Ваши предложения, пожелания и замечания на наши электронные адреса:  
mir-konkursov2008@yandex.ru и mir-konkursov2018@yandex.ru