

Международный интеллектуальный конкурс
«Занимательные загадки, ребусы, головоломки»
(для дошкольников 5-7 лет)

Мир конкурсов
ЛИДЕР
www.mir-konkursov.ru

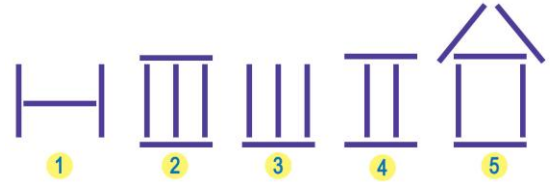
Задания

Ответ должен быть представлен строго в виде **ОДНОГО СЛОВА, БУКВЫ** или **ЧИСЛА** (согласно условию задания) без кавычек, точек, орфографических ошибок. Некоторые вопросы содержат подсказку – буквы ответа. Букву «ё» можно писать как «ё» или как «е». Неверно записанные ответы не учитываются.

Задание №1

Найди картинку из 5 палочек.

В ответе укажи только номер выбранного варианта (1 или 2 или 3 или 4 или 5)



Задание №2

Отгадай загадку!

Старый снег на солнце тает,
Ветерок в ветвях играет,
Звонче птичьих голоса –
Вот и к нам пришла...

1. Весна
2. Зима
3. Осень

В ответе укажи только номер выбранного варианта (1 или 2 или 3)

Задание №3

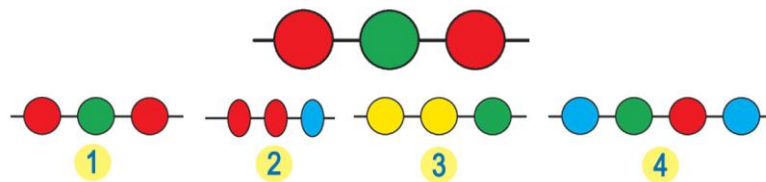
На каком рисунке нет круга?

В ответе укажи только номер выбранного варианта (1 или 2 или 3 или 4)



Задание №4

Найди такие же бусы:



В ответе укажи только номер выбранного варианта (1 или 2 или 3 или 4)

Задание №5

Таня считала по порядку: 1, 2, потом пропустила число и продолжила: 4, 5, 6.



Какое число пропустила Таня?

1. 2
2. 4
3. 3

В ответе укажи только номер выбранного варианта (1 или 2 или 3)

Задание №6

Какой из букв слова **СТЁПА** нет на рисунке?

В ответе запиши только одну букву



Задание №7

Отгадай загадку!

Что за зверь упрямый слишком
Не желает делать стрижку?
Ходит он с лохматой гривой
И считает, что он красивый.



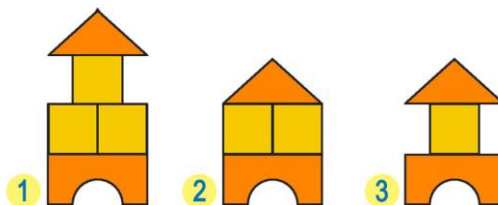
В ответе запиши слово-отгадку

Задание №8

Найди на картинке домик из таких деталей:

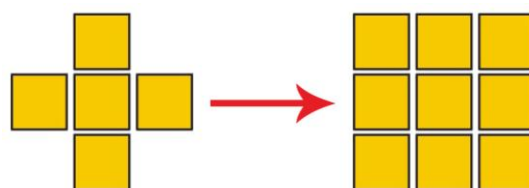


В ответе укажи только номер выбранного варианта (1 или 2 или 3)



Задание №9

Сколько квадратиков надо добавить, чтобы получить из первой фигурки вторую?



В ответе запиши только число добавляемых квадратиков

Задание №10

Каким набором игрушек нарядили ёлку?



В ответе укажи только номер выбранного варианта (1 или 2 или 3)

Задание №11

У какого цветочка число точек на всех лепестках больше, чем 5?

В ответе укажи только номер выбранного варианта (1 или 2 или 3)



Задание №12

Продолжи заданную последовательность.



Какая картинка окажется на месте вопросительного знака?



В ответе укажи только номер выбранного варианта (1 или 2)

Оценка ответов на вопросы олимпиады:

- за каждый правильный ответ на задания с 1 по 8 – 8 баллов
- за каждый правильный ответ на задания с 9 по 12 – 9 баллов