

II Международный интеллектуальный конкурс
«Математика со зверятами»
(для учащихся 1 классов)

Задания

Ответ должен быть представлен строго в виде **ОДНОГО ЧИСЛА** или **СЛОВА** (согласно условию задания) без кавычек, точек и других дополнительных символов. Неверно записанные ответы не учитываются.

Задание №1

Ребята, помогите белочке Соне найти цифру, которая скрывается за снеговиком?

В ответе запишите только эту цифру

$$\text{снеговик} + \text{снеговик} + \text{снеговик} = 15$$

Задание №2

Кролик Стёпка за день съедает на 2 морковки меньше, чем число месяцев в году. Сколько морковок Стёпка съедает за день?

В ответе запиши число морковок

Задание №3

Если дедушку бобра взвесить вместе с внуком, то весы покажут – 11 кг. Если взвесить одного дедушку без внука, то весы покажут – 8 кг.

Сколько весит внук?

Задание №4

Белочка Соня собрала в лесу 17 орехов. По дороге домой 5 орехов она съела и 3 ореха подарила бурундуку Боре. Сколько орехов Соня принесла домой?

В ответе напиши получившийся результат

Задание №5

Продолжи заданную последовательность. Какая картинка окажется на месте знака вопроса?



В ответе укажи только номер выбранного варианта (1 или 2 или 3)

Задание №6

Лестница в лесном теремке состоит из 9 ступенек. На какую по счёту ступеньку Зайке нужно встать, чтобы оказаться ровно на середине лестницы?

В ответе запишите число (номер ступеньки)

Задание №7

Бурундук Боря начал лепить снеговика ровно в полдень, а закончил в 15.00. Сколько часов Боря лепил снеговика?

В ответе запишите полученный результат



Задание №8

В семье лисят появилось потомство из 6 ушек. А в семействе бельчат родились 5 маленьких хвостиков.

Каких зверят появилось больше?

1. Лисят больше, чем бельчат
2. Бельчат больше, чем лисят
3. Одинаковое число зверят

В ответе укажи только номер выбранного варианта (1 или 2 или 3)

Задание №9

Бурундук Боря наряжал ёлочку. В ёлочной гирлянде 15 лампочек жёлтого и зелёного цвета. Цвета лампочек чередуются. Первая лампочка – жёлтая. *Какого цвета последняя лампочка?*

1. Жёлтая лампочка
2. Зелёная лампочка

В ответе укажите только номер выбранного варианта (1 или 2)

Задание №10



Дедушка Енот играл с внуком в футбол. Вместе дедушка и внук забили 14 голов. Дедушка забил на 4 гола больше, чем внук. Сколько голов забил дедушка Енот?

В ответе запиши количество голов, забитых дедом

Задание №11

Белочка Соня раскладывает запасы на полках кладовой по определенному правилу. Определите, что должна положить Соня на пустую полку вместо знака «?».

В ответе укажите только номер выбранного варианта (1 или 2 или 3 или 4)




Задание №12

Лисичка Лида наряжала ёлочку. Красный шарик она повесила выше жёлтого и левее синего шара. Жёлтый шарик – ниже синего шара. Какой шарик оказался на ёлочке **ниже** остальных?

1. Синий
2. Жёлтый
3. Красный

В ответе укажите только номер выбранного варианта (1 или 2 или 3)



Уважаемые ребята, родители и координаторы!

Мы будем очень благодарны Вам за оставленный отзыв о конкурсе.

Ждём все Ваши предложения, пожелания и замечания на наши электронные адреса:

mir-konkursov2008@yandex.ru и mir-konkursov2018@yandex.ru