

II Международный математический конкурс

«Лесная арифметика» (для учащихся 2 классов)



Задания

Ответ должен быть представлен строго в виде **ОДНОГО ЧИСЛА** или **СЛОВА** (согласно условию задания) без кавычек, точек и других дополнительных символов. Неверно записанные ответы не учитываются.

Задание №1

Дупло тётушки Совы находится на высоком дереве рядом с красивой веткой. Эта ветка является пятой сверху и пятой снизу дерева. Сколько всего веток на дереве Совы?

В ответе запиши число веток на дереве

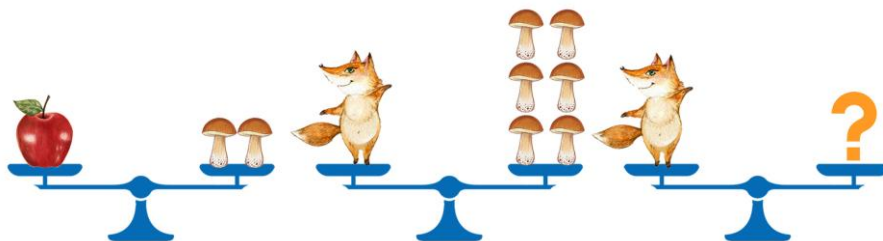
Задание №2

На уроке физкультуры в Лесной школе зверята выстроились в ряд и рассчитались по порядку. Всего получилось 15 зверят. Сколько нечётных чисел назвали зверята при пересчёте?

В ответе запиши количество нечётных чисел

Задание №3

Посмотри на картинки. Одно яблоко весит как 2 грибочка. А маленькая лисичка весит как 6 грибочков. Определи вес лисички в яблоках.



В ответе запиши вес лисички в яблоках

Задание №4

У медвежонка Мишутки есть 60 рублей. Мороженое стоит 45 рублей, а шоколадка на 15 рублей дороже. Хватит ли Мишутке денег, чтобы сразу купить сразу и мороженое и шоколадку?

1. Хватит
2. Не хватает

В ответе укажите только номер выбранного варианта (1 или 2)

Задание №5

Бельчонок разложил орешки в два ряда. В первый ряд он положил 4 орешка на расстоянии 2 см один от другого. А во второй ряд – 6 орешков на расстоянии 1 см один от другого. Какой ряд с орехами получился длиннее?

1. Первый ряд
2. Второй ряд

В ответе укажи только номер выбранного варианта (1 или 2)

Задание №6

Занятия в Лесной школе начинаются за 3 часа до полудня и длятся 5 часов.

Найди изображение часов, которые показывают, во сколько **заканчиваются** занятия в Лесной школе.



В ответе укажи только номер выбранного варианта (1 или 2 или 3 или 4)

Задание №7


Четыре бельчонка собирали орехи с четырёх деревьев. Каждый бельчонок собрал по 2 орешка с каждого дерева. Сколько всего орешков собрали бельчата?

В ответе запиши общее число орешков

Задание №8

Найди лесных жителей, расположенных одновременно в прямоугольнике, овале и треугольнике. Сколько всего лапок (ног) там расположено?

Учитывать нужно только зверят, находящихся в этих трёх фигурах одновременно.



В ответе запиши полученный результат

Задание №9

Сорока каждый день приносит на хвосте по одной лесной новости. В какой день недели Сорока принесёт шестую по счёту новость, если она начала их разносить в среду, а в воскресенье у нее был выходной?

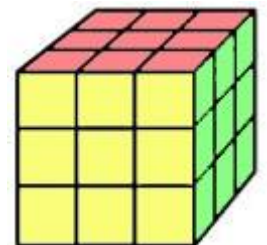
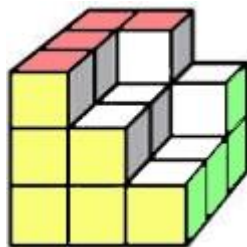
1. Понедельник
2. Вторник
3. Среда
4. Четверг
5. Пятница
6. Суббота
7. Воскресенье

В ответе укажи только номер выбранного варианта (1 или 2 или 3 или 4 или 5 или 6 или 7)

Задание №10

Мышонок собирал фигуру из кубиков.

Сколько кубиков нужно добавить Мышонку, чтобы достроить полный куб?



В ответе запиши число дополнительных кубиков

Задание №11

Зайчик каждый день съедает по одной морковке. Сколько морковок Зайчик съест за 3 осенних месяца?

В ответе запиши число морковок

Задание №12

Сорока всегда говорит правду, а её подруга Галка – неправду. Как-то раз нашли они вкусный плод и начали его обсуждать.

Сорока: хорошо, что плод мягкий.

Галка: какой у него красивый зелёный цвет!

Какой плод нашли подруги?



В ответе укажи только номер выбранного варианта (1 или 2 или 3)

Задание №13

Ребята, посмотрите на весы и определите, кто из зверят **самый лёгкий**: Белочка, Зайчик или Лисичка?



1. Белочка
2. Зайчик
3. Лисичка

В ответе укажи только номер выбранного варианта (1 или 2 или 3)

Задание №14

На уроке лесной математики лисята получили следующее задание:

*В свободные клетки квадрата вставьте пропущенные числа так, чтобы суммы чисел **по всем направлениям** были равны. Какое число нужно поставить вместо знака вопрос?*

12		9
14	?	
25	4	22



В ответе запиши это число

Уважаемые ребята, родители и координаторы!

Мы будем очень благодарны Вам за оставленный отзыв о конкурсе.

Нам очень важно знать ваше мнение о конкурсных заданиях. Что нового вы узнали, участвуя в конкурсе? Какие задания показались лёгкими? А какие самыми сложными? Что вам не понравилось? Хотели бы вы ещё участвовать в подобных конкурсах?

Ждём все Ваши предложения, пожелания и замечания на наши электронные адреса:

mir-konkursov2008@yandex.ru и mir-konkursov2018@yandex.ru