

II Международный математический чемпионат

«Занимательная математика со зверятами»

(для учащихся 2 классов)

Мир конкурсов

ЛИДЕР

www.mir-konkursov.ru

Задания

Ответ должен быть представлен строго в виде **ОДНОГО СЛОВА, БУКВЫ** или **ЧИСЛА** (согласно условию задания) без кавычек, точек, орфографических ошибок. Неверно записанные ответы не учитываются.


Задание №1

Белочка каждый день срывает в лесу одну шишку с дерева для своей аппликации, которую она готовит маме на день рождения.

Сколько шишек она наберет за январь месяц?

Задание №2

Вася фотографировал растущего крольчонка раз в месяц: в феврале, в марте, в апреле, в мае. Получилось 4 фотографии, которые представлены на картинке. Какая фотография была сделана в мае?



В ответе запиши номер фотографии

Задание №3

Два котёнка ловили рыбку. Один поймал 10 рыбок, другой – вдвое меньше.

Сколько рыбы поймали оба котёнка вместе?

Задание №4

У медвежонка Миши день рождения. К нему пришли друзья. Рассмотрите картинку и посчитайте количество стульев, которые понадобятся для всех друзей, самого именинника и его мамы и папы:



В ответе запиши количество стульев

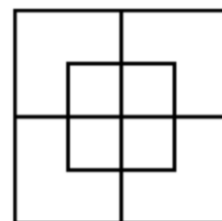
Задание №5

Три зайчика собирали морковку. Первый зайчик собрал 8 штук, второй – на 3 штуки больше первого, третий – столько же, сколько первый и второй вместе.

Сколько всего морковок набрали три зайчика?

Задание №6

Лисички из палочек сложили квадраты и никак не могут сосчитать, сколько всего квадратов у них получилось.



В ответе запиши число квадратов

**прямоугольники не считаем*

Задание №7

У собачки было 36 косточек, она оставила половину хозяину, а остальные разделила пополам между собой и другом-лисенком.

Сколько косточек осталось собачке?

Задание №8

Кролик построил 4 башни из яблок. В первой было 3 яблока, а в каждой следующей – на 2 яблока больше, чем в предыдущей.

Сколько всего яблок было использовано на строительство 4 башен?



Задание №9

Маленькая птичка решила прогуляться по своему садику. Садик квадратный. Если длина стороны равна пяти шагам, сколько шагов сделала птичка, обойдя весь сад один раз?

Укажи в ответе количество шагов

Задание №10

Ребята, определите, по какому правилу располагаются зверята. Дополните ряд, вставив пропущенного зверька вместо знака вопроса:



1. Белка
2. Заяц
3. Енот

Выбери правильный ответ и напиши его номер (1 или 2 или 3)

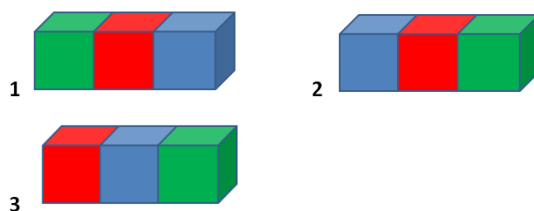
Задание №11

У Зайца есть 14 морковок, а у Ёжика на 8 морковок меньше, чем у Зайца. Сколько морковок Заяц может отдать Ёжику, чтобы морковок у них стало поровну?

В ответе запиши полученный результат

Задание №12

Медвежонок Миша собирает разноцветные кубики. Красный кубик тяжелее синего, синий легче зеленого, зеленый тяжелее красного. Какие кубики расположены в правильном порядке слева направо по возрастанию массы?



Выбери правильный ответ и напиши его номер (1 или 2 или 3)

Задание №13

В 3-х этажном лесном теремке живут Белочка, Ёжик и Хомяк. Хомяк живёт ниже Белочки, а Ёжик живёт ниже Хомяка. Кто живёт на втором этаже?

1. Белочка
2. Ёжик
3. Хомяк



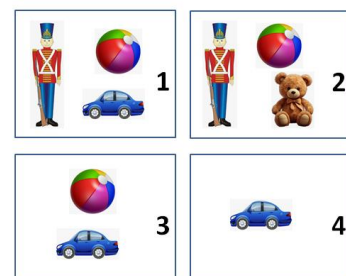
Выбери правильный ответ и напиши его номер (1 или 2 или 3)

Задание №14

В четырёх коробках у медвежонка Миши лежали игрушки, как на картинках справа.

Миша убрал несколько игрушек из коробок так, что в каждой коробке осталось по одной игрушке, и все они разные. Какая игрушка осталась во второй коробке?

1. Мячик
2. Солдатик
3. Мишка
4. Машинка



Выбери правильный ответ и напиши его номер (1 или 2 или 3 или 4)