
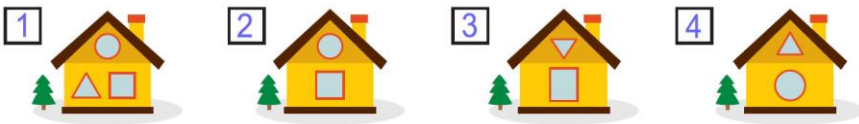



Международная олимпиада по логике
«Занимательная логика и смекалка»
(для дошкольников)

Ответы

Ответ должен быть представлен строго в виде **ОДНОГО СЛОВА**, **БУКВЫ** или **ЧИСЛА** (согласно условию задания) без кавычек, точек, орфографических ошибок. Неверно записанные ответы не учитываются.

Задание №1		Ответ
<p>Лиса бежала по лесу и спугнула семейство зайцев. Они спрятались за кочкой. Теперь оттуда торчат 6 длинных ушей.</p> <p><i>Сколько всего зайцев сидит в укрытии?</i></p>		3
Задание №2		Ответ
<p>Посчитай, сколько всего ягод собрал Ежик в саду, когда помогал маме:</p>  <p><i>В ответе запиши количество ягод</i></p>		2
Задание №3		Ответ
<p>В большом аквариуме плавали 10 рыбок. Чтобы его почистить, папа временно переселил рыб в стеклянные банки. В каждой из них хватает места только для 3 рыбок. Сколько всего банок понадобилось папе?</p> <p><i>В ответе запиши число банок для рыбок</i></p>		4
Задание №4		Ответ
<p>На каком рисунке нет круга?</p>  <p><i>В ответе укажи только номер рисунка (1 или 2 или 3 или 4)</i></p>		3
Задание №5		Ответ
<p>Посмотрите внимательно на картинку и определите, по какому правилу располагаются животные. Напишите, кто должен стоять из животных на месте вопроса?</p>  <p>1. Щенок 2. Поросёнок 3. Медвежонок</p> <p><i>В ответе укажите только номер выбранного варианта (1 или 2 или 3)</i></p>		2 Поросенок

Задание №6

Маша собиралась в детский сад. Она надела зелёную шапку, красное пальто и синие сапоги, а рюкзак забыла. Найди на картинке Машу.



В ответе укажи только номер выбранного варианта (1 или 2 или 3)

Ответ

3

Задание №7

Петя убирал игрушки в коробки. В первую коробку он положил половину всех игрушек, а во вторую – 5 оставшихся. Сколько всего игрушек у Пети?

В ответе запиши полученное число

Ответ

10

Задание №8

У медвежонка Миши день рождения. К нему пришли друзья. Рассмотрите картинку и посчитайте количество стульев, которые понадобятся для всех друзей, самого именинника и его мамы и папы:



В ответе запиши количество стульев

Ответ

7

Задание №9

Катя ниже Светы, но выше Марины. Какая из девочек выше других?

1. Катя
2. Света
3. Марина

В ответе укажите только номер выбранного варианта (1 или 2 или 3)

Ответ2
Света**Задание №10**

Выбери на рисунке не посуду и не жёлтый предмет.



В ответе укажи только номер выбранного предмета (1 или 2 или 3 или 4)

Ответ1
Кактус**Задание №11**

Ребята, как называются фигуры на картинке? В этом задании с помощью фигур зашифровано название животного. Используйте первые буквы названий фигур и найдите разгадку.

— — — —

В ответе запишите получившееся слово

**Ответ**

Крот

Задание №12**Ответ****Дни недели**

Наверняка, ты знаешь, что каждая неделя состоит из 7 дней. Рассмотрите картинки и найдите ошибку, которую мы допустили, подписывая вагончики названиями дней недели. Какой вагончик подписан с ошибкой?



В ответе укажи только номер выбранного варианта (1 или 2 или 3 или 4 или 5 или 6 или 7)

4
Апрель

Оценка ответов на вопросы конкурса:

- за каждый правильный ответ на задания с 1 по 8 – 8 баллов
- за каждый правильный ответ на задания с 9 по 12 – 9 баллов

Уважаемые участники, родители и координаторы!

Пожалуйста, поделитесь отзывом о конкурсе – нам важно ваше мнение. Расскажите: что нового вы узнали, какие задания были лёгкими, а какие сложными, что вам не понравилось и хотели бы вы участвовать в конкурсе снова. Ваши предложения и замечания ждём на почту: mir-konkursov2008@yandex.ru и mir-konkursov2018@yandex.ru.