


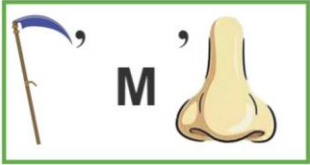




**Международная олимпиада по логике**  
**«Занимательная логика и смекалка»**  
 (для учащихся 1-2 классов)

**Ответы**

Ответ должен быть представлен строго в виде **ОДНОГО СЛОВА**, **БУКВЫ** или **ЧИСЛА** (согласно условию задания) без кавычек, точек, орфографических ошибок. Неверно записанные ответы не учитываются.

<b>Задание №1</b>		<b>Ответ</b>
<p>Вместо цифры «5» Вася рисует ладошку, вместо «4» – квадратик, а вместо «3» – треугольник. Найди ответ в примере на рисунке.</p>  <p><i>В ответе запиши результат примера</i></p>		<b>3</b>
<b>Задание №2</b>		<b>Ответ</b>
<p>Петя убирал игрушки в коробки. В первую коробку он положил половину всех игрушек, а во вторую – 5 оставшихся. Сколько всего игрушек у Пети?</p> <p><i>В ответе запиши полученное число</i></p>		<b>10</b>
<b>Задание №3</b>		<b>Ответ</b>
<p>Посмотрите на рисунок. Какие две фигурки одного цвета, но разной формы?</p> <ol style="list-style-type: none"> <li>1 и 5</li> <li>2 и 4</li> <li>3 и 4</li> <li>3 и 6</li> </ol> <p><i>В ответе укажите только номер выбранного варианта (1 или 2 или 3 или 4)</i></p>		<b>2</b> <b>2 и 4</b>
<b>Задание №4</b>		<b>Ответ</b>
<p>В большом аквариуме плавали 10 рыбок. Чтобы его почистить, папа временно переселил рыб в стеклянные банки. В каждой из них хватает места только для 3 рыбок. Сколько всего банок понадобилось папе?</p> <p><i>В ответе запиши число банок для рыбок</i></p>		<b>4</b>
<b>Задание №5</b>		<b>Ответ</b>
<p>Ребята, как называются фигуры на картинке? В этом задании с помощью фигур зашифровано название животного. Используйте первые буквы названий фигур и найдите разгадку.</p> <p align="center">— — — —</p> <p><i>В ответе запишите получившееся слово</i></p>		<b>Крот</b>
<b>Задание №6</b>		<b>Ответ</b>
<p>Петя и Вася делали домашнее задание по математике. Вместе они справились за 10 минут. Сколько минут на домашнее задание потратил каждый мальчик?</p> <p><i>В ответе запиши полученный результат</i></p>		<b>10 минут</b>

Задание №7		Ответ
<p>Разгадай ребус, и ты узнаешь, как называется огромное пространство со звёздами, планетами и нашей Землёй. Это место, куда летают ракеты!</p> <p>-----</p> <p><i>В ответе запиши получившееся слово</i></p>		<p><i>Космос</i></p>
Задание №8		Ответ
<p>В коробке лежали шоколадные конфеты. Мама разделила их поровну между дочками Светой и Алисой. А одну конфету забрала себе, чтобы никому не было обидно. Сколько конфет было в коробке, если известно, что это число меньше 7, а каждая девочка получила больше 1 конфеты?</p> <p><i>В ответе запиши число конфет в коробке</i></p>		<p>5</p>
Задание №9		Ответ
<p>Петя хочет закрасить все квадратики с буквами на рисунке. Он закрашивает их через один, двигаясь по стрелочке. Квадратик с какой буквой он закрасит последним?</p> <ol style="list-style-type: none"> <li>1. А</li> <li>2. Б</li> <li>3. В</li> <li>4. Г</li> <li>5. Д</li> </ol> <p><i>Выбери правильный ответ и напиши его номер (1 или 2 или 3 или 4 или 5)</i></p>		<p>4 Г</p>
Задание №10		Ответ
<p>Петя и Вася коллекционируют фигурки зверей: один — только хищников, другой — только травоядных. У мальчика, который собирает хищников, на 2 фигурки меньше. У Пети уже 5 зверей, среди них есть слон. Сколько всего фигурок у мальчиков?</p> <p><i>В ответе запиши число фигурок у мальчиков</i></p>		<p>8</p>
Задание №11		Ответ
<p>У медвежонка Миши день рождения. К нему пришли друзья. Рассмотрите картинку и посчитайте количество стульев, которые понадобятся для всех друзей, самого именинника и его мамы и папы:</p>  <p><i>В ответе запиши количество стульев</i></p>		<p>7</p>
Задание №12		Ответ
<p>Сколько кружочков надо нарисовать Пете, чтобы их было на 4 больше, чем углов у двух треугольников?</p> <p><i>В ответе запиши число кружочков</i></p>		<p>10</p>

<b>Задание №13</b>		<b>Ответ</b>
<p>Из таинственной пещеры пропала книга заклинаний. В краже подозревают троих: Кикимору, Бабу-Ягу и Кощей Бессмертного. Вот что они говорят:</p> <p><b>Кощей:</b> «Я книгу не трогал. Это точно Кикимора».</p> <p><b>Кикимора:</b> «Баба-Яга не брала книгу. Это Кощей украл книгу».</p> <p><b>Баба-Яга:</b> «Я невиновна. А Кикимора соврала один раз и один раз сказала правду».</p> <p>Известно, что Баба-Яга никогда не врет.</p> <p>Кто же украл книгу?</p> <p>1. Баба-Яга 2. Кикимора 3. Кощей</p> <p><i>В ответе укажите только номер выбранного варианта (1 или 2 или 3)</i></p>		<p><b>2</b> <i>Кикимора</i></p>
<b>Задание №14</b>		<b>Ответ</b>
<p style="text-align: center;"><i>Считаем кубики</i></p> <p>Маша хочет разобрать постройку из кубиков на рисунке 1 и собрать из этих кубиков постройку на рисунке 2. Хватит ли ей кубиков для новой постройки?</p> <div style="text-align: center;">  </div> <p>1. Да 2. Нет</p> <p><i>В ответе укажи только номер выбранного варианта (1 или 2)</i></p>		<p><b>1</b> <i>Да</i> <b>9 кубиков</b></p>

### Оценка ответов на вопросы конкурса:

- за каждый правильный ответ на задания с 1 по 12 – 7 баллов
- за каждый правильный ответ на задания с 13 по 14 – 8 баллов

Уважаемые участники, родители и координаторы!

Пожалуйста, поделитесь отзывом о конкурсе – нам важно ваше мнение. Расскажите: что нового вы узнали, какие задания были лёгкими, а какие сложными, что вам не понравилось и хотели бы вы участвовать в конкурсе снова. Ваши предложения и замечания ждём на почту: [mir-konkursov2008@yandex.ru](mailto:mir-konkursov2008@yandex.ru) и [mir-konkursov2018@yandex.ru](mailto:mir-konkursov2018@yandex.ru).