



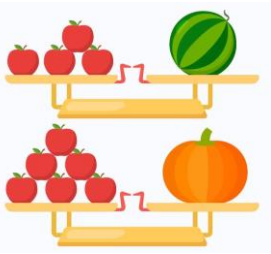





**Всероссийская межпредметная олимпиада
«Турнир Знатоков»
(для дошкольников)**

Ответы

Ответ должен быть представлен строго в виде **ОДНОГО СЛОВА**, **БУКВЫ** или **ЧИСЛА** (согласно условию задания) без кавычек, точек, орфографических ошибок. Некоторые вопросы содержат подсказку – буквы ответа. Неверно записанные ответы не учитываются.

Задание №1		Ответ
<p align="center">Найди слово</p> <p>Вася записал на доске слово, но часть каждой буквы он стёр. Допиши буквы и составь из них слово. Какое слово у тебя получилось? <i>В ответе запиши получившееся слово</i></p>		Ёжик
<p align="center">Задание №2</p> <p align="center">Весёлые ребусы</p> <p>Отгадай, какая птица зашифрована в ребусе!</p> <p align="center">_ _ _ _ _</p> <p><i>В ответе запиши полученное слово</i></p>		Грач
<p align="center">Задание №3</p> <p align="center">Сказочная математика</p> <p>Сосчитай, сколько всего ушек у сказочных героев, изображенных на картинке.</p> <p align="center">  </p> <p><i>В ответе запиши количество ушек</i></p>		8
<p align="center">Задание №4</p> <p align="center">Путешествие в Спортландию</p> <p>У какого спортивного снаряда есть блины (но их не едят) и гриф (но он не летает)?</p> <p align="center">Ш _ _ _ _ _</p> <p><i>В ответе запиши название спортивного снаряда</i></p>		Штанга
<p align="center">Задание №5</p> <p align="center">Загадки окружающего мира</p> <p>Как называется дерево, на котором весной распускаются пушистые комочки?</p> <p align="center">_ _ р _ _</p> <p><i>В ответе запиши название дерева</i></p>		Верба
<p align="center">Задание №6</p> <p align="center">Путешествие по сказкам</p> <p>На картинке герои произведений Эдуарда Успенского. Со сколькими из них знакома старуха Шапокляк?</p> <p align="center">  </p> <p><i>В ответе запиши число знакомых Шапокляк</i></p>		3

Задание №7		Ответ
<p align="center">Загадки с весами</p> <p>Ребята, посмотрите на картинку. Одно арбуз весит как 4 яблока, а одна тыква весит как 6 яблок. Что весит больше – одно арбуз или одна тыква?</p> <p>1. арбуз 2. тыква 3. одинаково</p> <p><i>В ответе укажи только номер выбранного варианта (1 или 2 или 3)</i></p>		<p align="center">2 тыква</p>
<p align="center">Задание №8</p> <p align="center">Разноцветный мир</p> <p>Сосчитай, сколько в нашем списке предметов, которые бывают полосатыми. Сколько полосатых предметов у тебя получилось?</p> <p><i>Малина, зебра, ворона, пешеходный переход, мандарин, арбуз, чай, тельняшка, тигр, помидор.</i></p> <p><i>В ответе запиши только количество полосатых предметов</i></p>		<p align="center">5 Зебра, пешеходный переход, арбуз, тигр, тельняшка</p>
<p align="center">Задание №9</p> <p align="center">Занимательная логика</p> <p>Выбери зелёное, но не круглое.</p> <p><i>В ответе укажи только номер выбранного варианта (1 или 2 или 3 или 4)</i></p>		<p align="center">1 Бант</p>
<p align="center">Задание №10</p> <p align="center">Математика вокруг нас</p> <p>У Гриши 3 друга. Каждому другу он дал один апельсин и одно яблоко. И ещё один апельсин у него остался. Сколько у Гриши было апельсинов?</p> <p><i>В ответе запиши число апельсинов</i></p>		<p align="center">4</p>
<p align="center">Задание №11</p> <p align="center">В мире животных</p> <p>Найдите на картинке домик муравья. Запишите номер домика в ответе.</p> <p><i>В ответе укажи только номер выбранного варианта (1 или 2 или 3 или 4)</i></p>		<p align="center">4</p>
<p align="center">Задание №12</p> <p align="center">Путешествие по России</p> <p>Каким русским народным музыкальным инструментом можно есть кашу или суп?</p>  <p><i>В ответе укажи только номер выбранного варианта (1 или 2 или 3)</i></p>		<p align="center">2 ложки</p>

Задание №13**Увлекательная анатомия**


Пять пальцев, пять друзей, всегда и везде ходили вместе – Средний, Большой, Мизинец, Безымянный и Указательный.

Однажды один пальчик потерялся. Тот, который живёт между Мизинцем и Средним. Отыщи потеряшку на картинке.

В ответе укажи только номер пальчика (1 или 2 или 3 или 4 или 5)

**Ответ****4****Задание №14****Задание на внимательность**

Какая тень подходит этой многорукой моднице?



В ответе укажи только номер выбранного варианта (1 или 2 или 3 или 4)

**Ответ****4**

Уважаемые ребята, родители и координаторы!

Мы будем очень благодарны Вам за оставленный отзыв о конкурсе.

Нам очень важно знать ваше мнение о конкурсных заданиях. Что нового вы узнали, участвуя в конкурсе? Какие задания показались лёгкими? А какие самыми сложными? Что вам не понравилось? Хотели бы вы ещё участвовать в подобных конкурсах?

Ждём все Ваши предложения, пожелания и замечания на наши электронные адреса:

mir-konkursov2008@yandex.ru и mir-konkursov2018@yandex.ru