






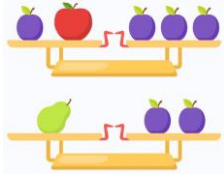



Ответы

Ответ должен быть представлен строго в виде **ОДНОГО СЛОВА**, **БУКВЫ** или **ЧИСЛА** (согласно условию задания) без кавычек, точек, орфографических ошибок. Некоторые вопросы содержат подсказку – буквы ответа. Неверно записанные ответы не учитываются.

| Задание №1 | | Ответ |
|---|---|----------------|
| <p><i>Математическая разминка</i></p> <p>У Гриши есть флешка ёмкостью 32 Гигабайта. Сколько он сможет записать на неё фильмов по 3 Гигабайта каждый?</p> <p><i>В ответе укажите только число фильмов</i></p> | | <p>10</p> |
| <p><i>Задание №2</i></p> <p><i>Путешествие в Спортландию</i></p> <p>Наш вопрос о старинной русской спортивной игре. Здесь приветствуются верность своей команде, находчивость, внимательность, изворотливость, быстрый бег, меткий глаз, твёрдость удара рук и уверенность в том, что тебя не победят. Инвентарь: бита, мяч, площадка. О какой игре речь?</p> <p>— — — — —</p> <p><i>В ответе запиши название спортивной игры</i></p> | | <p>Ланта</p> |
| <p><i>Задание №3</i></p> | | <p>Ответ</p> |
| <p><i>Весёлые ребусы</i></p> <p>Разгадай наш весёлый ребус!</p> <p>— — — — —</p> <p><i>В ответе запиши словарное слово</i></p> |  | <p>Воробей</p> |
| <p><i>Задание №4</i></p> | | <p>Ответ</p> |
| <p><i>Увлекательная анатомия</i></p> <p>На четырех рисунках показана левая рука, а на одном – правая. На каком рисунке правая рука?</p>  <p><i>В ответе укажи только номер рисунка</i></p> | | <p>3</p> |
| <p><i>Задание №5</i></p> | | <p>Ответ</p> |
| <p><i>Грамматическая математика</i></p> <p>Ребята любят играть в грамматическую математику и «собирать» слова. Попробуй и ты! Какое школьное слово у тебя получилось?</p> <p>ЗАКОЛКА – КОЛ + ДАЧА + БАН – КАБАН</p> <p><i>В ответе запиши получившееся слово</i></p> | | <p>Задача</p> |
| <p><i>Задание №6</i></p> | | <p>Ответ</p> |
| <p><i>Азбука дорожного движения</i></p> <p>Каким знаком обозначается «пункт питания»?</p> <p><i>В ответе напиши только номер выбранного варианта (1 или 2 или 3 или 4)</i></p> |  | <p>2</p> |

| Задание №7 | | Ответ |
|--|---|---|
| <p align="center">Путешествие по России</p> <p>Выбери на картинке русский народный музыкальный инструмент, о котором идет речь.</p> <p><i>В руки ты ее возьмешь, То растянешь, то сожмешь! Звонкая, нарядная, Русская, двухрядная. Заиграет, только тронь, Как зовут ее?</i></p> <p><i>В ответе укажи только номер выбранного варианта (1 или 2 или 3 или 4)</i></p> |  | <p align="center">3 Гармонь</p> |
| <p align="center">Задание №8</p> <p align="center">Эти удивительные птицы</p> <p>Кто здесь лишний по способу передвижения?</p> <p><i>В ответе укажи только номер выбранного варианта (1 или 2 или 3 или 4)</i></p> |  | <p align="center">3 Пеликан</p> |
| <p align="center">Задание №9</p> <p align="center">Увлекательная география</p> <p>Вася выписал список морей. Какого моря не существует?</p> <ol style="list-style-type: none"> 1. Чёрное море 2. Белое море 3. Жёлтое море 4. Синее море 5. Море Лаптевых <p><i>В ответе укажи только номер выбранного варианта (1 или 2 или 3 или 4 или 5)</i></p> | | <p align="center">4 Синее море</p> |
| <p align="center">Задание №10</p> <p align="center">Я открываю космос</p> <p>Найди на картинке портрет первой в мире женщины-космонавта.</p> <p><i>В ответе напиши только номер выбранного варианта (1 или 2 или 3)</i></p> |  | <p align="center">2 Валентина Терешкова</p> |
| <p align="center">Задание №11</p> <p align="center">Путешествие по сказкам</p> <p>Кто является автором произведений про Незнайку и его друзей?</p> <ol style="list-style-type: none"> 1. Корней Чуковский 2. Эдуард Успенский 3. Шарль Перро 4. Николай Носов <p><i>В ответе укажи только номер выбранного варианта (1 или 2 или 3 или 4)</i></p> |  | <p align="center">4 Николай Носов</p> |
| <p align="center">Задание №12</p> | | Ответ |
| <p align="center">Считаем треугольники</p> <p>Сколько всего треугольников ты видишь на этой картинке?</p> <p><i>В ответе запиши общее количество треугольников</i></p> |  | <p align="center">12</p> |

| Задание №13 | | Ответ |
|---|---|-------------------------------|
| <p>А в этом задании нужно найти название месяца по следующим характеристикам:</p> <ul style="list-style-type: none"> – это второй по счёту месяц одного из времён года; – на конце слова ь; – ударение падает на второй слог; – в названии этого месяца 6 букв и 5 звуков. <p><i>В ответе запиши название этого месяца</i></p> | | <p>Апрель</p> |
| Задание №14 | | Ответ |
| <p>В 4-х этажном лесном теремке живут Белочка, Ёжик, Хомяк и Енот. Енот живёт выше Ёжика, но ниже Белочки. Хомяк живёт только выше Ёжика. Кто живёт на втором этаже?</p> <ol style="list-style-type: none"> 1. Белочка 2. Ёжик 3. Хомяк 4. Енот <p><i>В ответе укажи только номер выбранного варианта (1 или 2 или 3 или 4)</i></p> |  | <p>3 Хомяк</p> |
| Задание №15 | | Ответ |
| <p>Сок этого дерева является вкусным и полезным напитком. Какое дерево способно дарить людям этот сок?</p> <p><i>В ответе укажи только номер выбранного варианта (1 или 2 или 3 или 4)</i></p> |  | <p>1 Береза</p> |
| Задание №16 | | Ответ |
| <p>Ребята, посмотрите на весы на картинке. Что весит больше – яблоко или груша?</p> <ol style="list-style-type: none"> 1. яблоко 2. груша 3. одинаково <p><i>В ответе укажи только номер выбранного варианта (1 или 2 или 3)</i></p> |  | <p>3 одинаково</p> |
| Задание №17 | | Ответ |
| <p>У Маши меньше 20 конфет. Эти конфеты она может разделить поровну между двумя, тремя или четырьмя подругами. Сколько конфет у Маши?</p> <p><i>В ответе запиши число конфет у Маши</i></p> | | <p>12</p> |
| Задание №18 | | Ответ |
| <p>Этот речной обитатель стал героем многих русских пословиц и поговорок. Из них можно узнать, что:</p> <ul style="list-style-type: none"> – ОН пятится назад; – иногда ОН бывает красным; – никто не знает, где ОН зимует; – все ждут, когда ОН на горе свистнет. <p>Найди ЕГО изображение.</p> <p><i>В ответе укажи только номер выбранного варианта (1 или 2 или 3 или 4)</i></p> |  | <p>4 Рак</p> |