








## II Всероссийская межпредметная олимпиада




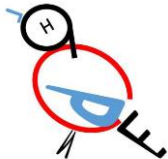
### «Турнир Эрудитов» (для учащихся 3-4 классов)

Мир конкурсов  
ЛИДЕР  
www.mir-konkursov.ru

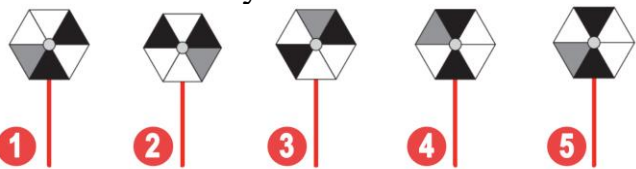


#### Ответы

Ответ должен быть представлен строго в виде **ОДНОГО СЛОВА, БУКВЫ** или **ЧИСЛА** (согласно условию задания) без кавычек, точек, орфографических ошибок. Некоторые вопросы содержат подсказку – буквы ответа. Неверно записанные ответы не учитываются.

Задание №1		Ответ				
<p><i>Математическая разминка</i></p> <p>В коробке лежат ёлочные шары двух цветов. Половина из них – красные, остальные 7 – жёлтые. Сколько шаров лежит в коробке?</p> <p><i>В ответе запиши полученное число</i></p>		14				
Задание №2		Ответ				
<p><i>Новогодний ребус</i></p> <p>В заснеженном волшебном лесу прячется тайна. Дед Мороз приготовил для тебя загадку: он зашифровал важное слово в ребусе. Реши ребус — и перед тобой появится ответ!</p> <p>— — е — — — — —</p> <p><i>В ответе запиши получившееся слово</i></p>		Снегурочка				
Задание №3		Ответ				
<p><i>Занимательная логика</i></p> <p>Какая фигура принадлежит группе фигур на картинке справа?</p> <div><div>1</div><div>2</div><div>3</div><div>4</div></div> <p><i>В ответе укажи номер выбранного варианта (1 или 2 или 3 или 4)</i></p>		4				
Задание №4		Ответ				
<p><i>В мире животных</i></p> <p>Какой зверь питается только бамбуком?</p> <table><tr><td>1. Панда</td><td>3. Верблюд</td></tr><tr><td>2. Коала</td><td>4. Кенгуру</td></tr></table> <p><i>В ответе укажи только номер выбранного варианта (1 или 2 или 3 или 4)</i></p>	1. Панда	3. Верблюд	2. Коала	4. Кенгуру		1 Панда
1. Панда	3. Верблюд					
2. Коала	4. Кенгуру					
Задание №5		Ответ				
<p><i>Математика вокруг нас</i></p> <p>Впиши вес каждой фигурки так, чтобы весы были уравновешены, и ворота откроются!</p>  <p>В ответе запиши вес фигурки, обозначенной знаком «?».</p>		5				

Задание №6		Ответ										
<p>Продолжи ряд.</p> <p></p> <p>Какая картинка окажется на месте знака вопроса.</p> <p><i>В ответе укажи только номер выбранного варианта (1 или 2 или 3 или 4)</i></p>	<p></p>	2										
Задание №7		Ответ										
<p><i>В мире профессий</i></p> <p>Кем работал друг Элли и Тотошки из сказки А. М. Волкова «Волшебник Изумрудного города»?</p> <table><tr><td>1. Мельник</td><td>3. Гончар</td></tr><tr><td>2. Кузнец</td><td>4. Дровосек</td></tr></table> <p><i>В ответе укажи только номер выбранного варианта (1 или 2 или 3 или 4)</i></p>	1. Мельник	3. Гончар	2. Кузнец	4. Дровосек		4 Дровосек						
1. Мельник	3. Гончар											
2. Кузнец	4. Дровосек											
Задание №8		Ответ										
<p><i>Азбука безопасности</i></p> <p>В «Сказке о мёртвой царевне» злая колдунья подарила героине сочное яблоко. Девушка взяла его и... Что она сделала неправильно, приняв подарок?</p> <p>1. Не поделилась с друзьями</p> <p>2. Приняла угощение от чужого человека</p> <p>3. Не поблагодарила</p> <p><i>В ответе укажи только номер выбранного варианта (1 или 2 или 3)</i></p>		2										
Задание №9		Ответ										
<p><i>Волшебные анаграммы</i></p> <p>В названиях животных перепутались буквы. Расшифруй все слова и найди «лишнего» по способу передвижения.</p> <table><tr><td>1. ЛОВК</td><td>3. ОККША</td></tr><tr><td>2. ЛАПЧЕ</td><td>4. ОБАСКА</td></tr></table> <p><i>В ответе запиши только номер «лишнего» (1 или 2 или 3 или 4)</i></p>	1. ЛОВК	3. ОККША	2. ЛАПЧЕ	4. ОБАСКА		2 пчела						
1. ЛОВК	3. ОККША											
2. ЛАПЧЕ	4. ОБАСКА											
Задание №10		Ответ										
<p><i>Эти удивительные птицы</i></p> <p>Помоги Маше найти все нарисованные здесь буквы и составить из них слово, название зимней красногрудой птички.</p> <p>— — — — —</p> <p><i>В ответе напиши название птицы</i></p>		Снегирь										
Задание №11		Ответ										
<p><i>Игры с буквами</i></p> <p>Вставь в пустые клеточки слово из трёх букв. Оно должно заканчивать первое слово и начинать второе.</p> <table><tr><td>К</td><td>А</td><td>Р</td><td>Н</td><td>А</td><td></td><td></td><td></td><td>Ь</td><td>С</td></tr></table> <p>— — —</p> <p><i>В ответе запиши слово из трёх букв</i></p>	К	А	Р	Н	А				Ь	С		Вал
К	А	Р	Н	А				Ь	С			

<div>Задание №12</div> <div>Путешествие по России</div> <div>На какой картинке изображена балалайка – символ русских музыкальных инструментов?</div> <div></div> <div>В ответе укажи только номер выбранного варианта (1 или 2 или 3 или 4)</div>		<div>Ответ</div> <div>1</div>																
<div>Задание №13</div> <div>Нескучная анатомия</div> <div>Реши ребус и ты узнаешь, как называется наука, которая изучает строение человеческого тела и расположение всех его органов.</div> <div>-----</div> <div>В ответе запиши получившееся слово</div>	<div><div>А — ТО</div><div></div></div>	<div>Ответ</div> <div>Анатомия</div>																
<div>Задание №14</div> <div>Наша история</div> <div>Кем является мальчик в красной шубке, изображённый рядом с Дедом Морозом на советских новогодних открытках?</div> <div>1. Другом Деда Мороза</div> <div>2. Олицетворением Нового года</div> <div>3. Племянником Деда Мороза</div> <div>В ответе укажи только номер выбранного варианта (1 или 2 или 3)</div> <div><small>*Открытка художника Владимира Ивановича Зарубина</small></div>	<div></div>	<div>Ответ</div> <div>2</div>																
<div>Задание №15</div> <div>В волшебном зимнем лесу вам предстоит заполнить таблицу: в каждой строке и столбце животные не должны повторяться. Часть животных уже на местах — они помогут вам. Какое животное нужно вписать в ячейку со знаком «?»?</div> <div><div><div>1</div></div><div><div>2</div></div><div><div>3</div></div><div><div>4</div></div></div>	<div><table><tr><td></td><td></td><td></td><td></td></tr><tr><td></td><td></td><td></td><td></td></tr><tr><td></td><td></td><td></td><td></td></tr><tr><td></td><td></td><td>?</td><td></td></tr></table></div>															?		<div>Ответ</div> <div>1</div>
																		
																		
																		
		?																
<div>Задание №16</div> <div>Знаток математики</div> <div>Бабушка готовит внукам подарки. В каждый подарок бабушка кладет 4 мандарина, 2 шоколадки и 5 конфет. Сколько подарков можно сделать из 11 конфет, 12 мандаринов и 7 шоколадок?</div>		<div>Ответ</div> <div>2 подарка</div>																

Задание №17		Ответ
<p>Снеговик крутит вертушку. Какая из вертушек ниже принадлежит Снеговику?</p>  <p><b>1</b>      <b>2</b>      <b>3</b>      <b>4</b>      <b>5</b></p> <p><i>В ответе укажи только номер выбранного варианта (1 или 2 или 3 или 4 или 5)</i></p>		5
Задание №18		Ответ
<p>Таня, Ваня, Настя и Никита слепили снеговиков. Никита слепил самого маленького снеговика. Ваня своему снеговику приделал длинный нос из морковки. Снеговик Насти стоит с краю. Какого снеговика слепила Таня?</p>  <p><b>1</b>      <b>2</b>      <b>3</b>      <b>4</b></p> <p><i>В ответе укажи только номер выбранного варианта (1 или 2 или 3 или 4)</i></p>		3

### Оценка ответов на вопросы конкурса:

- за каждый правильный ответ на задания с 1 по 8 – 5 баллов
- за каждый правильный ответ на задания с 9 по 18 – 6 баллов

Уважаемые ребята, родители и координаторы!

Мы будем очень благодарны Вам за оставленный отзыв о конкурсе.

Нам очень важно знать ваше мнение о конкурсных заданиях. Что нового вы узнали, участвуя в конкурсе? Какие задания показались лёгкими? А какие самыми сложными? Что вам не понравилось? Хотели бы вы ещё участвовать в подобных конкурсах?

Ждём все Ваши предложения, пожелания и замечания на наши электронные адреса:

mir-konkursov2008@yandex.ru и mir-konkursov2018@yandex.ru