



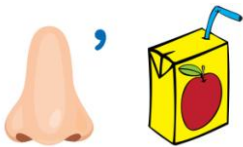



II Международная олимпиада по логике  
«Путешествие в Мир логики»  
(для дошкольников)

Мир конкурсов  
ЛИДЕР  
www.mir-konkursov.ru

Ответы

Ответ должен быть представлен строго в виде **ОДНОГО ЧИСЛА** или **СЛОВА** (согласно условию задания) без кавычек, точек и других дополнительных символов. Неверно записанные ответы не учитываются.

Задание №1		Ответ
У Маши целый апельсин и две половинки апельсина. Сколько всего апельсинов у Маши? <i>В ответе запиши число апельсинов</i>		2
Задание №2		Ответ
Дедушка, бабушка и внучка ждали поезд 3 часа. Сколько часов ждал поезд каждый из них? <i>В ответе запиши время ожидания поезда</i>		3
Задание №3		Ответ
Маша разрезала ленту в трёх местах. Сколько маленьких кусочков ленты у нее получилось? <i>В ответе запиши число кусочков</i>		4
Задание №4		Ответ
В семье зайчат появилось потомство из 6 ушек. Сколько же маленьких зайчат появилось на свет? <i>Запишите число зайчат в ответе</i>		3
Задание №5		Ответ
К четырём бабочкам залетела божья коровка. Сколько бабочек стало? <i>В ответе запиши число бабочек</i>		4
Задание №6		Ответ
Какая по счёту окажется роза, если считать цветы слева.  <i>В ответе запиши номер розы, если считать цветы слева</i>		6
Задание №7		Ответ
Разгадай ребус!  Выбери картинку-отгадку! <i>В ответе укажи только номер выбранного варианта (1 или 2 или 3 или 4)</i>		3 Носок

<b>Задание №8</b>		<b>Ответ</b>
<p>Два одинаковых ведра заполнено плодами. Первое ведро заполнено грушами, а второе ведро заполнено клубникой. В каком ведре поместилось больше плодов?  <i>В ответе запиши только номер ведра (1 или 2)</i></p>		<p><b>2</b></p>
<p><b>Задание №9</b></p> <p>В тарелке лежат яблоки. Если Матвей и две его сестрёнки возьмут по 2 яблока, то ещё останется 1 яблоко. Сколько яблок лежит в тарелке?  <i>В ответе запиши число яблок в тарелке</i></p>		<p><b>7</b></p>
<p><b>Задание №10</b></p> <p>На ветке сидели 4 воробья, 2 сороки, 3 белки, муха и гусеница. Три птички улетели. Сколько птиц осталось на ветке?  <i>В ответе запиши число оставшихся птиц</i></p>		<p><b>3</b></p>
<p><b>Задание №11</b></p> <p>Бабушка купила Марине подарок. Коробка с подарком обладает тремя свойствами:  1) она красная;  2) она не круглая;  3) у нее есть бантик.  Найди на картинке коробку с подарком для Марины.</p>  <p><i>В ответе запиши номер коробки (1 или 2 или 3 или 4)</i></p>		<p><b>1</b></p>
<p><b>Задание №12</b></p> <p>Найди верную тень пирамидки.</p>  <p><i>В ответе укажи только номер выбранного варианта (1 или 2 или 3)</i></p>		<p><b>1</b></p>

**Оценка ответов на вопросы олимпиады:**

- за каждый правильный ответ на задания с 1 по 8 – 8 баллов
- за каждый правильный ответ на задания с 9 по 12 – 9 баллов

Уважаемые ребята, родители и координаторы!

Мы будем очень благодарны Вам за оставленный отзыв о конкурсе.

Нам очень важно знать ваше мнение о конкурсных заданиях. Что нового вы узнали, участвуя в конкурсе? Какие задания показались лёгкими? А какие самыми сложными? Что вам не понравилось? Хотели бы вы ещё участвовать в подобных конкурсах?

Ждём все Ваши предложения, пожелания и замечания на наши электронные адреса:

mir-konkursov2008@yandex.ru и mir-konkursov2018@yandex.ru