



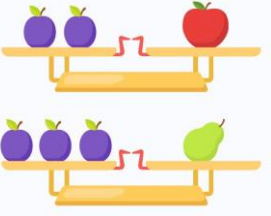



Ответы

Ответ должен быть представлен строго в виде **ОДНОГО СЛОВА**, **БУКВЫ** или **ЧИСЛА** (согласно условию задания) без кавычек, точек, орфографических ошибок. Неверно записанные ответы не учитываются.

Задание №1		Ответ
<p>У Васи 4 друга. Каждому другу он дал один апельсин и один банан. И ещё один апельсин у него остался. Сколько у Васи было апельсинов? <i>В ответе запиши число апельсинов</i></p>		5
Задание №2		Ответ
<p>Посмотрите на картинку. Собаки спрятались в кустах. Видны только хвосты. Сколько всего лап у этих собак?</p>  <p><i>В ответе запиши общее число лап</i></p>		12
Задание №3		Ответ
<p>В каком гнезде больше птенцов?</p>  <p>1 гнездо 2 гнездо</p> <ol style="list-style-type: none"> 1. в первом 2. во втором 3. одинаково <p><i>В ответе укажи только номер выбранного варианта (1 или 2 или 3)</i></p>		1
Задание №4		Ответ
<p>В зонтике 6 спиц. Между каждыми двумя спицами Вася наклеил по одной картинке. Сколько картинок он наклеит на весь зонт?</p> <p><i>В ответе запиши число картинок на зонтике</i></p>		6
Задание №5		Ответ
<p>Какая цифра спряталась за звездочкой?</p> $2 + \star + 2 = 7$ $\star = ?$ <p><i>В ответе запиши полученное число</i></p>		3
Задание №6		Ответ
<p>У Васи на курточке столько пуговиц, сколько изображено на картинке. А у Пети на 3 пуговицы больше. Сколько пуговиц на курточке Пети?</p> <p><i>В ответе запиши число пуговиц у Пети</i></p>		7

Задание №7		Ответ
<p>Продолжи заданную последовательность. Какая картинка окажется на месте знака вопрос?</p> <p><i>В ответе укажи только номер выбранного варианта (1 или 2 или 3)</i></p>		2
<p>Задание №8</p> <p>Петя и Вася прыгали по мокрому песку на одной ножке и при каждом прыжке оставляли на песке следы. Петя прыгал на левой ноге, а Вася – на правой.</p> <p>Кто из мальчиков сделал больше прыжков?</p> <p>1. Петя 2. Вася 3. Одинаково</p> <p><i>В ответе укажи только номер выбранного варианта (1 или 2 или 3)</i></p>		2
<p>Задание №9</p> <p>Маша разделила шоколадку на 4 равных кусочка. Половину она оставила себе, а 2 кусочка отдала Даше.</p> <p>Кому досталось больше шоколадки?</p> <p>1. Маше 2. Даше 3. Одинаково</p> <p><i>В ответе укажи только номер выбранного варианта (1 или 2 или 3)</i></p>		3 Одинаково
<p>Задание №10</p> <p>На каком рисунке кружочек расположен выше квадратика и правее звездочки?</p> <p><i>В ответе укажи только номер рисунка</i></p>		3
<p>Задание №11</p> <p>Ребята, посмотрите на картинку. Одно яблоко весит как 2 сливы, а одна груша весит как 3 сливы. Что весит больше – одно яблоко или одна груша?</p> <p>1. яблоко 2. груша 3. одинаково</p> <p><i>В ответе укажи только номер выбранного варианта (1 или 2 или 3)</i></p>		2 груша
<p>Задание №12</p> <p>Из трёх кубиков Вася построил башню. Жёлтый кубик он поставил выше синего и ниже красного. <i>Какой кубик оказался ниже всех?</i></p> <p>1. Жёлтый 2. Синий 3. Красный</p> <p><i>В ответе укажи только номер выбранного варианта (1 или 2 или 3)</i></p>		2 Синий