

# III Международная олимпиада по математике

«Взлёт»



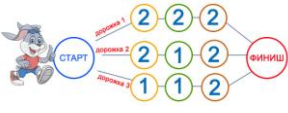
(для дошкольников)

Мир конкурсов  
ЛИДЕР  
www.mir-konkursov.ru

## Ответы

Ответ должен быть представлен строго в виде **ОДНОГО ЧИСЛА**, **БУКВЫ** или **СЛОВА** (согласно условию задания) без кавычек, точек, орфографических ошибок. Неверно записанные ответы не учитываются.

| <b>Задание №1</b>  |  | <b>Ответ</b> |
|--|--|--------------|
| Сколько ушей у трёх хомячков?<br><i>В ответе запиши число ушей</i>   |  | <b>6</b>     |
| <b>Задание №2</b>  |  | <b>Ответ</b> |
| У Маши 3 пары сапожек. Сколько сапожек у Маши на правую ногу?<br><i>В ответе запиши число сапожек на правую ногу</i>   |  | <b>3</b>     |
| <b>Задание №3</b>  |  | <b>Ответ</b> |
| Какая фигурка не синяя и не круглая?<br><br><i>В ответе укажи только номер выбранного варианта (1 или 2 или 3)</i>  |  | <b>2</b>     |
| <b>Задание №4</b>  |  | <b>Ответ</b> |
| Из игровой комнаты выбежали все дети, кроме 3. Сколько детей осталось в комнате?<br><i>В ответе запиши полученный результат</i>  |  | <b>3</b>     |
| <b>Задание №5</b>  |  | <b>Ответ</b> |
| Машенька хочет выложить из палочек первую букву своего имени. Вот так:<br><br>Сколько лишних палочек она взяла?<br><br><i>В ответе запиши число лишних палочек</i> |  | <b>2</b>     |
| <b>Задание №6</b>  |  | <b>Ответ</b> |
| У Васи 4 друга. Каждому другу он дал один апельсин и один банан. И ещё один апельсин у него остался. Сколько у Васи было апельсинов?<br><i>В ответе запиши число апельсинов</i>  |  | <b>5</b>     |

| <b>Задание №7</b>  |  | <b>Ответ</b>                  |
|--|--|-------------------------------|
| <p>Кот и корова живут на одном этаже. Кто живёт на одном этаже с зайцем?</p> <ol style="list-style-type: none"> <li>1. Кот</li> <li>2. Курица</li> <li>3. Корова</li> </ol> <p><i>В ответе укажи только номер выбранного варианта (1 или 2 или 3)</i></p>  |    | <p>2<br/><b>Курица</b></p>    |
| <b>Задание №8</b>  |  | <b>Ответ</b>                  |
| <p>В очереди за мороженым Маша стоит третья, а Даша седьмая. Сколько человек стоит между ними?</p> <p><i>В ответе запиши полученный результат</i></p>  |  | <p>3</p>                      |
| <b>Задание №9</b>  |  | <b>Ответ</b>                  |
| <p>В какой корзине больше всего мячей?</p>  <p><i>В ответе укажи только номер корзины (1 или 2 или 3 или 4)</i></p>   |  | <p>3</p>                      |
| <b>Задание №10</b>   |  | <b>Ответ</b>                  |
| <p>3 хомячка съедают пачку корма за 4 дня. Сколько хомячков съедят такую же пачку корма за 2 дня?</p> <p><i>В ответе запиши полученный результат</i></p>   |  | <p>6</p>                      |
| <b>Задание №11</b>   |  | <b>Ответ</b>                  |
| <p>Белочка собрала 2 красных и 4 жёлтых яблока. Ей нужно разложить яблоки в корзиночки. Сколько корзиночек ей понадобится, если в одну корзиночку помещается 3 яблочка?</p> <p><i>В ответе запиши число корзиночек</i></p>   |  | <p>2</p>                      |
| <b>Задание №12</b>   |  | <b>Ответ</b>                  |
| <p>Помоги зайцу-спортсмену найти такую дорожку, чтобы сумма чисел от старта до финиша равнялась 5. В ответе запиши номер дорожки.</p> <ol style="list-style-type: none"> <li>1. Дорожка 1</li> <li>2. Дорожка 2</li> <li>3. Дорожка 3</li> </ol> <p><i>В ответе укажи только номер выбранного варианта (1 или 2 или 3)</i></p> |  | <p>2<br/><b>Дорожка 2</b></p> |

### Оценка ответов на вопросы конкурса:

- за каждый правильный ответ на задания с 1 по 8 – 8 баллов

- за каждый правильный ответ на задания с 9 по 12 – 9 баллов

Уважаемые ребята, родители и координаторы!

Мы будем очень благодарны Вам за оставленный отзыв о конкурсе.

Нам очень важно знать ваше мнение о конкурсных заданиях. Что нового вы узнали, участвуя в конкурсе? Какие задания показались лёгкими? А какие самыми сложными? Что вам не понравилось? Хотели бы вы ещё участвовать в подобных конкурсах?

Ждём все Ваши предложения, пожелания и замечания на наши электронные адреса:

mir-konkursov2008@yandex.ru и mir-konkursov2018@yandex.ru