




Ответы

Ответ должен быть представлен строго в виде **ОДНОГО ЧИСЛА** или **СЛОВА** (согласно условию задания) без кавычек, точек и других дополнительных символов. Неверно записанные ответы не учитываются.

Задание №1		Ответ
<p>Одинаковыми фигурами обозначены одинаковые цифры, разными фигурами – разные цифры. Какая цифра скрывается за синим треугольником?</p>  <p><i>В ответе запиши цифру за синим треугольником</i></p>		<p>5</p>
Задание №2		Ответ
<p>Гриша был в зоопарке. Он насчитал у попугаев и львов вместе 16 крыльев и 12 хвостов. Сколько было львов?</p> <p><i>В ответе запиши число львов</i></p>		<p>4</p> <p><i>Решение:</i> 16 крыльев принадлежит 8 попугаям. Хвосты есть и у попугаев и у львов. Значит, львов было $12 - 8 = 4$</p>
Задание №3		Ответ
<p>В зонтике 9 спиц. Между каждыми двумя спицами Вася наклеил белую или жёлтую картинку. Жёлтых картинок он наклеил 4 штуки. Сколько белых картинок наклеил Вася?</p> <p><i>В ответе запиши число белых картинок</i></p>		<p>5</p> <p><i>Решение:</i> Всего Вася наклеил 9 картинок. Если жёлтых 4 штуки, то белых получается 5 штук.</p>
Задание №4		Ответ
<p>Петя едет в третьем вагоне с начала поезда, а Вася во втором вагоне с конца поезда. Между вагоном Пети и Васи ещё 3 вагона. Сколько всего вагонов в этом поезде?</p> <p><i>В ответе запиши общее число вагонов</i></p>		<p>8</p> <p><i>Решение:</i> $3 + 2 + 3 = 8$</p> 
Задание №5		Ответ
<p>Каждый из двух батончиков разрезали на 3 куска. Сколько всего разрезов сделали?</p>  <p><i>В ответе запиши общее число разрезов</i></p>		<p>4</p> <p><i>Решение:</i> Чтобы разрезать каждый батончик на 3 куска, нужно сделать 2 разреза. Для 2-х батончиков = 4 разреза</p>
Задание №6		Ответ
<p>Маша и Даша близнецы. Их брат Вася моложе их на 4 года. Вместе Маше, Даше и Васе 14 лет. <i>Сколько лет Васе?</i></p> <p><i>В ответе запиши возраст Васи</i></p>		<p>2</p> <p><i>Решение:</i> Маше и Даше по 6 лет А Васе – 2 года</p>

Задание №7		Ответ
<p>На каком рисунке звёздочка расположена ниже квадрата и правее кружочка?</p>  <p><i>В ответе укажи только номер рисунка</i></p>		4
Задание №8		Ответ
<p>Вася произнес вслух все числа от 1 до 30 включительно. Сколько слов он сказал?</p> <p><i>В ответе запиши только количество слов</i></p>		39 слов
Задание №9		Ответ
<p>В гостях у бабушки Маша, Даша и Гриша вместе съели 20 блинов. Маша и Гриша съели 15 блинов, а Гриша и Даша – 14. Сколько блинов съел Гриша?</p> <p><i>В ответе запиши число блинов, съеденных Гришей</i></p>		9 <i>Решение:</i> 1) Даша съела $20 - 15 = 5$ блинов 2) Маша съела $20 - 14 = 6$ блинов 3) Гриша съел $20 - 5 - 6 = 9$ блинов
Задание №10		Ответ
<p>Ребята, посмотрите на картинку. Весы находятся в равновесии. Найдите массу тыквы.</p> <p><i>В ответе запиши массу тыквы</i></p>		3 <i>Решение:</i> Снимаем с каждой чаши на первых весах по два арбуза. И получаем, что один арбуз весит 5 кг. Подставляем вместо арбуза на вторых весах 5 кг. И получаем, что тыква весит 3 кг.
Задание №11		Ответ
<p>Чтобы купить четыре шоколадки Маше не хватает 60 рублей. Она купила 3 шоколадки, и у нее осталось 30 рублей. Сколько рублей стоит одна шоколадка?</p> <p><i>В ответе запиши цену одной шоколадки</i></p>		90 <i>Решение:</i> Если Маше не хватило на шоколадку 60 рублей и 30 рублей еще осталось, то шоколадка стоит $60 + 30 = 90$ рублей.
Задание №12		Ответ
<p>Белочка легче Зайчика, а Зайчик легче Лисички. Какая из трёх картинок верная?</p>  <ol style="list-style-type: none"> Картинка 1 Картинка 2 Картинка 3 <p><i>В ответе укажи только номер выбранного варианта (1 или 2 или 3)</i></p>		2

Задание №13**Ответ**

Распредели игрушки по коробкам, если известно, что все подсказки на коробках ложные. Какая игрушка окажется в коробке с надписью «Попугай»?



1. Утка
2. Попугай
3. Жираф

В ответе укажи только номер выбранного варианта (1 или 2 или 3)

**1
Утка**

Уважаемые ребята, родители и координаторы!

Мы будем очень благодарны Вам за оставленный отзыв о конкурсе.

Нам очень важно знать ваше мнение о конкурсных заданиях. Что нового вы узнали, участвуя в конкурсе? Какие задания показались лёгкими? А какие самыми сложными? Что вам не понравилось? Хотели бы вы ещё участвовать в подобных конкурсах?

Ждём все Ваши предложения, пожелания и замечания на наши электронные адреса:

mir-konkursov2008@yandex.ru и mir-konkursov2018@yandex.ru