

# Международная олимпиада по математике





«Взлёт-2026»

(для дошкольников 5-7 лет)

Мир конкурсов  
ЛИДЕР  
www.mir-konkursov.ru

## Ответы

Ответ должен быть представлен строго в виде **ОДНОГО ЧИСЛА** или **СЛОВА** (согласно условию задания) без кавычек, точек и других дополнительных символов. Неверно записанные ответы не учитываются.

<b>Задание №1</b>		<b>Ответ</b>
Три девочки взяли по одному мандарину в каждую руку. <i>Сколько всего у них мандаринов?</i>		<b>6</b>
<b>Задание №2</b>		<b>Ответ</b>
Ребята, посмотрите на картинку. Вася нарисовал паровозик и пронумеровал вагоны цифрами от 1 до 9. <i>А какую цифру Вася пропустил?</i>  <i>В ответе запишите только пропущенную цифру</i>		<b>6</b>
<b>Задание №3</b>		<b>Ответ</b>
Белочка собирала красные и жёлтые яблоки. Всего она собрала 4 яблока. Красных яблок больше, чем жёлтых. <i>Сколько жёлтых яблок собрала белочка?</i>		<b>1</b>
<b>Задание №4</b>		<b>Ответ</b>
Петя и Вася купили для мамы цветы к празднику (смотри рисунок справа). Петя подарил самый большой цветок, все красные цветы и один синий. Остальные цветы подарил Вася. <i>Сколько цветов подарил Вася?</i> <i>В ответе запиши, сколько цветов подарил Вася</i>		<b>3</b>
<b>Задание №5</b>		<b>Ответ</b>
Ребята, посмотрите на рисунки. Сколько ягодок нужно еще нарисовать на рисунке слева, чтобы их стало поровну на обоих рисунках?  <i>В ответе запиши только число дополнительных ягодок</i>		<b>3</b>
<b>Задание №6</b>		<b>Ответ</b>
Любимое блюдо пингвинов – рыба. Посчитай, сколько рыбок здесь не хватает, чтобы каждый пингвин смог подкрепиться.  <i>В ответе запиши число рыбок</i>		<b>3</b>

