








Ответы

Ответ должен быть представлен строго в виде **ОДНОГО СЛОВА**, **БУКВЫ** или **ЧИСЛА** (согласно условию задания) без кавычек, точек, орфографических ошибок. Некоторые вопросы содержат подсказку – буквы ответа. Неверно записанные ответы не учитываются.

Задание №1		Ответ
<p>Белочка собирала красные и жёлтые яблоки. Всего она собрала 4 яблока. Красных яблок больше, чем жёлтых.</p> <p><i>Сколько красных яблок собрала белочка?</i></p>		3
Задание №2		Ответ
<p>Выбери не четырехугольную и не синюю фигуру.</p> <div style="text-align: center;">  </div> <p><i>В ответе запиши номер фигуры</i></p>		3
Задание №3		Ответ
<p>К Кролику приехали два брата: старший и младший. Младший брат не самый высокий. Сам Кролик ниже всех. Кто из братьев выше всех?</p> <ol style="list-style-type: none"> 1. Кролик 2. Старший брат Кролика 3. Младший брат Кролика <p><i>В ответе укажите только номер выбранного варианта (1 или 2 или 3)</i></p>		2 Старший брат
Задание №4		Ответ
<p>Гриша сделал постройку из трёх фигур. На рисунке справа показан вид сбоку этой постройки. Как будет выглядеть эта постройка, если смотреть на нее сверху?</p> <div style="display: flex; justify-content: space-around;"> <div style="text-align: center;"> 1</div> <div style="text-align: center;"> 2</div> <div style="text-align: center;"> 3</div> <div style="text-align: center;"> 4</div> </div> <p><i>В ответе укажи только номер выбранного варианта (1 или 2 или 3 или 4)</i></p>		4
Задание №5		Ответ
<p>Маленькая шоколадка стоит 20 рублей. У Марины есть 65 рублей. Сколько шоколадок может купить Марина?</p> <p><i>В ответе запиши число шоколадок</i></p>		3
Задание №6		Ответ
<p>Один кирпич весит столько же, сколько полкирпича и ещё 2 кг. Найди массу двух кирпичей.</p> <p><i>В ответе запиши массу двух кирпичей</i></p>		<p style="text-align: center; font-size: 1.2em;">8</p> <p><i>Решение:</i> Один кирпич весит $2+2=4$ кг Два кирпича весят 8 кг.</p>

Задание №7		Ответ
<p>Маленькая птичка решила прогуляться по своему садику. Садик квадратный. Если длина стороны равна пяти шагам, сколько шагов сделала птичка, обойдя весь сад один раз?</p> <p><i>Укажи в ответе количество шагов</i></p>		<p>20</p>
<p>У Маши и Даши было одинаковое количество цветных карандашей. Маша отдала Даше 6 карандашей. <i>На сколько больше карандашей стало у Даши?</i></p> 		<p>Ответ на 12</p> <p><i>Ответ: на 12 карандашей стало больше у Даши. Пояснение: У Маши количество карандашей уменьшилось на 6, а у Даши количество карандашей увеличилось на 6. Итого, у Даши стало на 12 карандашей больше, чем у Маши.</i></p>
<p>Сколько существует двузначных чисел, сумма цифр которых равна 10?</p> <p><i>В ответе запиши количество таких чисел</i></p>		<p>9</p> <p><i>Решение:</i> 19, 91, 28, 82, 37, 73, 46, 64, 55</p>
<p>Одинаковым фигурам соответствуют одинаковые цифры. Разным фигурам – разные цифры. Решите примеры на картинке. Какая цифра должна стоять в кружочке со знаком вопрос?</p> <p><i>В ответе запиши только цифру в кружочке</i></p>		<p>6</p>
<p>У Васи меньше 10 конфет. Эти конфеты он может разделить поровну между двумя или тремя друзьями. Сколько конфет у Васи?</p> <p><i>В ответе запиши число конфет у Васи</i></p>		<p>6</p>
<p>На рисунке справа лежат 5 колокольчиков Васи. Он поставил колокольчики в ряд так, чтобы жёлтый колокольчик стоял не с краю, а синий колокольчик – между красным и зелёным. Какой ряд из колокольчиков мог получиться?</p>  <p><i>В ответе укажи только номер выбранного варианта (1 или 2 или 3 или 4)</i></p>		<p>4</p>
<p>Бабушка купила на рынке красные помидоры, жёлтые груши и красные яблоки. Всего в ее сумке было 16 плодов, 9 из них – красного цвета, а 12 из них – фрукты. Каких плодов бабушка купила больше?</p>		<p>Ответ 2 груш</p> <p><i>Решение:</i> 1) Найдем количество помидоров (овощей): $16 - 12 = 4$ 2) Найдем количество</p>

<p>1. Помидоров 2. Груши 3. Яблоко</p> <p><i>В ответе укажи только номер выбранного варианта (1 или 2 или 3)</i></p>		<p>груши: $16 - 9 = 7$ 3) Значит, яблок бабушка купила $16 - 4 - 7 = 5$ Значит, больше всех купили груши.</p>
Задание №14		Ответ
<p>Посмотри на весы и определи, сколько весит каждый плод. В ответе запиши, сколько весит дыня.</p>  <p><i>В ответе запиши вес дыни</i></p>		6

Оценка ответов на вопросы конкурса:

- за каждый правильный ответ на задания с 1 по 12 – 7 баллов
- за каждый правильный ответ на задания с 13 по 14 – 8 баллов

Уважаемые участники, родители и координаторы!

Пожалуйста, поделитесь отзывом о конкурсе – нам важно ваше мнение. Расскажите: что нового вы узнали, какие задания были лёгкими, а какие сложными, что вам не понравилось и хотели бы вы участвовать в конкурсе снова. Ваши предложения и замечания ждём на почту: mir-konkursov2008@yandex.ru и mir-konkursov2018@yandex.ru.