

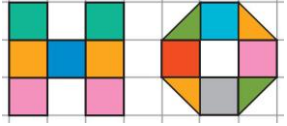





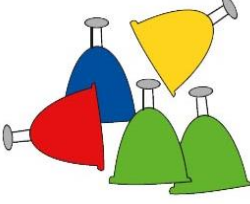



Ответ должен быть представлен строго в виде **ОДНОГО ЧИСЛА** или **СЛОВА** (согласно условию задания) без кавычек, точек и других дополнительных символов. Неверно записанные ответы не учитываются.

<b>Задание №1</b>		<b>Ответ</b>
<p>Три девочки взяли по одному мандарину в каждую руку. <i>Сколько всего у них мандаринов?</i></p>		<b>6</b>
<b>Задание №2</b>		<b>Ответ</b>
<p>Петя и Вася купили для мамы цветы к празднику (смотри рисунок справа). Петя подарил самый большой цветок, все красные цветы и один синий. Остальные цветы подарил Вася. Сколько цветов подарил Вася? <i>В ответе запиши, сколько цветов подарил Вася</i></p>		<b>3</b>
<b>Задание №3</b>		<b>Ответ</b>
<p>Света каждый день срывает в лесу один лист с дерева для своей аппликации, которую она готовит маме на день рождения. <i>Сколько листьев она наберет за неделю?</i></p>		<b>7</b>
<b>Задание №4</b>		<b>Ответ</b>
<p>Белочка собирала красные и жёлтые яблоки. Всего она собрала 4 яблока. Красных яблок больше, чем жёлтых. <i>Сколько жёлтых яблок собрала белочка?</i></p>		<b>1</b>
<b>Задание №5</b>		<b>Ответ</b>
<p>Как-то утром Баба-яга решила посчитать всех разноцветных бабочек, порхающих над её избушкой на курьих ножках. </p> <p>Помоги Бабе-яге посчитать правильно и выяснить, бабочек какого цвета летает больше: 1. Синих 2. Красных 3. Желтых <i>Выбери правильный ответ и напиши его номер (1 или 2 или 3)</i></p>		<b>3</b> <b>Желтых</b>
<b>Задание №6</b>		<b>Ответ</b>
<p>Игрушечная машинка за один рейс может перевезти 3 кубика. Сколько рейсов потребуется сделать, чтобы перевезти 10 кубиков? <i>В ответе запиши полученный результат</i></p>		<b>4</b>

Задание №7		Ответ
<p>В магазине стоит очередь. Вася оказался третьим с конца и третьим с начала очереди. <i>Сколько всего человек стоит в очереди?</i></p>		<p><b>5</b></p> <p>Решение: Представим нашу очередь 😊😊😊😊😊</p>
Задание №8		Ответ
<p>Чтобы закрасить одну белую клеточку, нужно потратить одну баночку краски. Маша раскрасила букву «Н», а Петя раскрасил букву «О». <i>Кто из детей потратил больше баночек краски?</i></p> <p>1. Маша 2. Петя 3. Одинаково</p> <p><i>В ответе укажите только номер выбранного варианта (1 или 2 или 3)</i></p>		<p><b>1</b> <i>Маша</i></p>
Задание №9		Ответ
<p>Медвежонок вместе с бочкой мёда весит 12 килограммов, а без бочки – 8 кг. Сколько весит бочка без Медвежонка?</p> <p><i>В ответе запиши вес бочки</i></p>		<p><b>4</b></p>
Задание №10		Ответ
<p>Четыре мальчика играли на барабанах. Всего у них было 6 барабанных палочек. У некоторых мальчиков по 2 палочки, а у остальных по одной палочке. Сколько мальчиков держат по 2 палочки?</p>  <p><i>Сколько мальчиков держат по 2 барабанные палочки?</i></p>		<p><b>2</b></p>
Задание №11		Ответ
<p>На рисунке справа лежат 5 колокольчиков Васи. Он поставил колокольчики в ряд так, чтобы жёлтый колокольчик стоял <b>не с краю</b>, а синий колокольчик – <b>между красным и зелёным</b>. Какой ряд из колокольчиков мог получиться?</p> <div style="display: flex; justify-content: space-around;"> <div style="text-align: center;"> <p>1</p>  </div> <div style="text-align: center;"> <p>2</p>  </div> </div> <div style="display: flex; justify-content: space-around; margin-top: 10px;"> <div style="text-align: center;"> <p>3</p>  </div> <div style="text-align: center;"> <p>4</p>  </div> </div> <p><i>В ответе укажи только номер выбранного варианта (1 или 2 или 3 или 4)</i></p>		<p><b>4</b></p>
Задание №12		Ответ
<p>Гриша сделал постройку из трёх фигур. На рисунке справа показан вид сбоку этой постройки. Как будет выглядеть эта постройка, если смотреть на нее сверху?</p>		<p><b>2</b></p>



*В ответе укажи только номер выбранного варианта  
(1 или 2 или 3)*

**Оценка ответов на вопросы конкурса:**

- за каждый правильный ответ на задания с 1 по 8 – 8 баллов
- за каждый правильный ответ на задания с 9 по 12 – 9 баллов

Уважаемые участники, родители и координаторы!

Пожалуйста, поделитесь отзывом о конкурсе – нам важно ваше мнение. Расскажите: что нового вы узнали, какие задания были лёгкими, а какие сложными, что вам не понравилось и хотели бы вы участвовать в конкурсе снова. Ваши предложения и замечания ждём на почту: [mir-konkursov2008@yandex.ru](mailto:mir-konkursov2008@yandex.ru) и [mir-konkursov2018@yandex.ru](mailto:mir-konkursov2018@yandex.ru).