

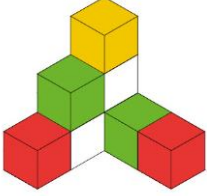

# IV Международная олимпиада по математике

«Вундеркинд»  
(для учащихся 1 классов)



## Ответы

Ответ должен быть представлен строго в виде **ОДНОГО ЧИСЛА** или **СЛОВА** (согласно условию задания) без кавычек, точек и других дополнительных символов. Неверно записанные ответы не учитываются.

Задание №1		Ответ
<p>Бабушка вязала внукам шапочки и носочки. Всего она связала 4 шапочки и 8 носочков. Сколько внуков у бабушки?</p> <p><i>Запиши число внуков в ответе</i></p>		<p>4</p>
<p>Задание №2</p> <p>В кассу за билетами в кино стоит очередь. Маша оказалась третьей с конца и пятой с начала очереди.</p> <p><i>Сколько всего человек стоит в очереди?</i></p>		<p>7</p> <p>Решение: Представим нашу очередь 😊😊😊😊😊😊😊</p>
<p>Задание №3</p>		<p>Ответ</p>
<p>Один леденец стоит 5 рублей. У Васи есть 12 рублей. Сколько леденцов сможет купить Вася?</p> <p><i>В ответе запиши число леденцов</i></p>		<p>2</p>
<p>Задание №4</p>		<p>Ответ</p>
<p>Сколько кубиков понадобится Пете, чтобы построить такую фигуру?</p> <p><i>В ответе запиши число кубиков</i></p>		<p>8</p>
<p>Задание №5</p>		<p>Ответ</p>
<p>Белочка собирала красные и жёлтые яблоки. Всего она собрала 4 яблока. Красных яблок больше, чем жёлтых.</p> <p><i>Сколько красных яблок собрала белочка?</i></p>		<p>3</p>
<p>Задание №6</p>		<p>Ответ</p>
<p>Чебурашка решил купить торт ко дню рождения крокодила Гены за 19 рублей. Продавец сделал Чебурашке скидку, и он заплатил за торт на 8 рублей меньше. Сколько Чебурашка заплатил за торт?</p> <p><i>В ответе запиши стоимость торта</i></p>		<p>11</p>
<p>Задание №7</p>		<p>Ответ</p>
<p>Вася записал все числа от 1 до 20 включительно. <i>Каких чисел он записал больше – чётных или нечётных?</i></p> <ol style="list-style-type: none"> <li>Чётных</li> <li>Нечётных</li> <li>Одинаково</li> </ol> <p><i>В ответе укажите только номер выбранного варианта (1 или 2 или 3)</i></p>		<p>3</p>

**Задание №8**

Вася хочет написать своё имя буквами, вырезанными из цветной бумаги. Каждый день он вырезает по одной букве. Первую букву он вырезал в среду. В какой день недели Вася вырежет последнюю букву?

*Запиши день недели в виде числа, если считать (1 – понедельник, 2 – вторник, 3 – среда, 4 – четверг, 5 – пятница, 6 – суббота, 7 – воскресенье)*

**Ответ**

**6**  
**суббота**

**Задание №9**

Одна мартышка имеет такую же массу как 2 зайца, а один заяц имеет такую же массу как 4 ёжика. Сколько ёжиков имеют такую же массу как одна мартышка?

*В ответе запиши массу мартышки в ёжиках*

**Ответ****8**

*Решение:*  
 мартышка = 2 зайца  
 = 4+4 ёжика = 8 ёжиков

**Задание №10**

Баба Яга накопила 20 рублей. Хватит ли ей этих денег на следующие расходы: ремонт ступы – 5 рублей; новая метла – 4 рубля; замена крыши в избушке на курьих ножках – 9 рублей?

1. Хватит
2. Не хватает

*В ответе укажите только номер выбранного варианта (1 или 2)*

**Ответ**

**1**  
**Хватит**

*Решение:*  
 Общие расходы  
 Бабы-Яги  
 5+4+9=18 рублей

**Задание №11**

Ребята, посмотрите на весы и определите, кто весит больше всех: ёжик, белочка или мартышка?



1. Ёжик
2. Белочка
3. Мартышка

*В ответе укажи только номер выбранного варианта (1 или 2 или 3)*

**Ответ**

**3**  
**Мартышка**

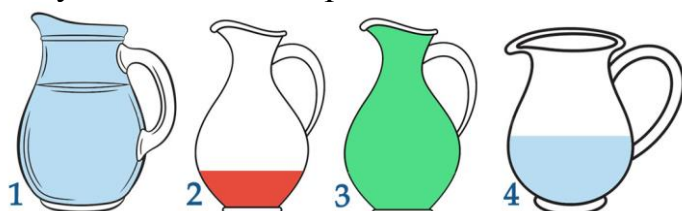
**Задание №12**

Петя всегда говорит правду, а Вася всегда обманывает.

**Петя:** В кувшине чистая вода.

**Вася:** Кувшин полон.

О каком кувшине они говорят?



*В ответе запиши только номер кувшина (1 или 2 или 3 или 4)*

**Ответ****4**

**Задание №13****Ответ**

В доме у бабушки было 14 чайных чашек и столько же блюдец. Однажды проказник кот разбил половину чашек и 9 блюдец. *Сколько чашек осталось без блюдец?*

**2***Решение:*

1) Кот разбил  $14 - 7 = 7$  чашек и 9 блюдец.

2) Следовательно, остались еще 7 целых чашек и  $14 - 9 = 5$  целых блюдец.

3) Без блюдец остались  $7 - 5 = 2$  чашки.