






Международная олимпиада по математике
«Лидер-2023»
(для учащихся 2 классов)

Ответы

Ответ должен быть представлен строго в виде ОДНОГО ЧИСЛА или СЛОВА (согласно условию задания) без кавычек, точек и других дополнительных символов. Неверно записанные ответы не учитываются.

Задание №1		Ответ
<p>Маша наряжала ёлочку. Она повесила на ёлочку чётное двузначное число шариков, которое меньше количества месяцев в году.</p> <p><i>Сколько шариков Маша повесила на ёлочку?</i></p>		10
<p>Задание №2</p> <p>Торт разрезали пополам, потом каждую половинку ещё пополам, затем каждый кусочек ещё пополам. Сколько получилось кусочков торта?</p> <p><i>Запиши это число в ответе</i></p>		8
<p>Задание №3</p> <p>Миша сложил из спичек своё имя. Посчитайте и запишите в ответе, сколько букв составлены из четного числа спичек?</p> <p align="center"></p> <p><i>В ответе запиши полученный результат</i></p>		3
<p>Задание №4</p> <p>Сколько всего треугольников на картинке?</p> <p><i>В ответе запиши общее число треугольников</i></p>		5
<p>Задание №5</p> <p>На крыше лесного теремка сидело 8 снегирей, а синичек на 7 больше. Начался дождик, и 9 птичек улетели. Сколько птичек осталось на крыше?</p> <p><i>В ответе запиши число птичек</i></p>		14 <i>Решение:</i> $8+15-9=14$
<p>Задание №6</p> <p>Один кирпич весит столько же, сколько полкирпича и ещё 2 кг. Найди массу двух кирпичей.</p> <p><i>В ответе запиши массу двух кирпичей</i></p>		8 <i>Решение:</i> Один кирпич весит $2+2=4$ кг Два кирпича весят 8 кг.
<p>Задание №7</p> <p>На какой картинке изображены фигуры разного цвета и разного размера?</p> <p align="center"></p> <p><i>В ответе запиши только номер картинке (1 или 2 или 3 или 4)</i></p>		3

Задание №8		Ответ
<p>В очереди за мороженым Маша стоит третья, а Даша седьмая. Сколько человек стоит между ними?</p> <p><i>В ответе запиши полученный результат</i></p>		3
Задание №9		Ответ
<p>У Васи меньше 10 конфет. Эти конфеты он может разделить поровну между двумя или тремя друзьями. Сколько конфет у Васи?</p> <p><i>В ответе запиши число конфет у Васи</i></p>		6
Задание №10		Ответ
<p>Петя выписал все двузначные числа, которые начинаются на 3, а Маша выписала все двузначные числа, которые заканчиваются на 7. Кто выписал больше чисел?</p> <p>1. Петя 2. Маша 3. Одинаково</p> <p><i>В ответе укажите только номер выбранного варианта (1 или 2 или 3)</i></p>		<p>1</p> <p><i>Решение:</i> Петя выписал числа: 30, 31, 32, 33, 34, 35, 36, 37, 38, 39. Маша выписала числа: 17, 27, 37, 47, 57, 67, 77, 87, 97. Следовательно, Петя выписал больше чисел.</p>
Задание №11		Ответ
<p>Ёжик делал запасы на зиму 5 дней. Каждый день он приносил в кладовую или 3 грибочка, или 2 яблока. За 5 дней он принёс всего 6 грибочков. <i>Сколько яблок ёжик принёс за эти же 5 дней?</i></p> <p><i>В ответе запиши только число яблок</i></p>		<p>6</p> <p><i>Решение:</i> Если за 5 дней ёжик принёс 6 грибочков, то грибы он собирал 2 дня. Значит, яблоки ёжик собирал 3 дня. За 3 дня ёжик собрал $2+2+2=6$ яблок.</p>
Задание №12		Ответ
<p>Маша и Гриша через день записывают, сколько дней осталось до зимних каникул. Выбери верную запись.</p> <p>1. 15, 14, 13, 12 2. 10, 12, 14, 16 3. 18, 16, 14, 12</p> <p><i>В ответе укажи только номер выбранного варианта (1 или 2 или 3)</i></p>		3
Задание №13		Ответ
<p>В парке гуляли Иван, Матвей и Гриша. Иван – сын Гриши, Матвей – сын Ивана. Как зовут внука?</p> <p>1. Иван 2. Матвей 3. Гриша</p> <p><i>В ответе укажи только номер выбранного варианта (1 или 2 или 3)</i></p>		<p>2 Матвей</p>

Задание №14**Ответ**

Маша наряжала ёлочку. Красный шарик она повесила выше жёлтого и левее синего шара. Жёлтый шарик выше только оранжевого шара.

Какой шарик оказался на ёлочке ниже остальных?

1. Оранжевый

2. Жёлтый

3. Красный

4. Синий

В ответе укажите только номер выбранного варианта (1 или 2 или 3 или 4)



1
Оранжевы
й

Уважаемые ребята, родители и координаторы!

Мы будем очень благодарны Вам за оставленный отзыв о конкурсе.

Нам очень важно знать ваше мнение о конкурсных заданиях. Что нового вы узнали, участвуя в конкурсе? Какие задания показались лёгкими? А какие самыми сложными? Что вам не понравилось? Хотели бы вы ещё участвовать в подобных конкурсах?

Ждём все Ваши предложения, пожелания и замечания на наши электронные адреса:

mir-konkursov2008@yandex.ru и mir-konkursov2018@yandex.ru