






Ответ должен быть представлен строго в виде **ОДНОГО ЧИСЛА** или **СЛОВА** (согласно условию задания) без кавычек, точек и других дополнительных символов. Неверно записанные ответы не учитываются.

Задание №1		Ответ
<p>Вася сложил из мишуры квадрат со стороной 20 см. Чему равна длина всей мишуры?</p> <p><i>В ответе запиши длину мишуры в сантиметрах</i></p>		<p>80</p> <p>см</p>
Задание №2		Ответ
<p>В парке посадили 10 берёзок в один ряд. Чему равно расстояние между первой и десятой берёзкой, если берёзки сажали на расстоянии 3 метров друг от друга?</p> <p><i>В ответе запиши расстояние между первой и десятой берёзкой</i></p>		<p>27</p> <p><i>Решение:</i> Если в ряду 10 берёзок, то расстояний между ними будет 9. $9 \cdot 3 = 27$</p>
Задание №3		Ответ
<p>Маша может писать только цифры 2, 3 и 4. Сколько чисел от 1 до 50 включительно она сможет написать?</p> <p>2 3 4</p> <p><i>В ответе запиши только количество чисел</i></p>		<p>12</p> <p>2, 3, 4, 22, 23, 24, 32, 33, 34, 42, 43, 44</p>
Задание №4		Ответ
<p>В воскресенье Петя подумал: «Позавчера была контрольная по математике, а послезавтра учительница скажет оценки». <i>В какой день недели учительница скажет оценки?</i></p> <p><i>Запиши день недели в виде числа, если считать (1 – понедельник, 2 – вторник, 3 – среда, 4 – четверг, 5 – пятница, 6 – суббота, 7 – воскресенье)</i></p>		<p>2</p> <p>вторник</p>
Задание №5		Ответ
<p>Сосчитайте, сколько треугольников на рисунке.</p> <p><i>В ответе запишите число треугольников</i></p>		<p>12</p>
Задание №6		Ответ
<p>На уроке математики Вася решал задачу. Вместо того, чтобы прибавить 25, Вася вычел 25.</p> <p>На сколько результат Васи отличается от правильного?</p> <p><i>В ответе запиши полученный результат</i></p>		<p>50</p> <p><i>Решение:</i> $25 + 25 = 50$</p>

Задание №7		Ответ
<p>Обезьянка Анфиска съедает дольку мандарина каждые 10 минут. В мандарине 10 долек. Первую дольку она съела в 13:05. Сколько времени будет на часах, когда она съест последнюю дольку?</p> <p>1. 13:55 2. 14:05 3. 14:15 4. 14:25 5. 14:35</p> <p><i>В ответе укажи только номер выбранного варианта (1 или 2 или 3 или 4 или 5)</i></p>		<p style="text-align: center;">5</p> <p style="text-align: center;">14:35</p>
Задание №8		Ответ
<p>В пятиэтажном доме в каждом подъезде на каждом этаже расположено по 4 квартиры.</p> <p><i>В каком подъезде находится квартира с номером 55? Запиши в ответе только номер подъезда</i></p>		<p style="text-align: center;">3</p> <p><i>Пояснение: В каждом подъезде расположено по $5 \cdot 4 = 20$ квартир Следовательно, квартира 55 находится в 3-ем подъезде</i></p>
Задание №9		Ответ
<p>Баба-Яга, Леший, Кикимора и Кощей Бессмертный живут в разных домах.</p> <p>Леший, Баба-Яга и Кощей живут в домике с трубой, а Баба-Яга и Кикимора – в домике с окном. Кикимора и Кощей в домике с четырехугольной крышей.</p> <p>В каком домике живёт Баба Яга?</p> <div style="text-align: center;">  <p>1 2 3 4</p> </div> <p><i>В ответе укажи только номер выбранного варианта (1 или 2 или 3 или 4)</i></p>		<p style="text-align: center;">3</p> <p style="text-align: center;">дом Бабы Яги</p>
Задание №10		Ответ
<p>Папе и сыну вместе 50 лет. Сыну 10 лет.</p> <p><i>На сколько лет папа старше сына?</i></p>		<p style="text-align: center;">30</p> <p><i>Решение: 1) папе $50 - 10 = 40$ лет 2) $40 - 10 = 30$ на 30 лет папа старше</i></p>
Задание №11		Ответ
<p>Винни-Пуху подарили на день рождения бочонок с мёдом, который весит 11 кг. Винни сразу же съел половину мёда, после чего бочонок с мёдом стал весить 6 кг.</p> <p><i>Определи вес пустого бочонка и запиши его в ответе</i></p>		<p style="text-align: center;">1</p> <p><i>Решение: Половина мёда весит $11 - 6 = 5$ кг. Значит, весь мёд весит $5 + 5 = 10$ кг. Тогда, вес пустого бочонка равен $11 - 10 = 1$ кг.</i></p>

Задание №12		Ответ
<p>У бабушки в закрытой корзинке лежат 8 жёлтых и 6 красных яблок.</p> <p><i>Какое наименьшее число яблок ей нужно достать из корзинки, чтобы среди них наверняка было 2 красных яблока?</i></p>		<p>10</p> <p><i>Решение:</i> Если достать, не глядя, 8 яблок, то это могут быть все жёлтые яблоки. Поэтому нужно достать 10 яблок, чтобы наверняка взять 2 красных яблока.</p>
Задание №13		Ответ
<p>В парке гуляли Иван, Матвей и Гриша. Иван – сын Гриши, Матвей – сын Ивана. Как зовут дедушку?</p> <p>1. Иван 2. Матвей 3. Гриша</p> <p><i>В ответе укажи только номер выбранного варианта (1 или 2 или 3)</i></p>		<p>1</p> <p>Гриша</p>
Задание №14		Ответ
<p>В 3А классе 22 ученика выполняли контрольную работу по математике. Маша сдала тетрадь десятой. Которой по счёту её тетрадь проверит учительница, если она начинает проверку с верхней тетради в стопке?</p> <p>1. Десятой 2. Одиннадцатой 3. Двенадцатой 4. Тринадцатой</p> <p><i>В ответе укажи только номер выбранного варианта (1 или 2 или 3 или 4)</i></p>		<p>4</p> <p>Тринадцатой</p>

Оценка ответов на вопросы конкурса:

- за каждый правильный ответ на задания с 1 по 12 – 7 баллов
- за каждый правильный ответ на задания с 13 по 14 – 8 баллов

Уважаемые ребята, родители и координаторы!

Мы будем очень благодарны Вам за оставленный отзыв о конкурсе.

Нам очень важно знать ваше мнение о конкурсных заданиях. Что нового вы узнали, участвуя в конкурсе? Какие задания показались лёгкими? А какие самыми сложными? Что вам не понравилось? Хотели бы вы ещё участвовать в подобных конкурсах?

Ждём все Ваши предложения, пожелания и замечания на наши электронные адреса:

mir-konkursov2008@yandex.ru и mir-konkursov2018@yandex.ru