

Международная олимпиада по математике
«Лидер-2025»
(для учащихся 1 классов)




Мир конкурсов
ЛИДЕР
www.mir-konkursov.ru

Ответы

Ответ должен быть представлен строго в виде **ОДНОГО ЧИСЛА** или **СЛОВА** (согласно условию задания) без кавычек, точек и других дополнительных символов. Неверно записанные ответы не учитываются.

Задание №1		Ответ
<p>У Маши в коробке 10 ёлочных игрушек. Она повесила на ёлку все игрушки, кроме трёх. Сколько игрушек Маша повесила на ёлку?</p> <p><i>В ответе запиши число игрушек</i></p>		7
Задание №2		Ответ
<p>Вася сделал в диктанте по русскому языку 3 ошибки, а Петя, который у него всё списал, – 6 ошибок.</p> <p><i>Сколько своих собственных ошибок сделал в диктанте Петя?</i></p>		3
Задание №3		Ответ
<p>Света загадала число. Если из количества месяцев в году вычесть число ушей у двух зайцев, то получится загаданное число.</p> <p><i>Какое число загадала Света?</i></p>		8 12-4=8
Задание №4		Ответ
<p>Вася начал лепить снеговика ровно в полдень, а закончил в 15.00. Сколько часов Вася лепил снеговика?</p> <p><i>В ответе запиши полученный результат</i></p>		3
Задание №5		Ответ
<p>У Маши 8 открыток с ёжиками и 12 открыток с котиками. 10 открыток Маша подарила Рите. Есть ли среди них открытки с котиками?</p> <p>1. Да 2. Нет</p> <p><i>В ответе укажи только номер выбранного варианта (1 или 2)</i></p>		1 Да
Задание №6		Ответ
<p>Посмотрите на картинку. На ней изображены снежные комки, которые скатали Петя и Вася для постройки снеговиков. На каждого снеговика понадобится 3 комка. Сколько снеговиков сделают ребята из этих комков?</p> <p><i>В ответе запиши число снеговиков</i></p>		4 снеговика

Задание №7		Ответ
Игрушечная машинка за один рейс может перевезти 3 кубика. Сколько рейсов потребуется сделать, чтобы перевезти 10 кубиков? <i>В ответе запиши полученный результат</i>		4
Задание №8		Ответ
На картинке гирлянда Матвея. Он украшает флажки на гирлянде так: на первом флажке он рисует звездочку, а на двух следующих – снежинки, потом все повторяется. Сколько получится снежинок, когда он украсит всю гирлянду? 		7 снежинок
<i>В ответе запиши число снежинок</i>		
Задание №9		Ответ
Маша и Даша пришли в школу в одно и то же время. Маша шла медленнее. Кто из девочек вышел раньше из дома? 1. Маша 2. Даша <i>В ответе укажи только номер выбранного варианта (1 или 2)</i>		1 Маша
Задание №10		Ответ
Какую новогоднюю картинку надо вставить вместо знака вопроса, чтобы в каждой строке и в каждом столбце изображения не повторялись? 		3 подарок
<i>В ответе укажи только номер выбранного варианта (1 или 2 или 3)</i>		
Задание №11		Ответ
В Васином подъезде 20 квартир. Сосчитай, сколько раз в номерах квартир встречается цифра «1»? <i>В ответе запиши полученное число</i>		12 Номера квартир: 1, 2, 3, 4, 5, 6, 7, 8, 9, 10, 11, 12, 13, 14, 15, 16, 17, 18, 19, 20. Цифра «1» встречается 12 раз (не забываем, что в числе 11 сразу две цифры «1»)
Задание №12		Ответ
На белой и синей тарелке лежат по 3 груши, а на жёлтой и синей тарелке лежат по 6 слив. Какая из тарелок является синей?		3 тарелка 3 Решение: 1) по 3 груши лежат на тарелке №1 и тарелке №3 2) по 6 слив лежит на тарелке №2 и

<div style="display: flex; justify-content: space-around; align-items: center;"> <div style="text-align: center;">  <p>тарелка 1</p> </div> <div style="text-align: center;">  <p>тарелка 2</p> </div> <div style="text-align: center;">  <p>тарелка 3</p> </div> </div> <p>1. тарелка 1 2. тарелка 2 3. тарелка 3</p> <p>В ответе укажи только номер выбранного варианта (1 или 2 или 3)</p>		<p>тарелке №3. Отсюда заключаем, что тарелка №3 – синяя (3 груши и 6 слив) Тарелка №2 – жёлтая (4 груши и 6 слив) Тарелка №1 – белая (3 груши и 7 слив)</p>
--	--	---

Оценка ответов на вопросы конкурса:

- за каждый правильный ответ на задания с 1 по 8 – 8 баллов
- за каждый правильный ответ на задания с 9 по 12 – 9 баллов

Уважаемые ребята, родители и координаторы!

Мы будем очень благодарны Вам за оставленный отзыв о конкурсе.

Нам очень важно знать ваше мнение о конкурсных заданиях. Что нового вы узнали, участвуя в конкурсе? Какие задания показались лёгкими? А какие самыми сложными? Что вам не понравилось? Хотели бы вы ещё участвовать в подобных конкурсах?

Ждём все Ваши предложения, пожелания и замечания на наши электронные адреса:

mir-konkursov2008@yandex.ru и mir-konkursov2018@yandex.ru