



**Всероссийский конкурс
«Занимательные шахматы»
(для учащихся 3-4 классов)**

Ответы

Ответ должен быть представлен строго в виде **ОДНОГО СЛОВА, БУКВЫ** или **ЧИСЛА** (согласно условию задания) без кавычек, точек, орфографических ошибок. Некоторые вопросы содержат подсказку – буквы ответа. Букву «ё» можно писать как «е» или как «е». Неверно записанные ответы не учитываются.

Задание №1		Ответ
<p>Шахматы – военная игра, в ней сражаются две армии – белая и чёрная. Они вступают в сражение между собой, стремясь захватить короля противника и всё его королевство. А как называется поле битвы в шахматах?</p> <p>1. Шахматная доска 2. Шахматная площадка 3. Шахматное поле</p> <p><i>В ответе напиши только номер выбранного варианта (1 или 2 или 3)</i></p>		1 Шахматная доска
<p>Задание №2</p> <p>Самый маленький солдат в шахматной армии. У него не получается ходить очень далеко, и вообще он может двигаться только вперёд. За один ход наш пехотинец может переместиться лишь на одну клетку. В ответе запиши название шахматной фигуры.</p> <p style="text-align: center;">- - - - -</p> <p><i>В ответе запиши название шахматной фигуры</i></p>		Ответ Пешка
<p>Задание №3</p> <p style="text-align: center;"><i>Прыг-скок и за угол</i></p> <p>У этой шахматной фигуры самый сложный ход. Фигура не ходит ни по прямым линиям, ни по диагоналям и вообще не перемещается в одном направлении, она ходит буквой Г.</p> <p>Есть у этого шахматного бойца ещё одна уникальная способность – он может перепрыгивать через фигуры.</p> <p style="text-align: center;">- - - - -</p> <p><i>В ответе запиши название шахматной фигуры</i></p>		Ответ Конь
<p>Задание №4</p> <p>Около названий шахматных фигур рассеянная Женя их нарисовала. Во всех ли случаях с ней можно согласиться? Если какая-нибудь из фигур нарисована неправильно, запиши её номер в ответ.</p> <p style="text-align: center;"></p> <p><i>В ответе напиши только номер выбранного варианта (1 или 2 или 3 или 4)</i></p>		Ответ 2

Задание №5		Ответ
<p>Сколько фигур у каждого игрока в начале игры?</p> <p>1. 16 2. 12 3. 14</p> <p><i>В ответе напиши только номер выбранного варианта (1 или 2 или 3)</i></p>		<p>1 16</p>
Задание №6		Ответ
<p>Все шахматные дорожки и поля имеют свои обозначения. Как называются ряды полей, идущие слева направо на шахматной доске, обозначаются цифрами.</p> <p>1. Вертикали 2. Горизонталы 3. Диагонали</p> <p><i>В ответе напиши только номер выбранного варианта (1 или 2 или 3)</i></p>		<p>2 Горизонталы и</p>
Задание №7		Ответ
<p>Какая шахматная фигура спряталась в слове «ЗАСЛОНКА»?</p> <p style="text-align: center;">_ _ _ _</p> <p><i>В ответе запиши название шахматной фигуры</i></p>		<p>Слон</p>
Задание №8		Ответ
<p>Рассеянная Женя узнала, что ладья обозначается буквой Л, слон – С, ферзь – Ф, конь – К, король – Кр, а пешка – П. И всё же при записи она сделала ошибку. Найди неверное обозначение.</p> <p><i>В ответе напиши только номер выбранного варианта (1 или 2 или 3 или 4)</i></p>	<p>1. ладья - Л 3. слон - С 2. пешка - П 4. конь - Кр</p>	<p>4</p>
Задание №9		Ответ
<p>Отгадай загадку.</p> <p><i>Вперёд и назад ходит браво, Помчится налево, направо. Ту фигуру знаю я, Ведь зовут её...</i></p> <p style="text-align: center;">_ _ _ _</p> <p><i>В ответе запиши название шахматной фигуры</i></p>		<p>Ладья</p>
Задание №10		Ответ
<p>Все шахматные дорожки и поля имеют свои обозначения. Как называются ряды полей, идущие снизу вверх на шахматной доске, обозначаются буквами.</p> <p>1. Вертикали 2. Горизонталы 3. Диагонали</p> <p><i>В ответе напиши только номер выбранного варианта (1 или 2 или 3)</i></p>		<p>1 Вертикали</p>

Задание №11		Ответ
<p>Во всех этих словах томат, матрос, матрёшка, формат, мать спряталось шахматное слово. Найди его.</p> <p style="text-align: center;">— — —</p> <p><i>В ответе запиши только одно слово</i></p>		Мат
<p>Задание №12</p> <p>Девочка, которая испытала много шахматных приключений в Зазеркалье.</p> <p style="text-align: center;">— — — — —</p> <p><i>В ответе запиши имя девочки</i></p>		Алиса
<p>Задание №13</p> <p>Вспомни названия шахматных фигур и впиши их правильно в клеточки кроссворда.</p> <p><i>В ответе запиши получившееся в красных клеточках слово</i></p>		Король
<p>Задание №14</p> <p>Злой волшебник похитил фигуру. Догадайся, какой фигуры не хватает на картинке.</p> <div style="text-align: center;">  </div> <p><i>В ответе запиши название фигуры</i></p>		Пешка
<p>Задание №15</p> <p>Все шахматные дорожки и поля имеют свои обозначения. Как называются косые линии, идущие от одного края доски к другому, состоят из полей одного цвета.</p> <ol style="list-style-type: none"> Вертикали Горизонталы Диагонали <p><i>В ответе напиши только номер выбранного варианта (1 или 2 или 3)</i></p>		3 Диагонали
<p>Задание №16</p> <p>Белая пешка упала с доски. На какое поле нужно поставить пешку так, чтобы чёрная фигура была под ударом.</p> <ol style="list-style-type: none"> E7 F5 G6 E5 <p><i>В ответе напиши только номер выбранного варианта (1 или 2 или 3 или 4)</i></p>		4 E5 и G5

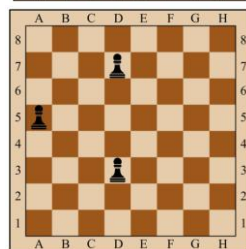
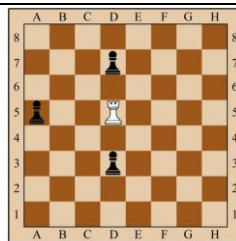
Пешки бьют по диагонали, они не могут ударить по горизонтали, вперед или назад. Рубить назад по диагонали пешка не имеет права.

Задание №17

Белая ладья упала с доски. Выбери клетку, на которую нужно поставить ладью, чтобы **все** чёрные фигуры были под ударом.

1. D1
2. D5
3. H5
4. A4

В ответе напиши только номер выбранного варианта (1 или 2 или 3 или 4)

**Ответ**

2
D5

Ладья ходит и бьет фигуры по вертикалям и горизонталям

Задание №18

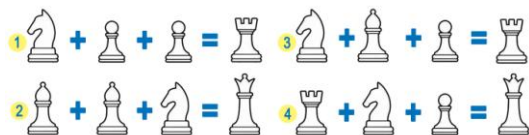
Женя узнала, что каждая шахматная фигура имеет свою относительную цену.

За единицу принята ценность пешки: ♙ = 1.

Приблизительно, ценность фигур такова:

конь = 3, слон = 3, ладья = 5, ферзь = 9

Найди неправильное равенство.



В ответе напиши только номер выбранного варианта (1 или 2 или 3 или 4)

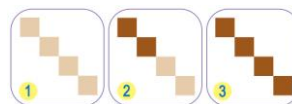
Ответ

3

Задание №19

Найди картинку, которая не встречается в шахматах.

В ответе напиши только номер выбранного варианта (1 или 2 или 3)

**Ответ**


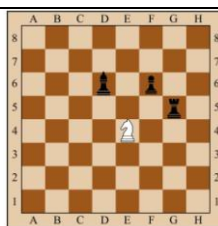
2

Задание №20

Белый конь упал с доски. Выбери клетку, на которую нужно поставить коня, чтобы **все** чёрные фигуры были под ударом.

1. D2
2. F3
3. E4
4. H7

В ответе напиши только номер выбранного варианта (1 или 2 или 3 или 4)

**Ответ**

3
E4

Оценка ответов на вопросы конкурса:

- за каждый правильный ответ – 5 баллов

Уважаемые ребята, родители и координаторы!

Мы будем очень благодарны Вам за оставленный отзыв о конкурсе.

Нам очень важно знать ваше мнение о конкурсных заданиях. Что нового вы узнали, участвуя в конкурсе?

Ждём все Ваши предложения, пожелания и замечания на наши электронные адреса:

mir-konkursov2008@yandex.ru и mir-konkursov2018@yandex.ru