

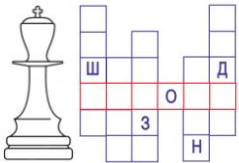




**Всероссийский конкурс
«Занимательные шахматы»
(для учащихся 1-2 классов)**

Ответы

Ответ должен быть представлен строго в виде **ОДНОГО СЛОВА**, **БУКВЫ** или **ЧИСЛА** (согласно условию задания) без кавычек, точек, орфографических ошибок. Некоторые вопросы содержат подсказку – буквы ответа. Букву «ё» можно писать как «е» или как «е». Неверно записанные ответы не учитываются.

Задание №1		Ответ
<p>Шахматы – военная игра, в ней сражаются две армии – белая и чёрная. Они вступают в сражение между собой, стремясь захватить короля противника и всё его королевство. А как называется поле битвы в шахматах?</p> <p>1. Шахматная доска 2. Шахматная площадка 3. Шахматное поле</p> <p><i>В ответе напиши только номер выбранного варианта (1 или 2 или 3)</i></p>		<p align="center">1 <i>Шахматная доска</i></p>
<p>Задание №2</p> <p>Самый маленький солдат в шахматной армии. У него не получается ходить очень далеко, и вообще он может двигаться только вперёд. За один ход наш пехотинец может переместиться лишь на одну клетку. В ответе запиши название шахматной фигуры.</p> <p align="center">- - - - -</p> <p><i>В ответе запиши название шахматной фигуры</i></p>		<p align="center">Ответ</p> <p align="center"><i>Пешка</i></p>
<p>Задание №3</p> <p align="center"><i>Прыг-скок и за угол</i></p> <p>У этой шахматной фигуры самый сложный ход. Фигура не ходит ни по прямым линиям, ни по диагоналям и вообще не перемещается в одном направлении, она ходит буквой Г. Есть у этого шахматного бойца ещё одна уникальная способность – он может перепрыгивать через фигуры.</p> <p align="center">- - - - -</p> <p><i>В ответе запиши название шахматной фигуры</i></p>		<p align="center">Ответ</p> <p align="center"><i>Конь</i></p>
<p>Задание №4</p> <p>Около названий шахматных фигур рассеянная Женя их нарисовала. Во всех ли случаях с ней можно согласиться? Если какая-нибудь из фигур нарисована неправильно, запиши её номер в ответ.</p> <p><i>В ответе напиши только номер выбранного варианта (1 или 2 или 3 или 4)</i></p>		<p align="center">Ответ</p> <p align="center">2</p>

Задание №5		Ответ
<p>Сколько фигур у каждого игрока в начале игры?</p> <p>1. 16 2. 12 3. 14</p> <p><i>В ответе напиши только номер выбранного варианта (1 или 2 или 3)</i></p>		<p>1 16</p>
Задание №6		Ответ
<p>Все шахматные дорожки и поля имеют свои обозначения. Как называются ряды полей, идущие слева направо на шахматной доске, обозначаются цифрами.</p> <p>1. Вертикали 2. Горизонталы 3. Диагонали</p> <p><i>В ответе напиши только номер выбранного варианта (1 или 2 или 3)</i></p>		<p>2 Горизонталы</p>
Задание №7		Ответ
<p>Какая шахматная фигура спряталась в слове «ЗАСЛОНКА»?</p> <p style="text-align: center;">_ _ _ _ _</p> <p><i>В ответе запиши название шахматной фигуры</i></p>		<p>Слон</p>
Задание №8		Ответ
<p>Рассеянная Женя узнала, что ладья обозначается буквой Л, слон – С, ферзь – Ф, конь – К, а пешка – П. И всё же при записи она сделала ошибку. Найди неверное обозначение.</p> <p>1. ладья - Л 3. слон - Ф 2. пешка - П 4. конь - К</p> <p><i>В ответе напиши только номер выбранного варианта (1 или 2 или 3 или 4)</i></p>		<p>3</p>
Задание №9		Ответ
<p>Отгадай загадку.</p> <p><i>Вперёд и назад ходит браво, Помчится налево, направо. Ту фигуру знаю я, Ведь зовут её...</i></p> <p style="text-align: center;">_ а _ _ _</p> <p><i>В ответе запиши название шахматной фигуры</i></p>		<p>Ладья</p>
Задание №10		Ответ
<p>Во всех этих словах томат, матрос, матрёшка, формат, мать спряталось шахматное слово. Найди его.</p> <p style="text-align: center;">_ _ _ _</p> <p><i>В ответе запиши только одно слово</i></p>		<p>Мат</p>

<p align="center">Задание №11</p> <p>Вспомни названия шахматных фигур и впиши их правильно в клеточки кроссворда. <i>В ответе запиши полученное в красных клеточках слово (название шахматной фигуры)</i></p>		<p align="center">Ответ</p> <p align="center"><i>Король</i></p>
<p align="center">Задание №12</p> <p>Девочка, которая испытала много шахматных приключений в Зазеркалье. 1. Мальвина 2. Дюймовочка 3. Алиса <i>В ответе напиши только номер выбранного варианта (1 или 2 или 3)</i></p>		<p align="center">Ответ</p> <p align="center"><i>3 Алиса</i></p>
<p align="center">Задание №13</p> <p>Злой волшебник похитил фигуру. Догадайся, какой фигуры не хватает на картинке. ----- <i>В ответе запиши название фигуры</i></p>		<p align="center">Ответ</p> <p align="center"><i>Король</i></p>
<p align="center">Задание №14</p> <p>Белая пешка упала с доски. На какое поле нужно поставить пешку так, чтобы чёрная фигура была под ударом. 1. E5 2. F5 3. G6 <i>В ответе напиши только номер выбранного варианта (1 или 2 или 3)</i></p>		<p align="center">Ответ</p> <p align="center"><i>1 E5 и G5</i></p> <p>пешки бьют по диагонали, они не могут ударить по горизонтали, вперед или назад.</p>
<p align="center">Задание №15</p> <p>Белая ладья упала с доски. Выбери клетку, на которую нужно поставить ладью, чтобы <u>все</u> чёрные фигуры были под ударом.  1. D1 2. D5 3. H5 <i>В ответе напиши только номер выбранного варианта (1 или 2 или 3)</i></p>		<p align="center">Ответ</p> <p align="center"><i>2 D5</i></p> <p>ладья ходит и бьет фигуры по вертикалям и горизонталям</p>

Оценка ответов на вопросы конкурса:

- за каждый правильный ответ на задания с 1 по 5 – 6 баллов
- за каждый правильный ответ на задания с 6 по 15 – 7 баллов