




Международный интеллектуальный конкурс
«Занимательные загадки, ребусы, головоломки»
(для учащихся 3-4 классов)


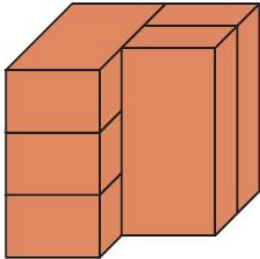





Мир конкурсов
ЛИДЕР
www.mir-konkursov.ru

Ответы

Ответ должен быть представлен строго в виде ОДНОГО СЛОВА, БУКВЫ или ЧИСЛА (согласно условию задания) без кавычек, точек, орфографических ошибок. Некоторые вопросы содержат подсказку – буквы ответа. Букву «ё» можно писать как «е» или как «е». Неверно записанные ответы не учитываются.

Задание №1		Ответ
<p>Отгадай загадку! Я и в клетку, и в линейку, Написать во мне сумей-ка. Можешь и нарисовать. Что такое я?</p> <p>-----</p> <p>В ответе запиши слово-отгадку</p>		<p>Тетрадь</p>
Задание №2		Ответ
<p>Разгадай ребус!</p> <p>-----</p> <p>В ответе запиши получившееся слово</p>		<p>Костюм</p>
Задание №3		Ответ
<p>Отгадай загадку! Зорко смотрит постовой За широкой мостовой. Как посмотрит глазом красным – Остановятся все сразу.</p> <p>-----</p> <p>В ответе запиши слово-отгадку</p>		<p>Светофор</p>
Задание №4		Ответ
<p>Три девочки записали свои имена ребусами. Какого имени нет среди этих ребусов.</p> <div data-bbox="312 1429 595 1559"></div> <p>1. Алиса 2. Алина 3. Арина 4. Марина</p> <p>В ответе укажи только номер выбранного варианта (1 или 2 или 3 или 4)</p>		<p>3 Арина</p>
Задание №5		Ответ
<p>Отгадай загадку! Это южный материк, Он по площади велик. Здесь оазисы в Сахаре И пустыня Калахари.</p> <p>-----</p> <p>В ответе запиши слово-отгадку</p>		<p>Африка</p>

Задание №6		Ответ
<p>Поймай слово за хвост</p> <p>В кольце определи первую букву слова.</p> <p>Если всё сделаешь правильно, прочитаешь название насекомого.</p> <p><i>В ответе запиши получившееся слово</i></p>		<p><i>Стрекоза</i></p>
Задание №7		Ответ
<p>Разгадай ребус!</p> <p>Разгаданное слово является:</p> <ol style="list-style-type: none"> 1. Названием дня недели 2. Названием страны 3. Названием города <p><i>В ответе укажи только номер выбранного варианта (1 или 2 или 3)</i></p>		<p><i>1</i></p>
Задание №8		Ответ
<p>Ребята, решите головоломку (судоку). Поместите недостающие картинки в пустые клетки таблицы.</p> <p>Одна и та же картинка не должна повторяться внутри строчки и столбца таблицы.</p> <p>Какая из четырех пронумерованных картинок должна быть в клетке под знаком «?».</p>  <p><i>В ответе укажи только номер выбранного варианта (1 или 2 или 3 или 4)</i></p>		<p><i>2</i></p>
Задание №9		Ответ
<p>Черепаша решила пригласить гостей на свой 100-летний юбилей, но от старости перепутала буквы на приглашениях. Соедини приглашение с адресатом.</p>   <p>Какое животное осталось без приглашения?</p> <p><i>В ответе запиши название животного</i></p>		<p><i>Олень</i></p>
Задание №10		Ответ
<p>Разгадай ребус!</p> <p>Разгаданное слово является:</p> <ol style="list-style-type: none"> 1. Названием летательного аппарата 2. Названием животного 3. Названием планеты <p><i>В ответе укажи только номер выбранного варианта (1 или 2 или 3)</i></p>		<p><i>1</i></p>
Задание №11		Ответ
<p>Разгадай ребус!</p> <p>_____</p> <p><i>В ответе запиши получившееся слово</i></p>		<p><i>Петрушка</i></p>

Задание №12		Ответ
<p>Разгадай анаграмму!</p> <p>На уроке русского языка Тане дали задание, в котором нужно определить, из какого одного слова произошли все эти анаграммы:</p> <p>КИТ СИТО КОТ КОСТИ ТОК</p> <p>Таня легко справилась с этим заданием и составила слово, определяющее место, где водный поток берет свое начало.</p> <p>Проверь себя и ты!</p> <p style="text-align: center;">- - - - -</p> <p><i>В ответе запиши получившееся слово</i></p>		Исток
Задание №13		Ответ
<p>Геометрические слова.</p> <p>Внимательно рассмотри картинку и определи, какое геометрическое тело является общим у всех слов, представленных на картинке.</p> <p><i>В ответе запиши название геометрического тела</i></p>	<p>--- Ф (предмет одежды)</p> <p>--- НИР (подвижное соединение деталей механизма)</p> <p>--- ПЕЙ (порода собак)</p>	Шар
Задание №14		Ответ
<p>Посмотри на рисунок справа. Зайчик нечаянно пролил чернила на тетрадный листок. Сколько клеток оказались испачканы чернилами?</p> <p><i>В ответе запиши число испачканных клеток</i></p> <p>*При подсчете учитываем целиком даже те клетки, которые покрыты чернилами частично.</p>		20
Задание №15		Ответ
<p>На картинке изображена конструкция, сложенная из пяти одинаковых кирпичей.</p> <p>Сколько кирпичей в этой конструкции соприкасаются ровно с тремя другими кирпичами?</p> <p><i>В ответе запиши число кирпичей, соприкасающихся ровно с тремя другими кирпичами</i></p>		2
Задание №16		Ответ
<p>На картинке справа изменили цвет каждой клеточки: белый – на серый, и наоборот. Что получилось?</p> <div style="display: flex; justify-content: space-around; align-items: flex-end;"> <div style="text-align: center;">  1 </div> <div style="text-align: center;">  2 </div> <div style="text-align: center;">  3 </div> <div style="text-align: center;">  4 </div> </div> <p><i>В ответе укажи только номер выбранного варианта (1 или 2 или 3 или 4)</i></p>		4

Оценка ответов на вопросы олимпиады:

- за каждый правильный ответ на задания с 1 по 12 – 6 баллов

- за каждый правильный ответ на задания с 13 по 16 – 7 баллов

Уважаемые ребята, родители и координаторы!

Мы будем очень благодарны Вам за оставленный отзыв о конкурсе.

Нам очень важно знать ваше мнение о конкурсных заданиях. Что нового вы узнали, участвуя в конкурсе? Какие задания показались лёгкими? А какие самыми сложными? Что вам не понравилось? Хотели бы вы ещё участвовать в подобных конкурсах?

Ждём все Ваши предложения, пожелания и замечания на наши электронные адреса:

mir-konkursov2008@yandex.ru и mir-konkursov2018@yandex.ru