




Международный математический конкурс
«Лесная арифметика - 2023»
(для дошкольников)

Мир конкурсов
ЛИДЕР
www.mir-konkursov.ru

Ответы

Ответ должен быть представлен строго в виде ОДНОГО СЛОВА, БУКВЫ или ЧИСЛА (согласно условию задания) без кавычек, точек, орфографических ошибок. Неверно записанные ответы не учитываются.

Задание №1		Ответ
Сколько ушей у трёх хомячков? <i>В ответе запиши число ушей</i>		6
Задание №2		Ответ
В каком гнезде больше птенцов? 1. в первом 2. во втором 3. одинаково <i>В ответе укажи только номер выбранного варианта (1 или 2 или 3)</i>		1
Задание №3		Ответ
У Бурундука есть 10 рублей. Один орех стоит 5 рублей. Сколько орехов сможет купить Бурундук? <i>В ответе запиши число орехов</i>		2
Задание №4		Ответ
За листочками спрятались одинаковые цифры. Найдите цифру, которая скрывается за каждым листочком? 		4
Задание №5		Ответ
Любимое блюдо пингвинов – рыба. Посчитай, сколько рыбок здесь не хватает, чтобы каждый пингвин смог подкрепиться. 		3
Задание №6		Ответ
Белочка несла в корзинке фрукты. Груш было столько, сколько и яблок. А яблок было столько же, сколько и бананов. <i>Сколько всего фруктов несла белочка в корзинке, если бананов было 3</i>		9 $3+3+3=9$
Задание №7		Ответ
У Кролика 3 друга. Каждому другу он дал по одной морковке и по одному яблоку. И ещё одно яблоко у него осталось. Сколько у Кролика было яблок? <i>В ответе запиши число яблок</i>		4

Задание №8

Белочка нашла 5 грибочков, Ёжик принёс ещё 6 грибов. А в лукошке помещается ровно 10 грибов. Смогут ли зверята поместить весь собранный урожай в лукошко?

1. Смогут
2. Не смогут

В ответе укажи только номер выбранного варианта (1 или 2)

Ответ

2
Не смогут

Задание №9

Белочка увидела в аквариуме разноцветных рыбок. Ребята, сосчитайте всех рыбок, которые плывут НАЛЕВО.




В ответе запиши количество рыбок, которые плывут налево

Ответ

8

Задание №10

Найди верную тень ёжика.



В ответе укажи только номер выбранного варианта (1 или 2 или 3)

**Ответ**

1

Задание №11

Кролик разделил яблоко на 4 равных части. Половину он оставил себе, а 2 кусочка отдал Ёжику. Кому досталось больше яблока?

1. Кролику
2. Ёжику
3. Одинаково

В ответе укажи только номер выбранного варианта (1 или 2 или 3)

Ответ

3
Одинаково

Задание №12

Посмотри на картинки. Одно яблоко весит как 2 грибочка. А маленький ёжик весит как 4 грибочка. Определи вес ёжика в яблоках.



В ответе запиши вес ёжика в яблоках

Ответ

2

Задание №13**Ответ**

На лесной полянке танцевали 5 белочек и 3 зайчика. Начался дождик, и все зайчики убежали домой. Белочек убежало домой столько же, сколько и зайчиков. Сколько белочек осталось танцевать на полянке?



В ответе запиши число оставшихся белочек

2

Решение:
 $5 - 3 = 2$

Задание №14**Ответ**

В 3-х этажном лесном теремке живут Белочка, Ёжик и Хомяк. Хомяк живёт ниже Белочки, а Ёжик живёт ниже Хомяка. Кто живёт на втором этаже?

1. Белочка
2. Ёжик
3. Хомяк

В ответе укажи только номер выбранного варианта (1 или 2 или 3)

**3
ХОМЯК**

Уважаемые ребята, родители и координаторы!

Мы будем очень благодарны Вам за оставленный отзыв о конкурсе.

Нам очень важно знать ваше мнение о конкурсных заданиях. Что нового вы узнали, участвуя в конкурсе? Какие задания показались лёгкими? А какие самыми сложными? Что вам не понравилось? Хотели бы вы ещё участвовать в подобных конкурсах?

Ждём все Ваши предложения, пожелания и замечания на наши электронные адреса:

mir-konkursov2008@yandex.ru и mir-konkursov2018@yandex.ru