

## II Международный математический конкурс

### «Лесная арифметика»




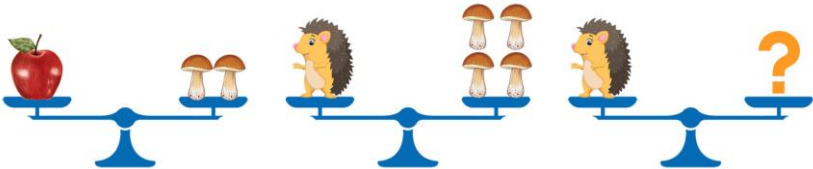
(для дошкольников)



### Ответы

Ответ должен быть представлен строго в виде **ОДНОГО ЧИСЛА** или **СЛОВА** (согласно условию задания) без кавычек, точек и других дополнительных символов. Неверно записанные ответы не учитываются.

<b>Задание №1</b>		<b>Ответ</b>
Прочитай весёлый стишок и сосчитай, сколько грибов нашёл ёжик. <b>ЁЖИК СТАЛ ГРИБЫ ИСКАТЬ. ПОД БЕРЁЗОЙ БЫЛО ПЯТЬ, ПОД ОСИНОЙ ТРИ НАШЁЛ И СКОРЕЙ ДОМОЙ ПОШЁЛ.</b> <i>В ответе запиши число грибов</i>		<b>8</b>
<b>Задание №2</b>		<b>Ответ</b>
Мишка, Дятел и Волчонок пришли в гости к тётушке Сове. Посчитай, сколько всего ножек (лапок) пришло в гости к Сове? <i>В ответе запиши только число ножек (лапок)</i>		<b>10</b>
<b>Задание №3</b>		<b>Ответ</b>
За грибочками спрятались одинаковые цифры. Помогите Белочке найти цифру, которая скрывается за каждым грибочком?  <i>В ответе запишите только эту цифру</i>		<b>3</b>
<b>Задание №4</b>		<b>Ответ</b>
Кролик каждый день съедает по одному кочану капусты. Сколько кочанов капусты Кролик съест за одну неделю? <i>В ответе запиши число кочанов капусты</i>		<b>7</b>
<b>Задание №5</b>		<b>Ответ</b>
Белочка собирала красные и жёлтые яблоки. Всего она собрала 4 яблока. Красных яблок больше, чем жёлтых. <i>Сколько жёлтых яблок собрала белочка?</i>		<b>1</b>
<b>Задание №6</b>		<b>Ответ</b>
У Зайца есть 10 морковок, а у Ёжика только 6. Сколько морковок Заяц может отдать Ёжику, чтобы морковок у них стало поровну? <i>В ответе запиши только число морковок</i>		<b>2</b>
<b>Задание №7</b>		<b>Ответ</b>
На дереве сидели 4 вороны, 2 сороки, 3 белки, муха и гусеница. Три птички улетели. Сколько птиц осталось на дереве? <i>В ответе запиши получившийся результат</i>		<b>3</b>

Задание №8		Ответ
<p>Белочка нашла 5 грибочков, Ёжик принёс ещё 6 грибов. А в лукошке помещается ровно 10 грибов. Смогут ли зверята поместить весь собранный урожай в лукошко?</p> <p>1. Смогут 2. Не смогут</p> <p><i>В ответе укажи только номер выбранного варианта (1 или 2)</i></p>		<p>2 <i>Не смогут</i></p>
Задание №9		Ответ
<p>Дупло тётушки Совы находится на высоком дереве рядом с красивой веткой. Эта ветка является третьей сверху и третьей снизу дерева. Сколько всего веток на дереве Совы?</p> <p><i>В ответе запиши число веток на дереве</i></p>		<p>5</p>
Задание №10		Ответ
<p>На лесной полянке танцевали 5 мишек и 3 кошечки. Начался дождик, и все кошечки убежали домой. Мишек убежало домой столько же, сколько и кошечек. Сколько мишек осталось танцевать на полянке?</p>  <p><i>В ответе запиши число оставшихся мишек</i></p>		<p>2 <i>Решение:</i> <math>5 - 3 = 2</math></p>
Задание №11		Ответ
<p>У Зайчика есть три тележки разного цвета (красная, жёлтая и синяя). В красной тележке он везёт НЕ капусту и НЕ яблоки. В жёлтой тележке – НЕ яблоки и НЕ грибы. Что везёт Зайчик в синей тележке?</p>  <p>1. Яблоки 2. Грибы 3. Капуста</p> <p><i>В ответе укажи только номер выбранного варианта (1 или 2 или 3)</i></p>		<p>1 <i>Яблоки</i></p>
Задание №12		Ответ
<p>Посмотри на картинки. Одно яблоко весит как 2 грибочка. А маленький ёжик весит как 4 грибочка. Определи вес ёжика в яблоках.</p>  <p><i>В ответе запиши вес ёжика в яблоках</i></p>		<p>2 <i>яблока</i></p>