
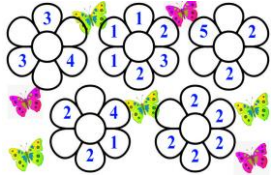


**Международный интеллектуальный конкурс  
«Лесная арифметика»  
(для учащихся 1 классов)**

**Ответы**

Ответ должен быть представлен строго в виде **ОДНОГО ЧИСЛА** или **СЛОВА** (согласно условию задания) без кавычек, точек и других дополнительных символов. Неверно записанные ответы не учитываются.

<b>Задание №1</b>		<b>Ответ</b>
<p>Бурундучок Боря разгадывал загадку про циферки.  <b>ЕСЛИ НА ГОЛОВУ ВСТАНЕТ,                  РОВНО НА ТРИ МЕНЬШЕ СТАНЕТ.</b>                  Помоги Боре найти эту цифру-акробатку.  <i>В ответе запиши эту цифру</i></p>		<p><b>9</b></p>
<b>Задание №2</b>		<b>Ответ</b>
<p>Белочка Соня загадала число. Это число на 4 больше, чем число дней в неделе. Какое число загадала Соня?  <i>В ответе запиши это число</i></p>		<p><b>11</b>  <math>7+4=11</math></p>
<b>Задание №3</b>		<b>Ответ</b>
<p>У мамы-лисы семь лисят. Все лисята, кроме трех, умеют считать.  <i>Сколько лисят умеет считать?</i></p>		<p><b>4</b>                  Решение:  <math>7-3=4</math></p>
<b>Задание №4</b>		<b>Ответ</b>
<p>Белочка Соня собирала на полянке волшебные математические цветы. Сумма чисел на каждом собранном цветке должна быть меньше десяти. Сколько цветов собрала белочка Соня?  <i>В ответе запишите только количество цветов, собранных белочкой</i></p>		<p><b>2</b></p>
<b>Задание №5</b>		<b>Ответ</b>
<p>Белочка Соня несла в корзинке фрукты. Груш было столько, сколько и яблок. А яблок было столько же, сколько и бананов.  <i>Сосчитай, сколько всего фруктов несла белочка в корзинке, если бананов было 5.</i></p>		<p><b>15</b>  <math>5+5+5=15</math></p>
<b>Задание №6</b>		<b>Ответ</b>
<p>У бабушки-зайчихи четверо внуков. Каждый внук утром съедает по две морковки. Однажды утром одной морковки не хватило.  <i>Сколько морковок было у бабушки тем утром?</i></p>		<p><b>7</b>                  Решение:                  На четверых внуков нужно <math>2+2+2+2=8</math> морковок. Если одной морковки не хватило, значит, их было 7.</p>
<b>Задание №7</b>		<b>Ответ</b>
<p>Кролик Стёпка написал цветными карандашами слово «КОЛОСОК». Одинаковые буквы Стёпка записывал одним и тем же цветом, разные – разным цветом. Сколько цветных карандашей понадобилось Стёпке, чтобы написать это слово?  <i>В ответе запишите только число цветных карандашей.</i></p>		<p><b>4</b>                  карандаша</p>

**Задание №8**


Ёжик Яшка просыпается ровно за 4 часа до полудня. Посмотрите на рисунок. Найдите часы, которые показывают время пробуждения ёжика Яшки.

**1****2****3**

*В ответе укажи только номер выбранного варианта (1 или 2 или 3)*

**Ответ****2****Задание №9**

Папа-бобр строил плотину из деревьев и веточек. Между каждым вертикальным деревцем он присоединял по 4 веточки (смотрите рисунок). Сколько всего веточек ему понадобится для плотины из 4 деревьев?



*В ответе получившийся результат*

**Ответ****12****Задание №10**

Ёжик Яшка съел 4 целых яблока, а кролик Стёпка – 5 половинок и 4 четвертинки таких же яблок. **Кто съел больше яблок?**

1. Ёжик
2. Кролик
3. Зверята съели одинаковое количество яблок.

*В ответе укажите только номер выбранного варианта (1 или 2 или 3)*

**Ответ****1**

Решение:

1) Посчитаем количество половинок, которое съел Яшка: 4 целых яблока = 2+2+2+2=8 половинок.

2) Кролик Стёпка съел 5 половинок и 4 четвертинки.

4 четвертинки = 2 половинки. Значит, он съел 5+2=7 половинок.

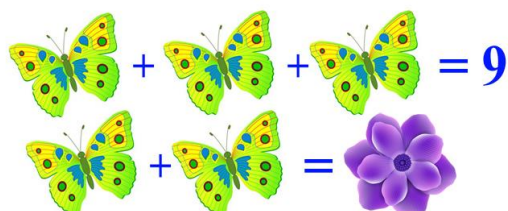
3) Сравниваем 8 > 7.

Ответ: ёжик Яшка съел больше яблок.

**Задание №11**

Помогите белочке Соне найти число, которое скрывается за цветочком, если за каждой бабочкой спряталось одно и то же число.


*В ответе запишите число, которое спряталось за цветком.*

**Ответ****6**

за бабочкой спряталось число 3, за цветком 6

**Задание №12**

Две груши весят столько, сколько весят пять яблок. Сколько надо будет взять яблок, чтобы уравновесить четыре груши?



*В ответе запиши только количество яблок*

**Ответ****10****Задание №13**

Ёжик Яшка, белочка Соня и кролик Стёпка нашли по одному грибочку: маслёнок, лисичку и мухомор. Яшка нашёл гриб, название которого не начинается на букву «м». Соня нашла съедобный гриб. *Кто из зверят нашёл мухомор?*

1. Ёжик Яшка
2. Белочка Соня
3. Кролик Стёпка

*В ответе запишите только номер выбранного варианта (1 или 2 или 3)*

**Ответ****3  
Кролик  
Стёпка**

Уважаемые ребята, родители и координаторы!

Мы будем очень благодарны Вам за оставленный отзыв о конкурсе.

Нам очень важно знать ваше мнение о конкурсных заданиях. Что нового вы узнали, участвуя в конкурсе? Какие задания показались лёгкими? А какие самыми сложными? Что вам не понравилось? Хотели бы вы ещё участвовать в подобных конкурсах?

Ждём все Ваши предложения, пожелания и замечания на наши электронные адреса:

mir-konkursov2008@yandex.ru и mir-konkursov2018@yandex.ru