


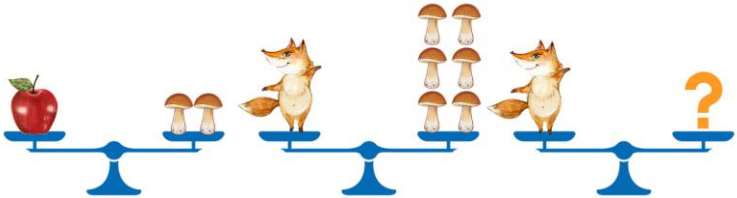
## II Международный математический конкурс

### «Лесная арифметика» (для учащихся 1 классов)



#### Ответы

Ответ должен быть представлен строго в виде **ОДНОГО ЧИСЛА** или **СЛОВА** (согласно условию задания) без кавычек, точек и других дополнительных символов. Неверно записанные ответы не учитываются.

| <b>Задание №1</b>  |  | <b>Ответ</b>                 |
|--|--|------------------------------|
| <p>Осень – не только пора листопада, но также и пора сбора грибов. Прочитай весёлый стишок и сосчитай, сколько грибов нашёл ёжик.</p> <p><b>ЁЖИК СТАЛ ГРИБЫ ИСКАТЬ.<br/>ПОД БЕРЕЗОЙ БЫЛО ПЯТЬ,<br/>ПОД ОСИНОЙ ТРИ НАШЁЛ<br/>И СКОРЕЙ ДОМОЙ ПОШЁЛ.</b></p> <p><i>В ответе запиши число грибов</i></p> |  | <b>8</b>                     |
| <p><b>Задание №2</b></p> <p>Барсук, Гусь и Оленёнок пришли в гости к тётушке Сове. Посчитай, сколько всего ножек (лапок) пришло в гости к Сове?</p> <p><i>В ответе запиши только число ножек (лапок)</i></p>   |  | <b>10</b>                    |
| <p><b>Задание №3</b></p> <p>Белочка нашла 5 грибочков, Ёжик принёс ещё 7 грибов. А в лукошке помещается ровно 10 грибов. Смогут ли зверята поместить весь собранный урожай в лукошко?</p> <p>1. Смогут<br/>2. Не смогут</p> <p><i>В ответе укажи только номер выбранного варианта (1 или 2)</i></p>  |  | <b>2</b><br><i>Не смогут</i> |
| <p><b>Задание №4</b></p> <p>Посмотри на картинки. Одно яблоко весит как 2 грибочка. А маленькая лисичка весит как 6 грибочков. Определи вес лисички в яблоках.</p>   |  | <b>3</b><br><i>яблока</i>    |
| <p><b>Задание №5</b></p> <p>Четыре бельчонка сорвали с дерева по 3 орешка каждый. Сколько всего орешков сорвали бельчата?</p> <p><i>В ответе запиши общее число орешков</i></p>  |  | <b>12</b>                    |
| <p><b>Задание №6</b></p> <p>У Зайца есть 10 морковок, а у Ёжика только 6. Сколько морковок Заяц может отдать Ёжику, чтобы морковок у них стало поровну?</p> <p><i>В ответе запиши только число морковок</i></p>  |  | <b>2</b>                     |

**Задание №7**

Тётушка Сова каждый вечер просыпается за 3 часа до полуночи. Найди на картинке часы, которые показывают время пробуждения тётушки Совы.

**1****2****3**

*В ответе укажи только номер выбранного варианта (1 или 2 или 3)*

**Ответ****2****Задание №8**

Абрикос больше вишни, но меньше яблока. Помоги зверятам определить, какой фрукт больше всех?

1. Вишня
2. Яблоко
3. Абрикос

*В ответе укажи только номер выбранного варианта (1 или 2 или 3)*

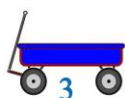
**Ответ****2**  
**Яблоко****Задание №9**

Дупло тётушки Совы находится на высоком дереве рядом с красивой веткой. Эта ветка является третьей сверху и третьей снизу дерева. Сколько всего веток на дереве Совы?

*В ответе запиши число веток на дереве*

**Ответ****5****Задание №10**

У Зайчика есть три тележки разного цвета (красная, жёлтая и синяя). В красной тележке он везёт НЕ капусту и НЕ яблоки. В жёлтой тележке – НЕ яблоки. Что везёт Зайчик в синей тележке?



1. Яблоки
2. Грибы
3. Капуста

*В ответе укажи только номер выбранного варианта (1 или 2 или 3)*

**Ответ****1**  
**Яблоки****Задание №11**

Кролик собрал в огороде 12 морковок, а Зайчик на 5 морковок меньше. Сколько всего морковок собрали Кролик и Зайчик вместе?

*В ответе запиши общее число морковок*

**Ответ****19**

Решение:  
Зайчик собрал 7 морковок.  
Всего собрано  $12+7=19$  морковок

**Задание №12**

Сорока всегда говорит правду, а её подруга Галка – неправду.

Как-то раз нашли они вкусный плод и начали его обсуждать.

**Сорока:** хорошо, что плод мягкий.

**Галка:** какой у него красивый зелёный цвет!

Какой плод нашли подруги?



*В ответе укажи только номер выбранного варианта (1 или 2 или 3)*

**Ответ**

**1**  
**Абрикос**

**Задание №13**

На уроке лесной математики лисята получили следующее задание:

*В свободные клетки квадрата вставьте пропущенные числа так, чтобы суммы чисел по всем направлениям были равны.*

*Какое число нужно поставить вместо знака вопрос?*

|   |   |   |
|---|---|---|
|   | ? |   |
| 2 |   | 4 |
| 2 | 5 | 1 |

*В ответе запиши это число*

**Ответ**

**1**

**Задание №14**

Сорока каждый день приносит на хвосте по одной лесной новости. В какой день недели Сорока принесёт пятую по счёту новость, если начала она их разносить в среду?

1. Понедельник
2. Вторник
3. Среда
4. Четверг
5. Пятница
6. Суббота
7. Воскресенье

*В ответе укажи только номер выбранного варианта (1 или 2 или 3 или 4 или 5 или 6 или 7)*

**Ответ**

**7**  
**6**  
**воскресенье**

Уважаемые ребята, родители и координаторы!

Мы будем очень благодарны Вам за оставленный отзыв о конкурсе.

Ждём все Ваши предложения, пожелания и замечания на наши электронные адреса:

mir-konkursov2008@yandex.ru и mir-konkursov2018@yandex.ru