



Всероссийский интеллектуальный турнир «Азбука Знаний» (для учащихся 3-4 классов)




Задания

Ответ должен быть представлен строго в виде **ОДНОГО СЛОВА**, **БУКВЫ** или **ЧИСЛА** (согласно условию задания) без кавычек, точек, орфографических ошибок. Некоторые вопросы содержат подсказку – буквы ответа. Букву «ё» можно писать как «ё» или как «е». Неверно записанные ответы не учитываются.

Задание №1

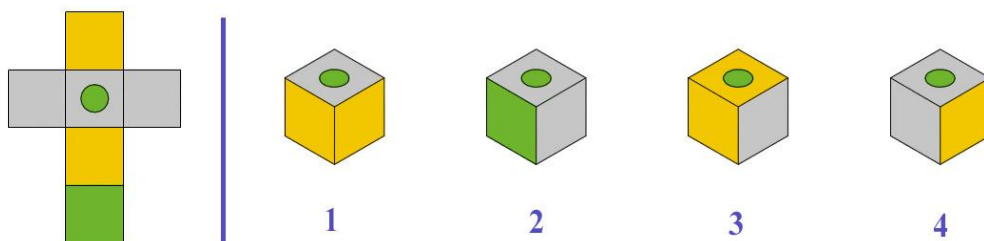
На весах лежат одинаковые по массе ананасы и одинаковые по массе дыни. На левой чаше весов вместе с фруктами стоит гиря 5 кг. На правой чаше – две гири по 2 кг. Все фрукты вместе весят 17 кг. *Найди и запиши в ответе массу одного ананаса.*



Задание №2

Остров кубических тайн

Посмотри внимательно на развёртку. Определи, какой из четырёх фигур в ряду она соответствует. Помни, что лишь один ответ верен!



В ответе укажи только номер выбранного варианта (1 или 2 или 3 или 4)

Задание №3

Станция Волшебных слов

Распутай верёвочку и прочти головоломку. Вспомни сказочного персонажа, который говорил эти волшебные слова.

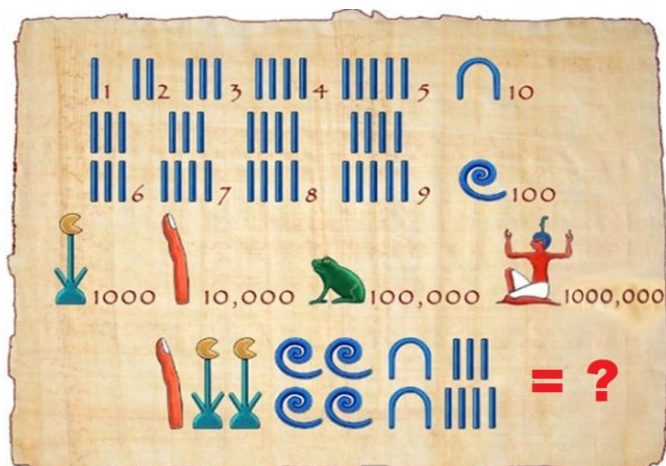


В ответе напиши имя этого персонажа

Задание №4

Древний манускрипт

Древние египтяне пользовались своей системой, в которой числа обозначались разнообразными символами. Определи число, изображённое на рисунке и запиши его вместо знака вопроса.



В ответе запиши получившийся результат

Задание №5

Станция Космическая

Наша Солнечная система – это совокупность планет, включающая в себя центральную звезду – Солнце – и все естественные космические объекты, обращающиеся вокруг него. А сколько же планет входит в Солнечную систему?

В ответе напиши количество планет

Задание №6

Подскажи-ка нам, в каком словосочетании прилагательное употреблено в **переносном** значении.

1. золотые серьги
2. золотые монеты
3. золотые руки

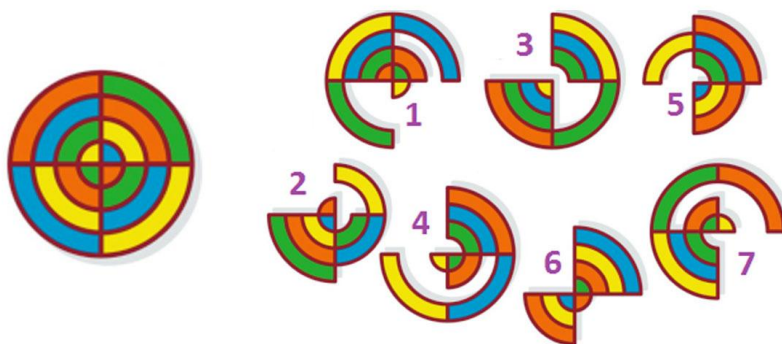
В ответе укажите только номер выбранного варианта (1 или 2 или 3)

Задание №7

Весёлая мишень

Эта фигура похожа на мишень. Для того, чтобы в неё попасть, сначала нужно собрать её воедино. Из каких двух элементов она состоит?

ПОДСКАЗКА: Одна из фигур должна заполнить пробелы другой.



1. 2 и 3
2. 3 и 7
3. 4 и 6

4. 1 и 5

5. 2 и 7

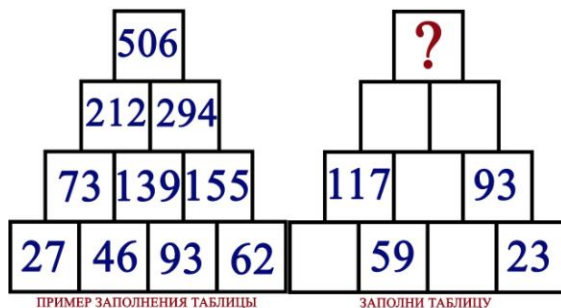
В ответе укажи только номер выбранного варианта (1 или 2 или 3 или 4 или 5)

Задание №8

Островок математики

Здесь нужно поразмыслить как следует!

Реши эту математическую пирамиду и вместо знака вопроса напиши получившийся результат.



Задание №9

Игра спрятанных слов

Определи, какая страна спряталась в слове

ПИРАНЬЯ

— — — —

В ответе напиши название этой страны

Задание №10

Цветочный парк

Кто бы мог подумать, что все желания может исполнять обыкновенный цветок! Например, как в сказке «Цветик-семицветик».

Назови последовательность сторон света, по которым волшебные лепестки этого необыкновенного растения облетали вокруг земли.

1. Юг, север, восток, запад
2. Восток, юг, север, запад
3. Север, запад, юг, восток
4. Запад, восток, север, юг

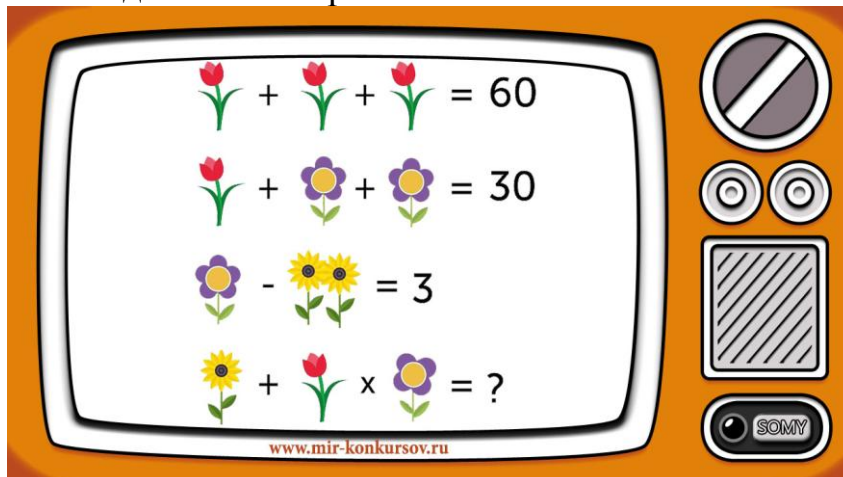
В ответе напиши только номер выбранного варианта (1 или 2 или 3 или 4)

Задание №11

Математическая головоломка

Кажется, телевизор сломался! Вот что он показал, когда его включили.

Какое число скрывается под знаком вопроса?



В ответе напиши получившийся результат

Задание №12

Буквенные пятнашки

Это осколки с буквами. Ранее они были словом на стеклянной доске. Составь вкусное слово из этих букв. Помни, что нужно использовать все буквы!



— — — м — — — д

В ответе напиши получившееся слово

Задание №13

Буквенные троеточия

Вместо троеточия

КИПА(...)УНОК

подбери слово, которое одновременно служит окончанием первого слова и началом второго.

Например:

СНА(РЯД)ОВОЙ, МЕ(ШОК)ОЛАД

— — —

В ответе напиши вставленное слово из трёх букв

Задание №14

Когда Буратино врёт, его нос удлиняется на 6 см. Когда он говорит правду, его нос становится короче на 2 см. Утром длина его носа была 9 см. За день он три раза соврал и два раза сказал правду. Какой длины стал нос у Буратино к вечеру?



В ответе запиши полученный результат

Задание №15

Всё, что нас окружает

Человек воспринимает окружающий мир при помощи органов чувств. Их всего 5. Рецепторы этих органов помогают нам воспринимать информацию из внешней среды обитания. А что в этом списке лишнее? Что из нашего списка не относится к органам чувств?

1. Зрение
2. Слух
3. Обоняние
4. Осязание
5. Память
6. Вкус

В ответе напиши только номер выбранного варианта (1 или 2 или 3 или 4 или 5 или 6)

Задание №16

Станция хитрых анаграмм

Давай-ка вспомним, что такое анаграммы.

Анаграмма – это перестановка букв в слове, приводящая к новому слову.

Например:

луг – гул, карп – парк, адрес – среда

Отгадай следующую загадку и запиши анаграмму её ответа.



*Дикий зверь тропой бежит.
То он хрюкнет, то визжит.
С ним детишек караван.
Этот зверь лесной – ...*

— — Н — —

В ответе запиши получившееся слово

Задание №17

Вверх-вниз

Улитка вздумала взобраться на дерево 15 м в высоту. В течение каждого дня она успевала подняться на 5 м, но каждую ночь, во время сна, спускалась вниз на 4 м. Через сколько суток улитка достигнет вершины дерева?

1. Через 10 суток и 1 день
2. Через 15 суток
3. Через 12 суток

В ответе напиши только номер выбранного варианта (1 или 2 или 3)



Задание №18

Город перевёртышей

Йо-йо-йо! Запутались и перевернулись все куббы в словах! Нужно срочно распутать перевёртышей.

Прочти текст и выясни числительное.

реЮ месь тел. ьперТе арЮ неикуч.

— — — —

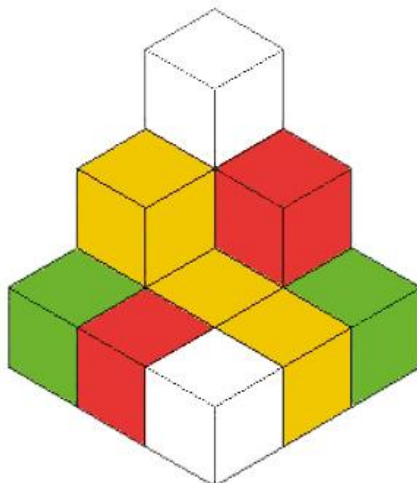
В ответе напиши числительное из текста

Задание №19

Геометрия 3Д

Аня, Даша и Никита построили из кубиков фигуру. Сосчитай, сколько для этого им понадобилось кубиков. При счёте не забудь про кубики, которых не видно на картинке, но которые есть в составленной из них фигуре.

Не забывай, что куб – правильный многогранник, каждая грань которого представляет собой квадрат. Все ребра куба равны.



В ответе напиши общее количество кубиков в фигуре

Задание №20

Увлекательная география

В Москве их 6, в Санкт-Петербурге – 14, в Новосибирске – 11, в Париже – 5, в Хельсинки – 9, а в Осло – всего 4. О количестве чего идёт речь?

Запиши ответ во множественном числе именительного падежа



Уважаемые ребята, родители и координаторы!

Мы будем очень благодарны Вам за оставленный отзыв о конкурсе.

Нам очень важно знать ваше мнение о конкурсных заданиях. Что нового вы узнали, участвуя в конкурсе? Какие задания показались легкими? А какие самыми сложными? Что вам не понравилось? Хотели бы вы еще участвовать в подобных конкурсах?

Ждем все Ваши предложения, пожелания и замечания на наши электронные адреса:

mir-konkursov2008@yandex.ru и mir-konkursov2018@yandex.ru