



II Международный интеллектуальный турнир

«Азбука знаний» (для учащихся 3-4 классов)



Мир конкурсов
ЛИДЕР
www.mir-konkursov.ru

Задания

Ответ должен быть представлен строго в виде **ОДНОГО СЛОВА**, **БУКВЫ** или **ЧИСЛА** (согласно условию задания) без кавычек, точек, орфографических ошибок. Некоторые вопросы содержат подсказку – буквы ответа. Букву «ё» можно писать как «ё» или как «е». Неверно записанные ответы не учитываются.

Задание №1

Какое число нужно поставить Марине вместо знака вопроса?

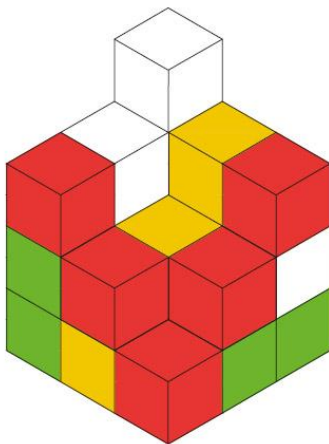
$$27 \times 3 = 112 - ?$$

— —

В ответе запиши получившийся результат

Задание №2

Вася построил фигуру из кубиков. Ребята, сосчитайте, из скольки маленьких кубиков состоит данная фигура. *Сколько кубиков Васе нужно добавить, чтобы фигура состояла из 30 элементов?*

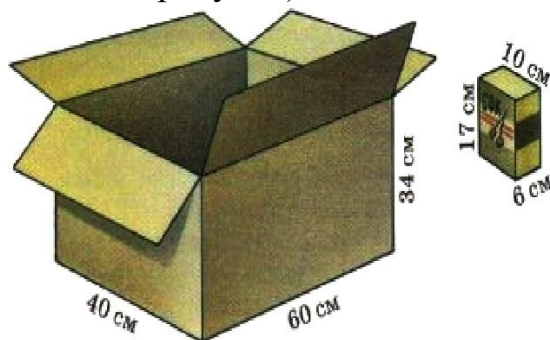


1. 5 кубиков
2. 7 кубиков
3. 10 кубиков
4. 15 кубиков

В ответе укажите только номер выбранного варианта (1 или 2 или 3 или 4)

Задание №3

Ученикам дали задание посчитать, сколько пакетов с соком войдёт в большую коробку. Помоги ребятам решить эту задачку, если известно, что пакеты с напитком должны стоять в коробке вертикально (как показано на рисунке).

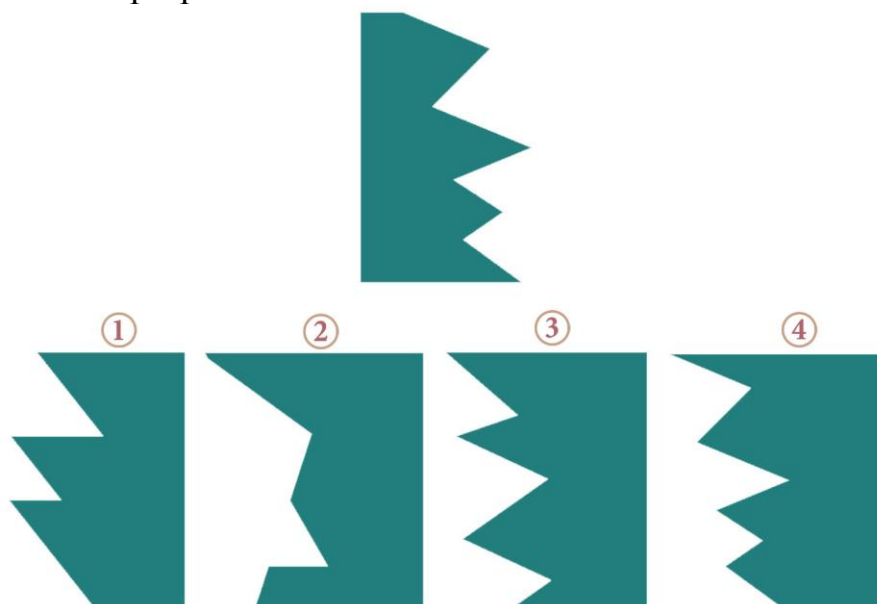


— —

В ответе напиши получившийся результат

Задание №4


Собери квадрат из двух частей. Найди нужную деталь и укажи её номер в ответе. Для удобства картинку можно разрезать.



В ответе укажи только номер выбранного варианта (1 или 2 или 3 или 4)


Задание №5

Хитрый преподаватель математики решил усложнить ученикам задачу и записал пример на доске римскими цифрами.



Какое число нужно написать вместо знака вопроса?

Воспользуйся этой подсказкой:



— —

В ответе запиши получившийся результат обычными (арабскими) цифрами

Задание №6

Три братца-поросёнка построили себе три домика. Один домик из соломы, второй – из прутьев, третий – из камней. И каждый из братьев поселился в своём собственном доме.

Ниф-Ниф – в домике не из камней и не из прутьев.

Нуф-Нуф – в домике не из камней.

Помоги поросёнку Наф-Нафу найти свободное жилище.

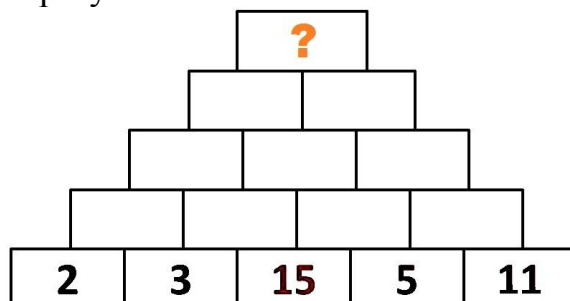
1. Домик из соломы
2. Домик из камней
3. Домик из прутьев

В ответе укажи только номер выбранного варианта (1 или 2 или 3)

Задание №7

В нижних клетках вписаны числа. Складываем два рядом стоящих числа и их сумму записываем в ячейке над ними.

Для решения этого задания заполни все клеточки математической пирамиды и в ответе запиши получившийся общий результат.



В ответе запиши получившийся общий результат

Задание №8

Разгадай ребус. Кого так называют?



Выбери вариант ответа ниже.



В ответе укажи только номер выбранного варианта (1 или 2 или 3)

Задание №9

Здесь представлено четыре варианта ответа и только один из них правильный. Отметь слово, в котором есть приставка.

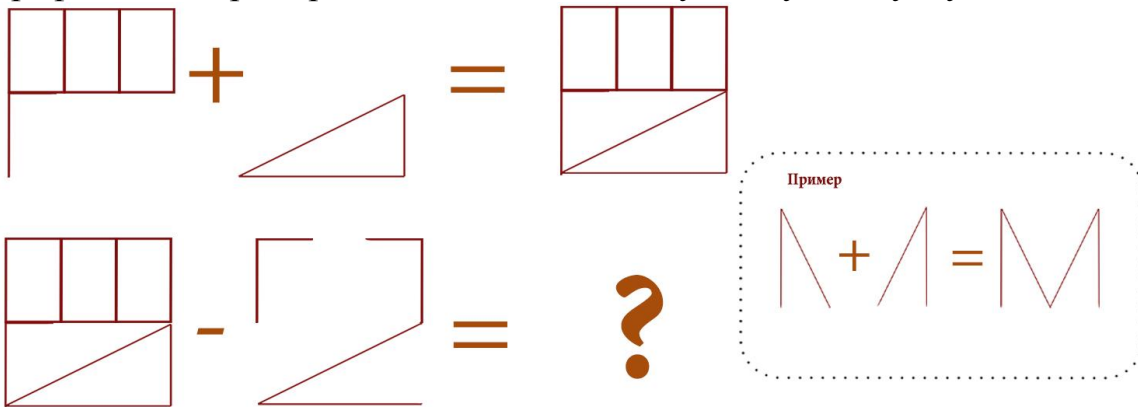
1. Добро
2. Дочка
3. Доработать
4. Дозор

В ответе укажи только номер выбранного варианта (1 или 2 или 3 или 4)

Задание №10

Графические примеры

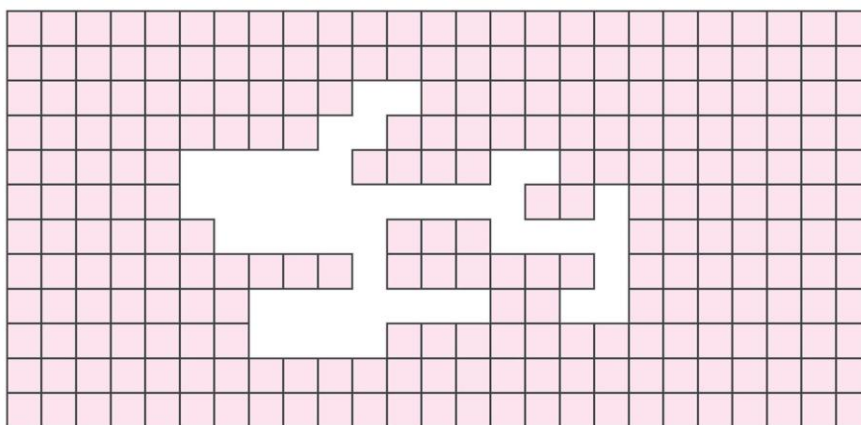
Реши наш графический пример. В ответе запиши получившуюся букву!



В ответе запиши получившуюся букву

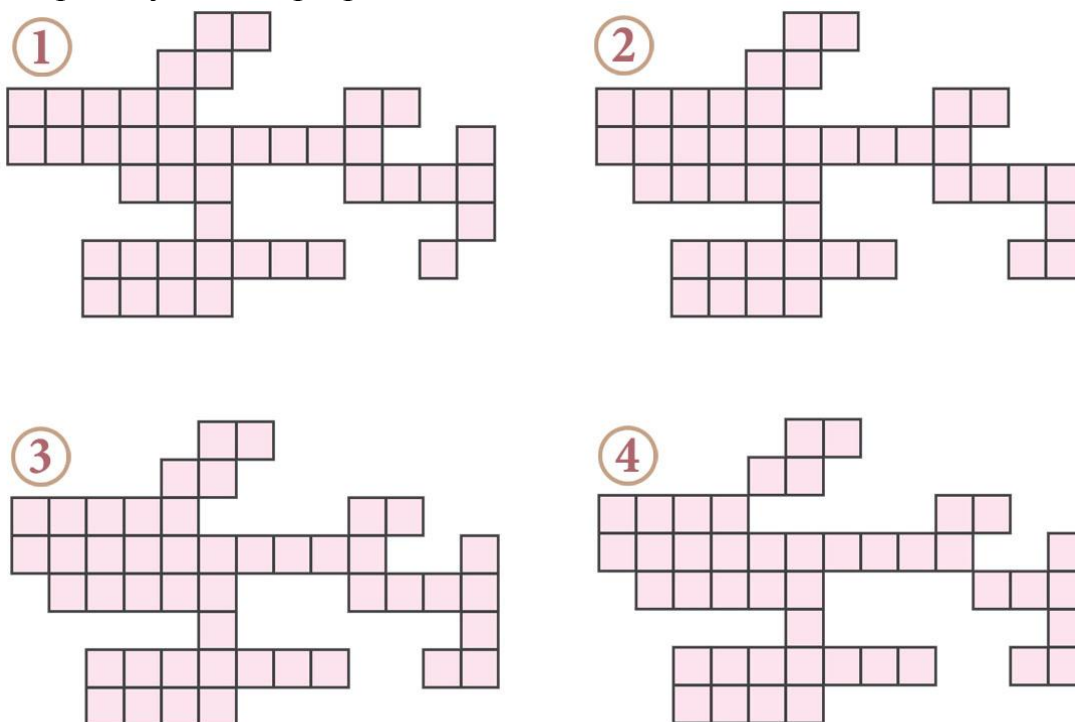
Задание №11

Варя случайно порвала своё любимое платье.



Какой кусочек нужно взять, чтобы сделать заплатку?

Для удобства картинку можно разрезать.



В ответе укажи только номер выбранного варианта (1 или 2 или 3 или 4)

Задание №12

Проверь-ка себя! К какой природной зоне относится это описание?

До самого горизонта простиралась холмистая равнина, покрытая снегом. На ней не было видно ни деревца, ни кустика. Тишина и безлюдье кругом. Лишь вдали виднелось стадо оленей, да снег скрипел под полозьями нарт.



- ① ТУНДРА ② ТАЙГА ③ ЛЕСОСТЕПЬ

В ответе укажи только номер выбранного варианта (1 или 2 или 3)

Задание №13

Из названия этой интересной профессии выпали все гласные буквы.

П _ Р _ В _ ДЧ _ К

В каком из этих рядов записаны все пропущенные буквы?

1. И, Ё, А, О
2. О, У, У, И
3. Е, Е, О, И
4. О, И А, О

В ответе укажи только номер выбранного варианта (1 или 2 или 3 или 4)

Задание №14

Помоги ВАЛЛ-И разместить ящик в специальную ячейку. Выбери набор команд, который поможет роботу сдвинуть ящик в указанное место.

① ↑ ← ↑ → → ↓

② ↑ → ↓ ← ↑

③ ← ↑ → ↑ → ↓



ВАЛЛ-И не может находиться на одной клетке с ящиком. Перемещаясь на клетку, где лежит ящик, ВАЛЛ-И сдвигает его на соседнюю клетку.

Пример

а. ↓ → ↑ →

б. → ↑ → ↓

в. → ↑ → ↑

ВАЛЛ-И не может находиться на одной клетке с ящиком. Перемещаясь на клетку, где лежит ящик, ВАЛЛ-И сдвигает его на соседнюю клетку.

В ответе укажи только номер выбранного варианта (1 или 2 или 3)

Задание №15

Средний рост лилипута в произведении Джонатана Свифта равен 15 см. Лилипуты измерили рост Гулливера и определили, что он находится в соотношении 12:1 к лилипутскому. Вычисли рост Гулливера в см.

— — —

В ответе запиши получившийся результат

Задание №16

Определи, каким двум персонажам принадлежит этот диалог:

«– Ну, это такая штука, это такая штука, понимаешь, часы. Они ходят.

– Как ходят? У них ведь лап нет.

– Ну как тебе объяснить, это только говорится, что они ходят, а на самом деле они стучат, стучат, а потом бьют.

– Ого, они еще дерутся?»

1. Маугли и Багира
2. Карлсон и Малыш
3. Винни-Пух и Тигра
4. Бобик и Барбос

В ответе укажи только номер выбранного варианта (1 или 2 или 3 или 4)

Задание №17

Вспоминай сказку С. Лагерлёф про заколдованного мальчика «Чудесное путешествие Нильса с дикими гусями». Во время путешествия в Лапландию его ожидали сказочные приключения, во время которых он храбро сражался с неприятностями и всегда выходил победителем.

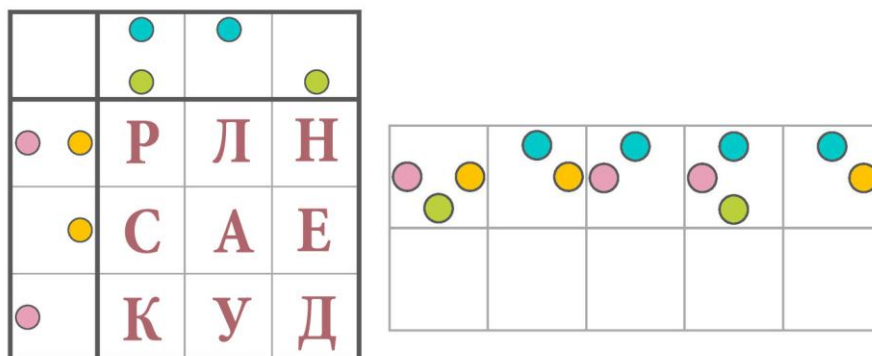
При помощи какого музыкального инструмента мальчику удалось избавить Глиммингенский замок от полчищ крыс?

1. Весёлая гитара
2. Волшебная дудочка
3. Шаманский бубен
4. Старая флейта

В ответе укажи только номер выбранного варианта (1 или 2 или 3 или 4)

Задание №18

Любишь загадки и шифры? Мы подготовили для тебя увлекательное задание. Расшифруй слово.



В ответе запиши получившееся слово

Задание №19

Расшифруй названия всех этих живых существ и выбери лишнее, которое выбивается из данной группы.

1. Цаниси
2. Лугобь
3. Требяс
4. Куонь

В ответе укажи только номер выбранного варианта (1 или 2 или 3 или 4)

Задание №20

На каждом материке есть свои известные особенные места. Выбери из списка то, что расположено на африканском континенте.



- ① ЭВЕРЕСТ ② КИЛИМАНДЖАРО ③ ГАНГ

В ответе укажи только номер выбранного варианта (1 или 2 или 3)

Уважаемые ребята, родители и координаторы!

Мы будем очень благодарны Вам за оставленный отзыв о конкурсе.

Нам очень важно знать ваше мнение о конкурсных заданиях. Что нового вы узнали, участвуя в конкурсе? Какие задания показались легкими? А какие самыми сложными? Что вам не понравилось? Хотели бы вы еще участвовать в подобных конкурсах?

Ждем все Ваши предложения, пожелания и замечания на наши электронные адреса:

mir-konkursov2008@yandex.ru и mir-konkursov2018@yandex.ru