

Международный турнир по математике «Лидер» (для дошкольников)

Задания

Ответ должен быть представлен строго в виде **ОДНОГО ЧИСЛА** или **СЛОВА** (согласно условию задания) без кавычек, точек и других дополнительных символов. Неверно записанные ответы не учитываются. Рекомендуем, чтобы задания зачитывал педагог или родитель.

Задание №1

Ребята, сосчитайте, сколько грибов растет на полянке.



В ответе запишите только количество грибов

Задание №2

Ребята, посмотрите на картинку. Вася нарисовал паровозик и пронумеровал вагоны цифрами от 1 до 9. *А какую цифру Вася пропустил?*



В ответе запишите только пропущенную цифру

Задание №3


Какая цифра скрывается за бабочкой?

$$7 - \text{бабочка} = 4$$

В ответе запишите только эту цифру.

Задание №4


Ребята, посмотрите на картинку и сосчитайте, в какой вазе больше всего цветов.



В ответе запишите только номер вазы, в которой больше всего цветов

Задание №5

Ребята, посмотрите на картинку. Сосчитайте, сколько клубничек Маше нужно съесть, чтобы их стало столько, сколько показывает цифра на картинке.



В ответе запишите только число клубничек, которые нужно съесть

Задание №6

Выбери подходящий карандаш с соблюдением следующих условий: не синий, не жёлтый и не самый длинный.

1. Синий
2. Красный
3. Желтый
4. Зеленый

В ответе укажите только номер выбранного варианта (1 или 2 или 3 или 4)



Задание №7

В соревнованиях по прыжкам в длину принимали участие 8 кузнечиков. Все, кроме пяти кузнечиков, заняли призовые места. *Сколько кузнечиков заняли призовые места?*

В ответе запишите только число кузнечиков

Задание №8

Ребята, определите, по какому правилу меняются птички. Продолжите заданную последовательность!



В ответе укажите только номер выбранного варианта (1 или 2 или 3)

Задание №9

Ребята, посмотрите на картинку. Какую постройку Вася собрал из деталей, изображенных в верхней части рисунка?



В ответе укажите только номер выбранного варианта (1 или 2 или 3)

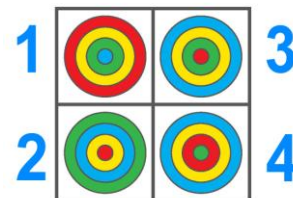


Задание №10

Ребята, посмотрите на картинку и помогите Коле определить, как его постройка выглядит сверху.



В ответе укажите только номер выбранного варианта (1 или 2 или 3 или 4)



Задание №11

Посмотрите на картинку. Сосчитайте количество букв «а» в названии каждого фрукта на картинке. В названии какого фрукта больше букв «а»?



1



2



3



4

В ответе укажите только номер выбранного варианта (1 или 2 или 3 или 4)

Задание №12

Ребята, посмотрите на картинку. Петя собрал ракету из разных геометрических фигур. Вес каждой фигуры указан на рисунке. *Сколько килограммов весит такая ракета?*

В ответе укажите только полученное число

