



II Международный интеллектуальный турнир

«Азбука знаний» (для учащихся 2 классов)



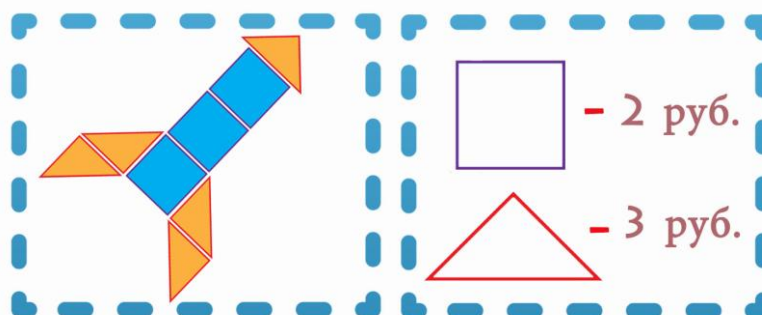
Мир конкурсов
ЛИДЕР
www.mir-konkursov.ru

Задания

Ответ должен быть представлен строго в виде **ОДНОГО СЛОВА**, **БУКВЫ** или **ЧИСЛА** (согласно условию задания) без кавычек, точек, орфографических ошибок. Некоторые вопросы содержат подсказку – буквы ответа. Букву «ё» можно писать как «ё» или как «е». Неверно записанные ответы не учитываются.

Задание №1

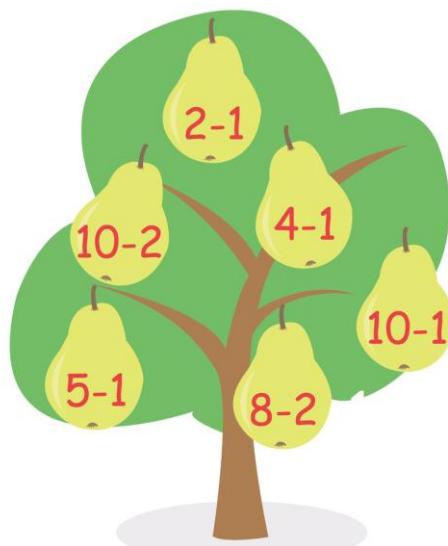
Ракета состоит из различных геометрических фигур. Каждая фигура имеет определённую стоимость. Посчитай, сколько стоит такая ракета?



В ответе запиши получившийся результат

Задание №2

Ребята, на нашем волшебном дереве выросло 6 груш. Решите пример на каждой груше и определите, на каких грушах ответ является четным числом, а на каких – нечетным. **Каких ответов на грушах больше – четных или нечетных?**

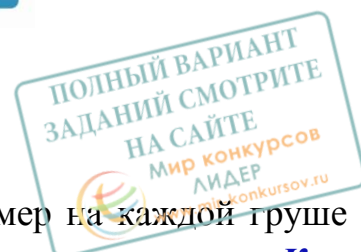


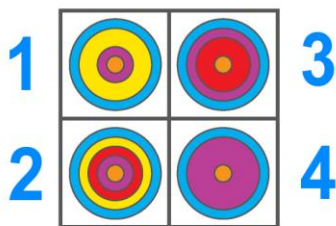

1. четных ответов больше
2. нечетных ответов больше
3. количество четных и нечетных ответов одинаково

В ответе укажите только номер выбранного варианта (1 или 2 или 3)

Задание №3

Ребята, посмотрите на картинку и помогите Коле определить, как его постройка выглядит сверху.

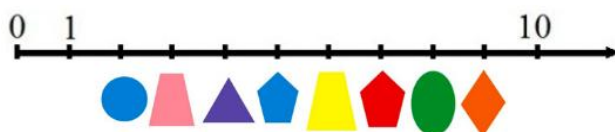




В ответе укажите только номер выбранного варианта (1 или 2 или 3 или 4)

Задание №4

Воспользуйся волшебной числовой шкалой



и вычисли ответ для этого примера:

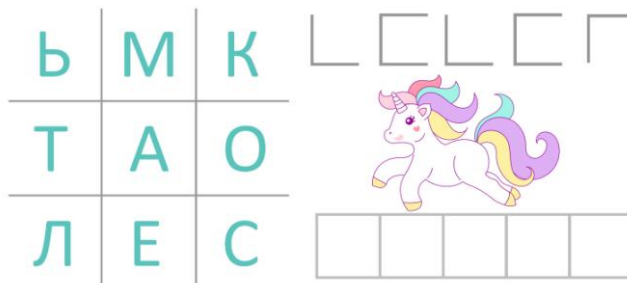


В ответе запиши полученный результат числом

Задание №5

Шифровка от единорога


Расшифруй и запиши слово с помощью кода.



В ответе запиши получившееся слово

Задание №6

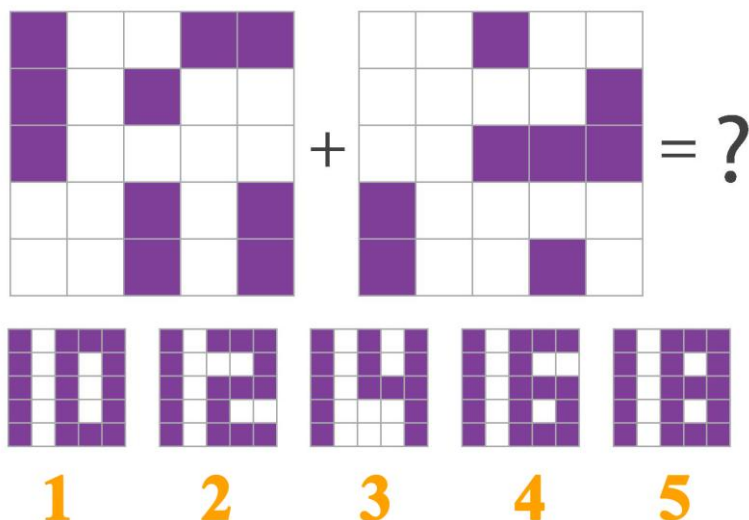
Варя собирала на лужайках цветы и заблудилась. Чтобы найти дорогу домой, она должна возвращаться только по лужайкам, на которых **нечётное** количество цветов. Помни, что передвигаться можно только **по горизонтали** или **по вертикали**. Помоги Варе найти правильную дорогу! Сколько лужаек с **нечётным** количеством цветов ты насчитал?



В ответе запиши количество лужаек с нечётным количеством цветов

Задание №7

Ребята, давайте поиграем! Наложите друг на друга две верхние картинку. Какая картинка получится в результате? *Выберите правильную картинку из пяти нижних вариантов.*



В ответе укажите только номер выбранного варианта (1 или 2 или 3 или 4 или 5)

Задание №8

Маша пригласила друзей на чай к 13 часам. Кто из гостей пришел раньше на 2 часа?



1. Даша

2. Вика

3. Петя

4. Вася

В ответе укажите только номер выбранного варианта (1 или 2 или 3 или 4)

Внимание! Полностью задания конкурса можно получить с 22 сентября в личном кабинете координатора на сайте «Мир конкурсов ЛИДЕР» <http://www.mir-konkursov.ru/>