



## II Международный интеллектуальный турнир

### «Азбука знаний» (для учащихся 3-4 классов)



Мир конкурсов  
ЛИДЕР  
www.mir-konkursov.ru


#### Ответы

Ответ должен быть представлен строго в виде **ОДНОГО СЛОВА**, **БУКВЫ** или **ЧИСЛА** (согласно условию задания) без кавычек, точек, орфографических ошибок. Некоторые вопросы содержат подсказку – буквы ответа. Букву «ё» можно писать как «е» или как «е». Неверно записанные ответы не учитываются.

| Задание №1  |   | Ответ   |
|---|---|---|
| <p>Какое число нужно поставить Марине вместо знака вопроса?</p> <p style="text-align: center;"><b>27 x 3 = 112 - ?</b></p> <p style="text-align: center;">--</p> <p><i>В ответе запиши получившийся результат</i></p>   |    | 31  |
| Задание №2  |   | Ответ   |
| <p>Вася построил фигуру из кубиков. Ребята, сосчитайте, из сколько маленьких кубиков состоит данная фигура. <i>Сколько кубиков Васе нужно добавить, чтобы фигура состояла из 30 элементов?</i></p> <p>1. 5 кубиков<br/>2. 7 кубиков<br/>3. 10 кубиков<br/>4. 15 кубиков</p> <p><i>В ответе укажите только номер выбранного варианта (1 или 2 или 3 или 4)</i></p> |    | <p style="text-align: center; font-size: 2em;">2</p> <p><i>Решение:<br/>Данная постройка состоит из 23 кубиков. Чтобы она состояла из 30 элементов, нужно добавить еще 7 кубиков.</i></p> |
| Задание №3  |   | Ответ   |
| <p>Ученикам дали задание посчитать, сколько пакетов с соком войдёт в большую коробку. Помогите ребятам решить эту задачку, если известно, что пакеты с напитком должны стоять в коробке вертикально (как показано на рисунке).</p> <p style="text-align: center;">--</p> <p><i>В ответе напиши получившийся результат</i></p>                                     |   | 80  |
| Задание №4  |   | Ответ   |
| <p>Собери квадрат из двух частей. Найди нужную деталь и укажи её номер в ответе. Для удобства картинку можно разрезать.</p>  <p><i>В ответе укажи только номер выбранного варианта (1 или 2 или 3 или 4)</i></p>   |  | 4   |

### Задание №5

Хитрый преподаватель математики решил усложнить ученикам задачу и записал пример на доске римскими цифрами. Какое число нужно написать вместо знака вопроса? Воспользуйся этой подсказкой:



— —

*В ответе запиши получившийся результат обычными (арабскими) цифрами*



49  
93-44

### Задание №6

Три братца-поросёнка построили себе три домика. Один домик из соломы, второй – из прутьев, третий – из камней. И каждый из братьев поселился в своём собственном доме.

Ниф-Ниф – в домике не из камней и не из прутьев.

Нуф-Нуф – в домике не из камней.

Помоги поросёнку Наф-Нафу найти свободное жилище.

1. Домик из соломы
2. Домик из камней
3. Домик из прутьев

*В ответе укажи только номер выбранного варианта (1 или 2 или 3)*



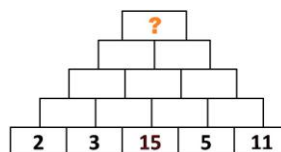
2

### Задание №7

В нижних клетках вписаны числа. Складываем два рядом стоящих числа и их сумму записываем в ячейке над ними. Для решения этого задания заполни все клеточки математической пирамиды и в ответе запиши получившийся общий результат.

— — —

*В ответе запиши получившийся общий результат*



135

### Задание №8

Разгадай ребус. Кого так называют?



Выбери вариант ответа ниже.



2  
Медведь



*В ответе укажи только номер выбранного варианта (1 или 2 или 3)*

**Задание №9**

**Ответ**

Здесь представлено четыре варианта ответа и только один из них правильный. Отметь слово, в котором есть приставка.

1. Добро
2. Дочка
3. Доработать
4. Дозор

*В ответе укажи только номер выбранного варианта (1 или 2 или 3 или 4)*



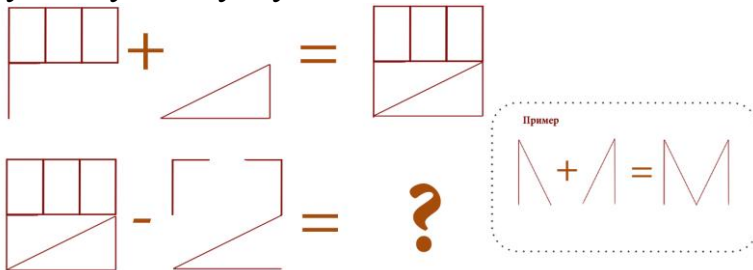
3

**Задание №10**

**Ответ**

Графические примеры

Реши наш графический пример. В ответе запиши получившуюся букву!



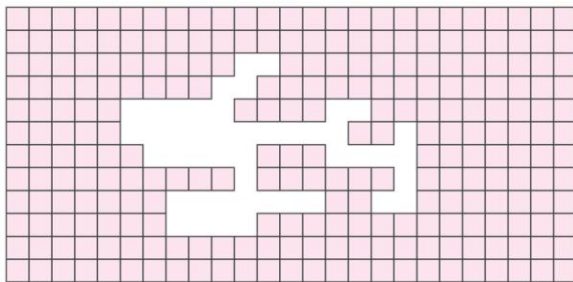
Д

*В ответе запиши получившуюся букву*

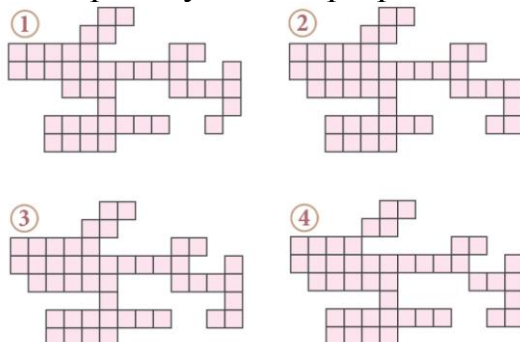
**Задание №11**

**Ответ**

Варя случайно порвала своё любимое платье.



Какой кусочек нужно взять, чтобы сделать заплатку?  
Для удобства картинку можно разрезать.



3

*В ответе укажи только номер выбранного варианта (1 или 2 или 3 или 4)*



### Задание №12

Проверь-ка себя! К какой природной зоне относится это описание?

До самого горизонта простиралась холмистая равнина, покрытая снегом. На ней не было видно ни деревца, ни кустика. Тишина и безлюдье кругом. Лишь вдали виднелось стадо оленей, да снег скрипел под полозьями нарт.



- ① ТУНДРА    ② ТАЙГА    ③ ЛЕСОСТЕПЬ

В ответе укажи только номер выбранного варианта (1 или 2 или 3)



1  
Тундра

### Задание №13

Из названия этой интересной профессии выпали все гласные буквы.

**П \_ Р \_ В \_ ДЧ \_ К**

В каком из этих рядов записаны все пропущенные буквы?

- И, Ё, А, О
- О, У, У, И
- Е, Е, О, И
- О, И А, О

В ответе укажи только номер выбранного варианта (1 или 2 или 3 или 4)



3  
Переводчи  
к

### Задание №14

Помоги ВАЛЛ-И разместить ящик в специальную ячейку. Выбери набор команд, который поможет роботу сдвинуть ящик в указанное место.

- ↑ ← ↑ → → ↓
- ↑ → ↓ ← ↑
- ← ↑ → ↑ → ↓



Пример

ВАЛЛ-И не может находиться на одной клетке с ящиком. Перемещаясь на клетку, где лежит ящик, ВАЛЛ-И сдвигает его на соседнюю клетку.

а. ↓ → ↑ →

б. ↑ → ↓ ↓





в. → ↑ → ↑

ВАЛЛ-И не может находиться на одной клетке с ящиком. Перемещаясь на клетку, где лежит ящик, ВАЛЛ-И сдвигает его на соседнюю клетку.

В ответе укажи только номер выбранного варианта (1 или 2 или 3)



3

| Задание №15   |   | Ответ  |   |   |   |   |   |   |   |   |   |  |  |   |   |   |   |  |   |  |   |   |   |  |   |   |   |   |   |   |   |   |   |   |  |  |  |  |  |  |  |  |  |  |   |   |
|---|---|--|---|---|---|---|---|---|---|---|---|--|--|---|---|---|---|--|---|--|---|---|---|--|---|---|---|---|---|---|---|---|---|---|--|--|--|--|--|--|--|--|--|--|---|---|
| <p>Средний рост лилипута в произведении Джонатана Свифта равен 15 см. Лилипуты измерили рост Гулливера и определили, что он находится в соотношении 12:1 к лилипутскому. Высчитай рост Гулливера в см.</p> <p style="text-align: center;">— — —</p> <p><i>В ответе запиши получившийся результат</i></p>  |    | <p style="text-align: center;"><b>180</b><br/><b>15*12=180</b></p> |   |   |   |   |   |   |   |   |   |  |  |   |   |   |   |  |   |  |   |   |   |  |   |   |   |   |   |   |   |   |   |   |  |  |  |  |  |  |  |  |  |  |   |   |
| <p style="text-align: center;">Задание №16</p> <p>Определи, каким двум персонажам принадлежит этот диалог:</p> <p><i>«– Ну, это такая штука, это такая штука, понимаешь, часы. Они ходят.<br/>– Как ходят? У них ведь лап нет.<br/>– Ну как тебе объяснить, это только говорится, что они ходят, а на самом деле они стучат, стучат, а потом бьют.<br/>– Ого, они еще дерутся?»</i></p> <ol style="list-style-type: none"> <li>1. Маугли и Багира</li> <li>2. Карлсон и Малыш</li> <li>3. Винни-Пух и Тигра</li> <li>4. Бобик и Барбос</li> </ol> <p><i>В ответе укажи только номер выбранного варианта (1 или 2 или 3 или 4)</i></p>   |    | <p style="text-align: center;"><b>4</b></p>                        |   |   |   |   |   |   |   |   |   |  |  |   |   |   |   |  |   |  |   |   |   |  |   |   |   |   |   |   |   |   |   |   |  |  |  |  |  |  |  |  |  |  |   |   |
| <p style="text-align: center;">Задание №17</p> <p>Вспоминай сказку С. Лагерлёф про заколдованного мальчика «Чудесное путешествие Нильса с дикими гусями». Во время путешествия в Лапландию его ожидали сказочные приключения, во время которых он храбро сражался с неприятностями и всегда выходил победителем.</p> <p>При помощи какого музыкального инструмента мальчику удалось избавить Глиммингенский замок от полчищ крыс?</p> <ol style="list-style-type: none"> <li>1. Весёлая гитара</li> <li>2. Волшебная дудочка</li> <li>3. Шаманский бубен</li> <li>4. Старая флейта</li> </ol> <p><i>В ответе укажи только номер выбранного варианта (1 или 2 или 3 или 4)</i></p>   |  | <p style="text-align: center;"><b>2</b></p>                        |   |   |   |   |   |   |   |   |   |  |  |   |   |   |   |  |   |  |   |   |   |  |   |   |   |   |   |   |   |   |   |   |  |  |  |  |  |  |  |  |  |  |   |   |
| <p style="text-align: center;">Задание №18</p> <p>Любишь загадки и шифры? Мы подготовили для тебя увлекательное задание. Расшифруй слово.</p> <table border="1" data-bbox="252 1921 715 2101"> <tr> <td></td> <td></td> <td>●</td> <td>●</td> <td></td> <td></td> </tr> <tr> <td>●</td> <td>●</td> <td>Р</td> <td>Л</td> <td>Н</td> <td></td> </tr> <tr> <td></td> <td>●</td> <td>С</td> <td>А</td> <td>Е</td> <td></td> </tr> <tr> <td>●</td> <td></td> <td>К</td> <td>У</td> <td>Д</td> <td></td> </tr> </table> <table border="1" data-bbox="453 1980 715 2092"> <tr> <td>●</td> <td>●</td> <td>●</td> <td>●</td> <td>●</td> <td>●</td> <td>●</td> <td>●</td> <td>●</td> <td>●</td> </tr> <tr> <td></td> <td></td> <td></td> <td></td> <td></td> <td></td> <td></td> <td></td> <td></td> <td></td> </tr> </table> <p><i>В ответе запиши получившееся слово</i></p> |   |  | ● | ● |   |   | ● | ● | Р | Л | Н |  |  | ● | С | А | Е |  | ● |  | К | У | Д |  | ● | ● | ● | ● | ● | ● | ● | ● | ● | ● |  |  |  |  |  |  |  |  |  |  |  | <p style="text-align: center;"><b>Наука</b></p> |
|   |   | ●  | ● |   |   |   |   |   |   |   |   |  |  |   |   |   |   |  |   |  |   |   |   |  |   |   |   |   |   |   |   |   |   |   |  |  |  |  |  |  |  |  |  |  |   |   |
| ●   | ●   | Р  | Л | Н |   |   |   |   |   |   |   |  |  |   |   |   |   |  |   |  |   |   |   |  |   |   |   |   |   |   |   |   |   |   |  |  |  |  |  |  |  |  |  |  |   |   |
|   | ●   | С  | А | Е |   |   |   |   |   |   |   |  |  |   |   |   |   |  |   |  |   |   |   |  |   |   |   |   |   |   |   |   |   |   |  |  |  |  |  |  |  |  |  |  |   |   |
| ●   |   | К  | У | Д |   |   |   |   |   |   |   |  |  |   |   |   |   |  |   |  |   |   |   |  |   |   |   |   |   |   |   |   |   |   |  |  |  |  |  |  |  |  |  |  |   |   |
| ●   | ●   | ●  | ● | ● | ● | ● | ● | ● | ● |   |   |  |  |   |   |   |   |  |   |  |   |   |   |  |   |   |   |   |   |   |   |   |   |   |  |  |  |  |  |  |  |  |  |  |   |   |
|   |   |  |   |   |   |   |   |   |   |   |   |  |  |   |   |   |   |  |   |  |   |   |   |  |   |   |   |   |   |   |   |   |   |   |  |  |  |  |  |  |  |  |  |  |   |   |

**Задание №19**

Расшифруй названия всех этих живых существ и выбери лишнее, которое выбивается из данной группы.

1. Цаниси
2. Лугобь
3. Требяс
4. Куонь

*В ответе укажи только номер выбранного варианта (1 или 2 или 3 или 4)*



**4**  
**Окунь**

**Задание №20**

На каждом материке есть свои известные особенные места. Выбери из списка то, что расположено на африканском континенте.



- ① ЭВЕРЕСТ    ② КИЛИМАНДЖАРО    ③ ГАНГ

*В ответе укажи только номер выбранного варианта (1 или 2 или 3)*



**2**  
**Килиманджаро**

Уважаемые ребята, родители и координаторы!

Мы будем очень благодарны Вам за оставленный отзыв о конкурсе.

Нам очень важно знать ваше мнение о конкурсных заданиях. Что нового вы узнали, участвуя в конкурсе? Какие задания показались легкими? А какие самыми сложными? Что вам не понравилось? Хотели бы вы еще участвовать в подобных конкурсах?

Ждем все Ваши предложения, пожелания и замечания на наши электронные адреса:

mir-konkursov2008@yandex.ru и mir-konkursov2018@yandex.ru