



## II Международный интеллектуальный турнир

### «Азбука знаний» (для учащихся 2 классов)



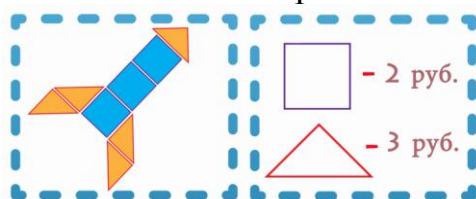
Мир конкурсов  
ЛИДЕР  
www.mir-konkursov.ru

#### Ответы

Ответ должен быть представлен строго в виде **ОДНОГО СЛОВА**, **БУКВЫ** или **ЧИСЛА** (согласно условию задания) без кавычек, точек, орфографических ошибок. Некоторые вопросы содержат подсказку – буквы ответа. Букву «ё» можно писать как «её» или как «е». Неверно записанные ответы не учитываются.

#### Задание №1

Ракета состоит из различных геометрических фигур. Каждая фигура имеет определённую стоимость. Посчитай, сколько стоит такая ракета?



*В ответе запиши получившийся результат*



#### Ответ

21

#### Задание №2

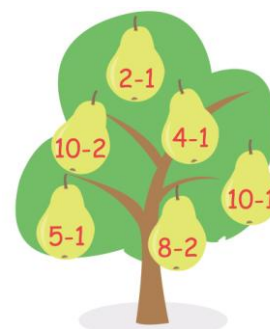
Ребята, на нашем волшебном дереве выросло 6 груш. Решите пример на каждой груше и определите, на каких грушах ответ является четным числом, а на каких – нечетным. *Каких ответов на грушах больше – четных или нечетных?*

1. четных ответов больше

2. нечетных ответов больше

3. количество четных и нечетных ответов одинаково

*В ответе укажите только номер выбранного варианта (1 или 2 или 3)*

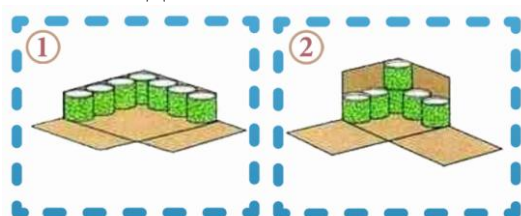


#### Ответ

3

#### Задание №3

Мама дала задание Маше и Коле посчитать, в какой коробке уместится больше консервов. Помоги ребятам справиться с этим заданием.



*В ответе укажи только номер выбранного варианта (1 или 2)*



#### Ответ

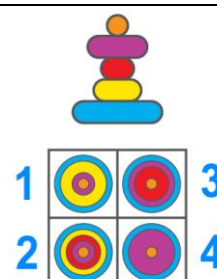
2

В коробку №2 поместится 18 банок.  
В коробку №1 поместится 16 банок.

#### Задание №4

Ребята, посмотрите на картинку и помогите Коле определить, как его постройка **выглядит сверху**.

*В ответе укажите только номер выбранного варианта (1 или 2 или 3 или 4)*



#### Ответ

4

**Задание №5**

Если  $T > И$ , то какой знак нужно поставить вместо точек?

$$E + T \dots E + И$$

1. <
2. =
3. >

*В ответе укажи только номер выбранного варианта (1 или 2 или 3)*

**Ответ**

3

**Задание №6**

Воспользуйся волшебной числовой шкалой



и вычисли ответ для этого примера:

$$\text{Yellow Triangle} + \text{Blue Pentagon} - \text{Orange Diamond} = ?$$

*В ответе запиши полученный результат числом*

**Ответ**

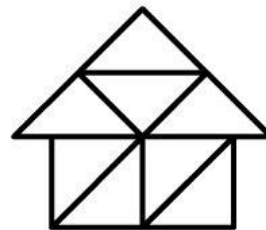
2

Решение:  
 $6+5-9=2$

**Задание №7**

Второклассник Витя построил дом из треугольников. Сколько всего треугольников ты видишь на этой картинке?

*В ответе запиши общее количество треугольников*

**Ответ**

9

Пояснение:  
домик состоит из 8 маленьких треугольников. 9 треугольником является крыша домика.

**Задание №8**

Догадайся, при помощи какого общего слова из двух букв могут получиться новые слова?

ВО...  
МО...  
БАН...  
ЯГО...  
ЕЗ...  
— —

*В ответе запиши общее окончание*

**Ответ**

Да

**Задание №9**

Шифровка от единорога  
Расшифруй и запиши слово с помощью кода.

Ь	М	К	□	□	□	□	Г
Т	А	О					
Л	Е	С					□

*В ответе запиши получившееся слово*

**Ответ**

Кокос

### Задание №10

Весёлый Поварёнок решил испечь вкусный пирог для своих друзей. Отгадай ребусы и выбери то, что понадобится Поварёнку для приготовления угощения.

1. 7я
2. ВиЗна
3. 40ка
4. Те100

*В ответе укажи только номер выбранного варианта (1 или 2 или 3 или 4)*



**4**  
*Тесто*

### Задание №11

Выбери средство передвижения, в названии которого самое большое количество одинаковых гласных звуков.



*В ответе укажи только номер выбранного варианта (1 или 2 или 3 или 4)*




**Ответ**

Засчитывались следующие варианты:  
**1, 2 и 4**

### Задание №12

Варя собирала на лужайках цветы и заблудилась. Чтобы найти дорогу домой, она должна возвращаться только по лужайкам, на которых **нечётное** количество цветов. Помни, что передвигаться можно только **по горизонтали** или **по вертикали**. Помоги Варе найти правильную дорогу! Сколько лужаек с **нечётным** количеством цветов ты насчитал?



*В ответе запиши количество лужаек с нечётным количеством цветов*



**Ответ**

**21**  
*лужайка*

На картинке пронумерованы лужайки с нечетным количеством цветов, по которым Варя вернулась домой.

### Задание №13

Из названия слова выпали все гласные буквы.

**М \_ Г Н \_ Т \_ Ф \_ Н**

В каком из этих рядов записаны все пропущенные буквы?

1. И, Ё, А, О
2. О, У, У, И
3. А, И, О, О
4. О, Е А, О

*В ответе укажи только номер выбранного варианта (1 или 2 или 3 или 4)*

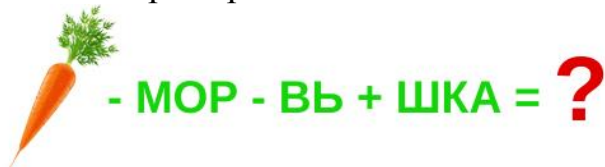


**Ответ**

**3**  
*Магнитофон*

**Задание №14**

Реши буквенный пример.



-----

*В ответе запиши образовавшееся слово*

**Ответ***Кошка***Задание №15**

Давай-ка вспомним прозвище милиционера-великана Степана Степанова из произведения Сергея Михалкова «Дядя Стёпа»!

1. Телебашня
2. Каланча
3. Вышка
4. Маяк

*В ответе укажи только номер выбранного варианта (1 или 2 или 3 или 4)*

**Ответ**

2  
*Каланча*

**Задание №16**

Какой герой известной сказки говорил эти слова:



1. Чебурашка
2. Умка
3. Винни-Пух

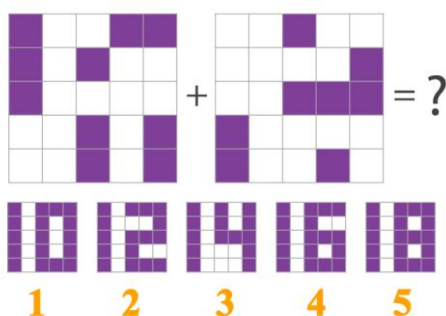
*В ответе укажи только номер выбранного варианта (1 или 2 или 3)*

**Ответ**

3  
*Винни-Пух*

**Задание №17**








Ребята, давайте поиграем! Наложите друг на друга две верхние картинку. Какая картинка получится в результате? *Выберите правильную картинку из пяти нижних вариантов.*



*В ответе укажите только номер выбранного варианта (1 или 2 или 3 или 4 или 5)*

**Ответ**

5

<b>Задание №18</b>		<b>Ответ</b>
<p>Как называется домик птички, сделанный «собственными лапками»?</p> <ol style="list-style-type: none"> <li>1. Курятник</li> <li>2. Гнездо</li> <li>3. Скворечник</li> </ol> <p><i>В ответе укажи только номер выбранного варианта (1 или 2 или 3)</i></p>		<p style="text-align: center;"><b>2</b> <i>Гнездо</i></p>
<b>Задание №19</b>		<b>Ответ</b>
<p>Маша пригласила друзей на чай к 13 часам. Кто из гостей пришел раньше на 2 часа?</p> <div style="display: flex; justify-content: space-around; align-items: center;">     </div> <p style="text-align: center;">1. Даша    2. Вика    3. Петя    4. Вася</p> <ol style="list-style-type: none"> <li>1. Даша</li> <li>2. Вика</li> <li>3. Петя</li> <li>4. Вася</li> </ol> <p><i>В ответе укажите только номер выбранного варианта (1 или 2 или 3 или 4)</i></p>		<p style="text-align: center;"><b>1</b> <i>Даша</i></p>
<b>Задание №20</b>		<b>Ответ</b>
<p>Это зрелищное явление природы переводится как «дождевая арка». Все от мала до велика любят ее красивыми переливами, которые получаются при взаимодействии яркого солнечного света и капель воды. И кажется, что художник-чародей случайно пролил на небесный холст всю палитру своих волшебных красок. О чём идёт речь?</p> <p style="text-align: center;">— а — — з —</p> <p><i>В ответе запиши название природного явления</i></p>		<p style="text-align: center;"><i>Радуга</i></p>

Уважаемые ребята, родители и координаторы!

Мы будем очень благодарны Вам за оставленный отзыв о конкурсе.

Нам очень важно знать ваше мнение о конкурсных заданиях. Что нового вы узнали, участвуя в конкурсе? Какие задания показались легкими? А какие самыми сложными? Что вам не понравилось? Хотели бы вы еще участвовать в подобных конкурсах?

Ждем все Ваши предложения, пожелания и замечания на наши электронные адреса:

mir-konkursov2008@yandex.ru и mir-konkursov2018@yandex.ru